

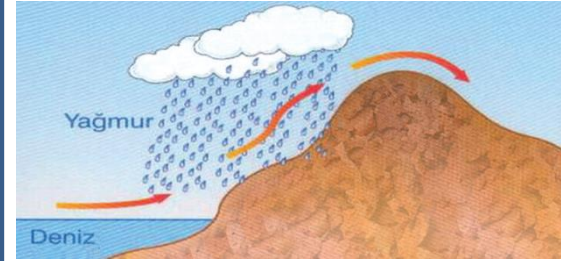
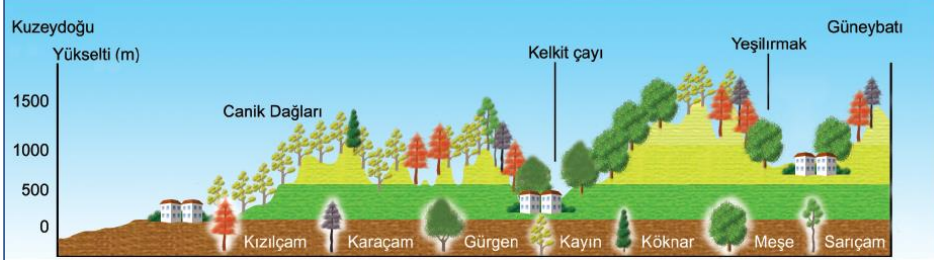
SINIFI :

NO :

ADI, SOYADI:

Hepinize başarılar dilerim.

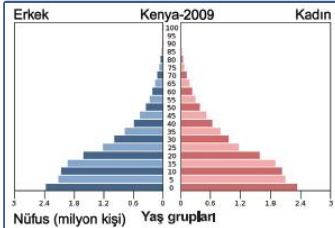
Aşağıdaki şekilde Orta Karadeniz’de bitki türlerinin değişimi gösterilmiştir. Bitki türlerinin dağılışını ve bu dağılıшта etkili olan faktörleri yazınız.(10p)



Yandaki şekilde görülen yağış türünün adını, oluşum şeklini, en fazla görülen bölgelerimizi ve buralarda görülmesinin temel nedenini yazınız. (12)

Aşağıda verilen tabloyu uygun bir şekilde doldurunuz. (12)

İKLİM	EN FAZLA YAĞIŞLI MEVSİM	EN AZ YAĞIŞLI MEVSİM	YAĞIŞ OLUŞUM ŞEKLİ
Akdeniz			
Karadeniz			
İç Anadolu Karasal			
Doğu Anadolu Karasal Erzurum-Kars			



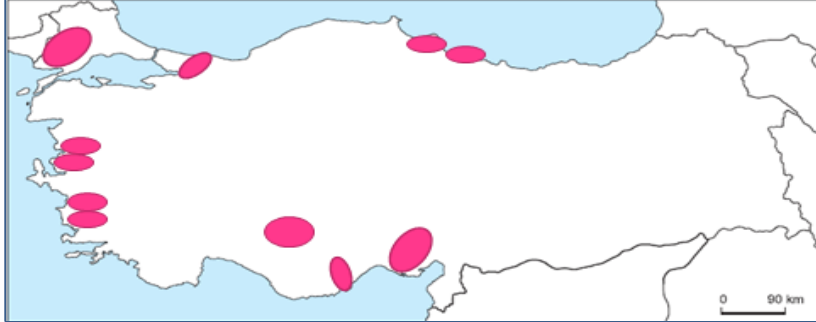
Yandaki nüfus piramidinin ait olduğu ülkenin özelliklerini yazınız. (9)

Psodömaki nedir? Relikt ve endemik bitki nedir? Açıklayınız. (12)

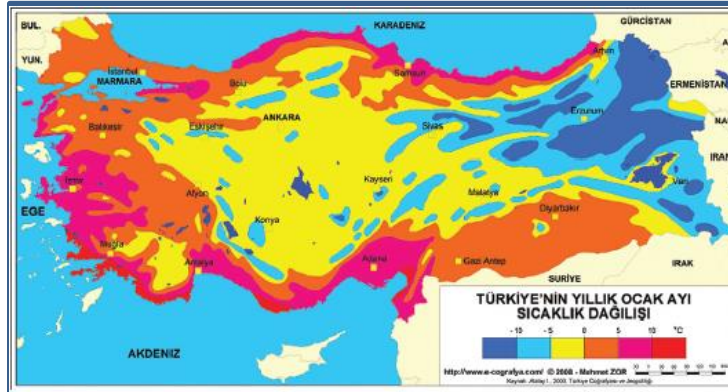
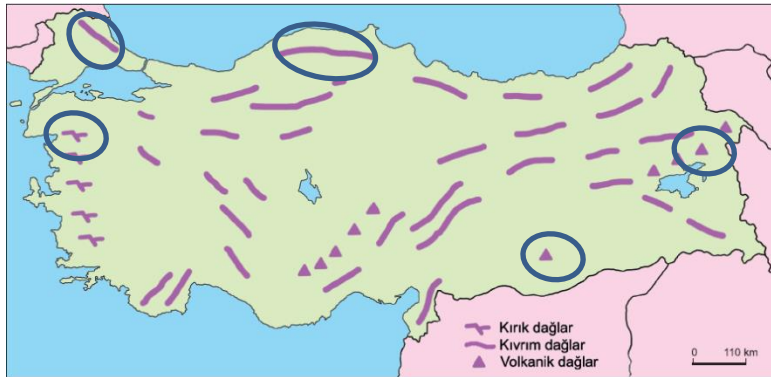
Aşağıda, Türkiye’de etkili olan rüzgarlar verilmiştir. Noktalı yerlere oklarla gösterilen rüzgarların adlarını yazınız. (10p)



Aşağıdaki haritada Türkiye’nin bazı ovaları gösterilmiştir. Bu ovaların isimlerini yanlarına yazınız. (10p)



Aşağıdaki haritada Türkiye’nin bazı dağları işaretlenerek gösterilmiştir. Bu dağların isimlerini yanlarına yazınız. (5p)



Yanda Ocak ayı ortalama sıcaklık dağılışı haritası verilmiştir. Haritayı incelediğinizde elde ettiğiniz sonuçları ve bu sonuçları ortaya çıkaran nedenleri yazınız. (12p)

Aşağıdaki kaynak tiplerinin adlarını yazınız ve oluşum şekillerini kısaca açıklayınız. (8p)

