
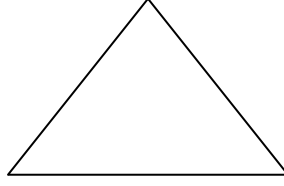


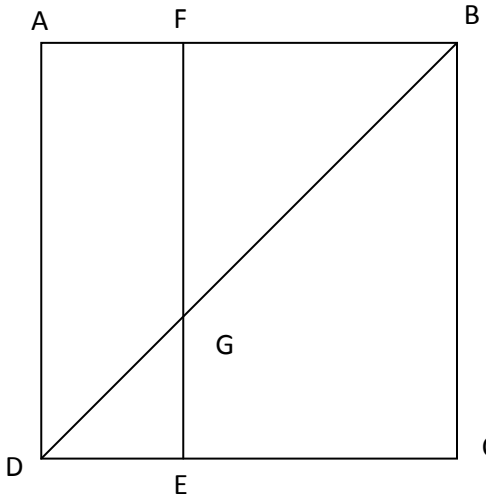
MATEMATİK DEĞERLENDİRME SORULARI

ADI SOYADI:

1-Verilen geometrik şekillerin isimlerini yazarak köşelerini adlandırınız.



2- Aşağıda verilen şekilde üçgen, kare ve dikdörtgenleri bulup isimlerini ve kenarlarını tabloya yazınız.



GEOMETRİK ŞEKL	İSMİ	KENARLARI
KARE		
DİKDÖRTGEN		
DİKDÖRTGEN		
ÜÇGEN		
ÜÇGEN		
ÜÇGEN		
ÜÇGEN		


3- Aşağıda ölçüleri verilen açıları açölçer kullanarak çizin.




$$s(\hat{E})=125$$



$$s(\hat{H})=30$$

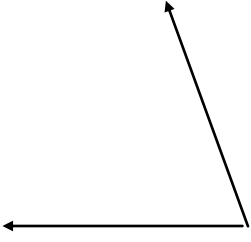


$$s(\hat{U})=150$$

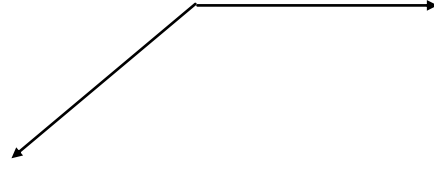


$$s(\hat{A})=70$$

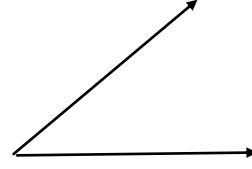
4-Aşağıda verilen açıları adlandırınız, açının ölçüsünü ve türünü (DAR,GENİŞ,DİK,DOĞRU) yazınız.



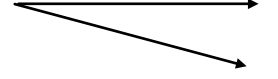
Açının türü :
Açının ölçüsü:



Açının türü :
Açının ölçüsü:



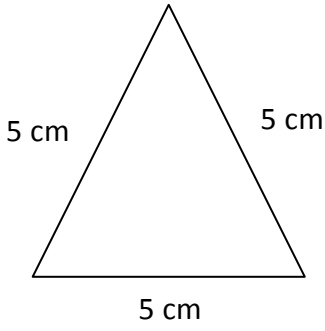
Açının türü :
Açının ölçüsü:



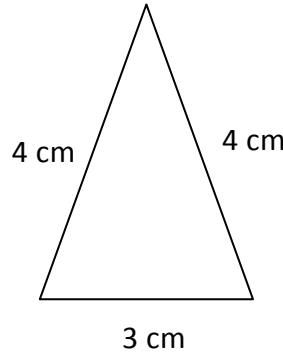
Açının türü :
Açının ölçüsü:

5-Aşağıda verilen üçgenleri kenarlarına göre çeşitlerin yazınız.

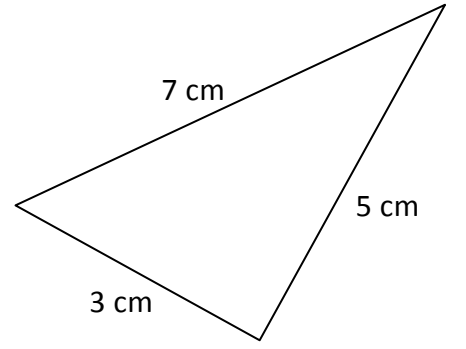
5-



.....üçgen

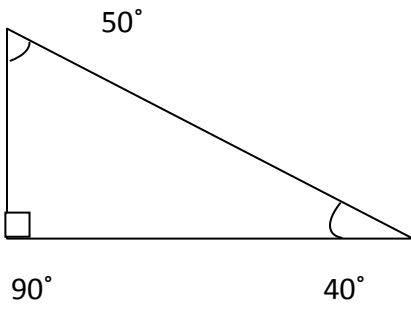


..... üçgen

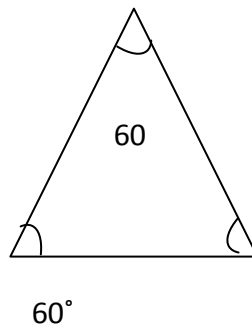


..... üçgen

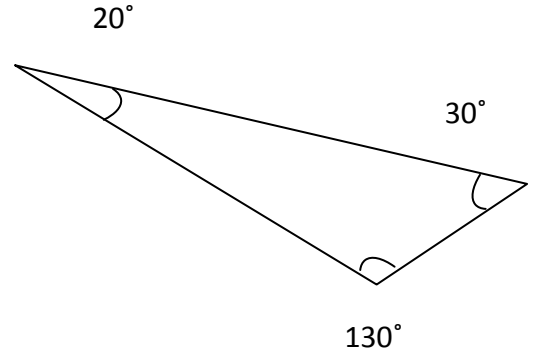
6-Aşağıda verilen üçgenleri açılarına göre çeşitlerin yazınız.



.....üçgen



..... üçgen



..... üçgen