

ELDELİ TOPLAMA İŞLEMİ

1) Aşağıda verilen toplama işlemlerini yapın.

$$24 + 5 + 24 = \boxed{}$$

$$17 + 12 + 1 = \boxed{}$$

$$36 + 27 + 5 = \boxed{}$$

$$3 + 46 + 44 = \boxed{}$$

$$63 + 27 + 1 = \boxed{}$$

$$43 + 9 + 25 = \boxed{}$$





$$9 + 15 + 19 = \boxed{}$$

$$53 + 37 + 8 = \boxed{}$$

$$28 + 38 + 8 = \boxed{}$$

$$41 + 4 + 56 = \boxed{}$$

2) Aşağıda verilen işlemlerin sonucunu bularak ayıcıklara uygun şapkalar ile eşleştirin ve şapkaları ayıcıkların renklerine boyayın.



- 3) Ahmet 27 yaşındadır. Babası, Ahmet'ten 26 yaş büyük olduğuna göre; Ahmet ile babasının yaşları toplamı kaçtır?

[illegible]

- 4) 6 onluk 3 birlikten oluşan bir sayı ile 1 onluk 9 birlikten oluşan bir sayıyı toplarsak sonucu kaç buluruz?

[illegible]

- 5) Cemre'nin kumbarasında 43 lira parası var. Annesi 17 lira, babası ise 25 lira kumbaraya para atıyorlar. Cemre'nin kumbarasında kaç lirası oldu?

[illegible]