

Adı Soyadı : .....

Numarası : .....

1) Aşağıdaki cümlelerde eksik bırakılan yerleri uygun kavramlarla tamamlayınız.

- İşlerimiz daha kolay yapabilmek için kullandığımız araç, gereç,bilgi ve yöntemlerin hepsine ..... denir.
- İcat yapan bilim adamlarına ..... denir.
- Zamanı günlere, aylara ve yıllara bölen çizelgeye ..... denir.
- Hz. Muhammed'in Mekke'den Medine'ye göçünü esas alan takvim ..... takvimdir.
- Üretilen mal ve hizmetin müşteriler tarafından satın alınmasına ..... denir.
- İnsanların geçinebilmek için yaptıkları işe ..... denir.
- Belirli bir zamana ait gelir ve giderleri gösteren listeye ..... denir.
- Takvimi zamanımızdan 6000 yıl önce ..... bulmuştur.
- Yazı , M.Ö. 3200 yıllarında ..... tarafından bulunmuştur.
- Aydınlatma araçlarının gelişimi ..... bulunması ile başlamıştır.

2) Geçmişten günümüze televizyonun gelişimi ile ilgili aşağıdaki ifadeleri numaralandırarak kronolojik sıraya koyunuz.

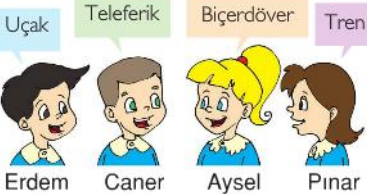
- ( ) ilk renkli televizyon yayınları 1 956 yılında ABD'de başladı.
- ( ) 1 982 yılında Türkiye'de renkli televizyon yayınına geçildi.
- ( ) iskoç Mucit John Logie Baird, 1 925 yılında ilk canlı televizyon yayınıni gerçekleştirdi.
- ( ) Türkiye'de 1 968 yılında siyah beyaz televizyon yayını yapılmaya başladı.
- ( ) 1 936 yılında İngiltere'de ilk siyah beyaz televizyon yayını yapılmaya başladı.

3) Aşağıdaki tümcelerden doğru olanların başına "D", yanlış olanlara "Y" yazınız.

- ( ) Miladi takvim güneşin hareketlerine göre oluşturulmuştur.
- ( ) Geçmişte insanlar duman, davul ve güvercin gibi araçlarla haberleşmiş.
- ( ) Uçağın ve trenin kullanım alanları aynıdır.
- ( ) Teknolojik ürünler, işlerin hızlı ve kolay yapılmasını sağlar.
- ( ) Teknolojik ürünlerin doğaya hiçbir zararı yoktur.



Çocuklar, ulaşım alanında kullanılan teknolojik ürünler nelerdir? Örnek verebilir misiniz?



Öğretmenin sorusuna hangi öğrenci yanlış yanıt vermiştir?

- A) Erdem
- B) Aysel
- C) Caner
- D) Pınar

5) Hangi seçenek ulaşım teknolojisindeki gelişmeden söz etmektedir?

- A) Cep telefonlarının ağırlığı gün geçtikçe azalmaktadır.
- B) Bugün kullandığımız cep telefonları daha ucuzdur.
- C) Önceleri yazı kil tablete yazılırken şimdi kâğıda yazılmaktadır.
- D) İstanbul - Ankara arası yolculuk 13 saatten 6 saate inmiştir.

6) I. Cep telefonu II. Lazer tedavisi  
III. Metro IV. Tepegöz  
Yukarıda verilen teknolojik ürünlerin kullanım alanları hangi seçenekte doğru olarak verilmiştir?

- | 1           | 2      | 3      | 4        |
|-------------|--------|--------|----------|
| A) İletişim | Eğitim | Sağlık | Ulaşım   |
| B) Sağlık   | Ulaşım | Eğitim | İletişim |
| C) İletişim | Sağlık | Ulaşım | Eğitim   |
| D) Eğlence  | Ulaşım | Sağlık | Eğitim   |

- 7) Saat 07.00'da saatin alarminin çalmasıyla uyandım. Hemen banyonun lambasını yaktım ve elimi yüzümü yıkadım. Annem o sırada çamaşır makinesine çamaşır koyuyordu. Kahvaltı yapmak için masaya gittim. Annemin ekmek kızartma makinesinde kızarttığı ekmekleri tereyağı ve bal sürerek yedim. Annem bu sırada bana buzdolabından zeytin çıkardı. Kahvaltımı bitirdikten sonra üstümü giyip servise binmek için asansörle aşağıya indim ve servis minibüsüyle okula gittim.



Yukarıda Ayşe'nin okula hazırlanma aşamalarını okuduk.

Buna göre Ayşe, okula gidene kadar kaç teknolojik ürünle karşı karşıya kalmıştır?

- A) 5 B) 4 C) 7 D) 3

- 8) Millî Mücadele zamanlarında İstanbul'dan haber almak, cephelerle iletişim kurmak oldukça güçtü.

Bu dönemde aşağıdaki iletişim araçlarından hangisinin önemi artmıştır?

- A) Telefon B) Telgraf  
C) Mektup D) Posta güvercini

9)



Buluşlar, hastalıkların sebeplerini ve tedavilerini bilmemizi kolaylaştırmıştır.

Resimde gördüğünüz Pasteur, aşağıdakilerden hangisini bularak insanlığa faydalı olmuştur?

- A) Ampul C) Telefon  
B) Kuduz aşısı D) Yer çekimi kanunu

- 10) Takvimle ilgili verilen bilgilerden hangisi yanlıştır?

- A) Ay yılı esaslı takvim hicri takvimdir.  
B) Hicri takvimde bir yıl on üç aydan oluşmaktaydı.  
C) Cumhuriyetten sonra hicri takvim yerine miladi takvim kullanılmıştır.  
D) Miladi takvim güneş yılına göre oluşturulmuştur.

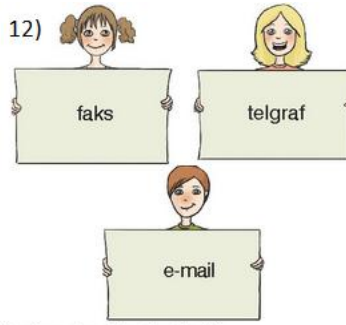
- 11) • Hristiyanlar Hz. İsa'nın doğumunu miladi takvimin başlangıcı olarak kabul etmişlerdir.  
• Müslümanlar ise Hz. Muhammet'in Mekke'den Medine'ye hicretini hicri takvimin başlangıcı olarak kabul etmiştir.



Buna göre, takvimlerin oluşturulmasında aşağıdakilerden hangisi etkili olmuştur?

- A) Büyük savaşlar  
B) Dünyanın hareketleri  
C) Dinî inançlar  
D) Yazının bulunması

12)



Verilen icatlar ile ilgili,

- I. İletişim alanında kullanılır.  
II. Yazılı iletilerin ulaşmasını sağlar.  
III. Telgraf zamanla önemini yitirmiş, faks ve e-mail ön plana çıkmıştır.

İfadelerinden hangileri söylenebilir?

- A. yalnız I B. I ve II  
C. II ve III D. I, II ve III

17)



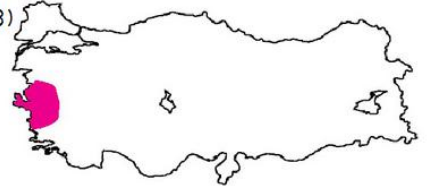
Boğaz Köprüsü

Verilen unsur ile ilgili,

- I. Ulaşımı kolaylaştırmıştır.  
II. İnsanların doğal çevreyi değiştirmesine örnektir.  
III. Doğal bir unsurdur.  
İfadelerinden hangileri söylenebilir?

- A. yalnız III B. I ve II  
C. II ve III D. I, II ve III

18)



Millî Mücadele Döneminde harita üzerindeki boyalı alanda mücadele edilen devlet aşağıdakilerden hangisidir?

- A. Yunanistan B. Ermenistan  
C. Fransa D. İtalya

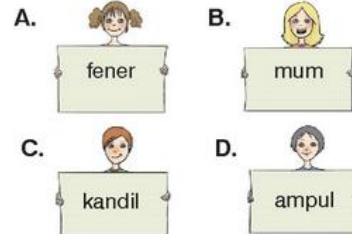
- 13) I. sosyalleşmenin sağlanamaması  
II. fiziksel birtakım rahatsızlıkların ortaya çıkması  
III. görme bozukluğunun yaşanması  
IV. bilgiye ulaşmanın hızlanması

Verilenlerden hangisi teknolojik ürünlerin yanlış kullanılmasıyla ortaya çıkan olumsuz gelişmeler arasında yer almaz?

- A. I B. II C. III D. IV

- 14) Teknolojik ürünler zaman içinde gelişme göstermiştir.

Aydınlanma amacıyla kullanılan aşağıdaki ürünlerden hangisi diğerlerine göre ilk sırada yer alır?



- 15) Bilinçli bir tüketici alışveriş sırasında alacağı ürünün,

- I. kalitesi  
II. son kullanma tarihi  
III. bütçeye uygunluğu

özelliklerinden hangilerine önem vermelidir?

- A. yalnız II B. yalnız III  
C. I ve II D. I, II ve III

19)



Körfez, karanın içine sokulmuş deniz parçasıdır.

Üç tarafı denizle çevrili kara parçasına yarımada denir.



Etrafı sularla çevrili kara parçasına ada denir.

Can

Öğrencilerin yaptığı tanımlar için aşağıdakilerden hangisi söylenebilir?

- A) Üçünün de tanımı yanlıştır.  
B) Sadece Hasan'ın tanımı yanlıştır.  
C) Üçünün de tanımı doğrudur.  
D) Sadece Mehtap'ın tanımı doğrudur.

20) Portakal, mandalina, limon gibi turuncgiller yazları sıcak, kışları ılık geçen iklim bölgelerinde yetişir. Bu ürünler, kışları soğuk ve kar yağışlı geçen yerlerde yetişmez. Buna göre aşağıdaki yerlerden hangisinde turuncgil üretimi yapılamaz?

- A) Mersin B) Antalya  
C) Erzurum D) İzmir

**tasarruf**

- 16) Verilen kavram ile aşağıdakilerden hangisi ilişkilendirilemez?

- A. isteklerine öncelik vermek  
B. gereksiz alışveriş yapmamak  
C. para biriktirmek  
D. bütçe planı yapmak

BAŞARILAR...

Nevin YÜCEL

4/B Sınıf Öğretmeni

