

# O-1



**T.C.  
MİLLÎ EĞİTİM BAKANLIĞI  
ÖLÇME, DEĞERLENDİRME VE SINAV HİZMETLERİ  
GENEL MÜDÜRLÜĞÜ**

# T

**AÇIK ÖĞRETİM ORTAOKULU  
2015-2016 ÖĞRETİM YILI 1. DÖNEM SINAVI  
1. OTURUM: 17 OCAK 2016 Saat: 10.00**

<u>DERSLER</u>	<u>SAYFA</u>	<u>DERSLER</u>	<u>SAYFA</u>
(501) TÜRKÇE – 5	2	(701) TÜRKÇE – 7	16
(502) MATEMATİK – 5	4	(702) MATEMATİK – 7	19
(503) FEN BİLİMLERİ – 5	6	(703) FEN VE TEKNOLOJİ – 7	21
(604) SOSYAL BİLGİLER – 6	8	(806) T.C. İNK. TAR. VE ATATÜRK. – 8	24
(607) İNGİLİZCE – 6	9	(807) İNGİLİZCE – 8	26
(607) ALMANCA – 6	11	(807) ALMANCA – 8	27
(607) FRANSIZCA – 6	12	(807) FRANSIZCA – 8	28
(608) DİN KÜL. VE AHLAK BİLGİSİ – 6	14	(808) DİN KÜL. VE AHLAK BİLGİSİ – 8	30

**ADAYLARIN DİKKATİNE!**

- Her ders için **20** soru bulunmaktadır. Bu oturumda **150** dakikalık cevaplama süreniz vardır. Sınav başladıktan sonra ilk **30** dakika dolmadan dışarı çıkmayınız.
- Sınav sırasında sözlük, hesap cetveli veya makinesi, çağrı cihazı, cep telefonu, telsiz, radyo gibi elektronik iletişim araçlarını yanınızda bulundurmayınız. Bu araçları kullanmanız ve kopya çekmeye teşebbüs etmeniz hâlinde sınavınız geçersiz sayılacaktır.
- Başvuru şartlarını taşımadığınız hâlde sınava girmeniz, kopya çekmeniz, başka adayın sınav evrakını kullanmanız, geçerli kimlik belgenizi ve sınav giriş belgenizi ibraz edemediğiniz durumlarda sınavınız geçersiz sayılacaktır.
- Sınavın değerlendirilmesi aşamasında, bilgisayar ortamında yapılan kopya analizinde ikili veya toplu kopya tespiti hâlinde sınavınız geçersiz sayılacaktır.

**CEVAP KÂĞIDI VE SORU KİTAPÇIĞI İLE İLGİLİ AÇIKLAMALAR**

- Cevap kâğıdınızdaki bilgilerin doğruluğunu kontrol ediniz ve cevap kâğıdınızı mürekkepli kalemle imzalayınız.
- Cevap kâğıdı üzerinde kodlamalarınızı kurşun kalemle yapınız.
- Değiştirmek istediğiniz bir cevabı, yumuşak silgiyle cevap kâğıdını örselemeden temizce siliniz ve yeni cevabınızı kodlayınız.
- Soru kitapçığının sayfalarını kontrol ediniz, baskı hatası var ise değiştirilmesini sağlayınız.
- Soruların çözümü için size ayrıca boş kâğıt verilmeyecektir. Soru kitapçığının içindeki boş alanları soru çözümleri için kullanabilirsiniz.
- Her sorunun dört seçeneğinden sadece biri doğrudur. Doğru seçeneği, cevap kâğıdınızın ilgili sütununa soru numarasını dikkate alarak yuvarlağın dışına taşırmadan kodlayınız. **Soru kitapçığı üzerinde yapılan cevaplandırmalar dikkate alınmayacaktır.**
- Cevaplamaya istediğiniz dersin sorusundan başlayabilirsiniz. Cevabını bilmediğiniz sorular üzerinde fazla zaman kaybetmeden diğer sorulara geçiniz. Zamanınız kalırsa bu sorulara daha sonra dönebilirsiniz.
- Yanlış cevaplarınız dikkate alınmadan sadece doğru cevaplarınız üzerinden puanlama yapılacaktır.
- Soruları ve sorulara verdiğiniz cevapları, yanınızda götürmek amacıyla kaydetmeyiniz; hiçbir şekilde dışarı çıkarmayınız.
- Sınav bitiminde, soru kitapçığı ve cevap kâğıdını salon görevlilerine teslim ediniz.**

**BAŞLAYINIZ DENİLMEDEN SORU KİTAPÇIĞINI AÇMAYINIZ.**

# 1. OTURUM

(501) TÜRKÇE – 5

1. Aşağıdaki kelimeler alfabetik sıraya dizildiğinde en başta hangisi yer alır?

- A) Düş B) Doğa C) Duvar D) Dönem

2. “Ona güvenebilirsiniz, hep doğru konuşur.” cümlesindeki altı çizili kelimenin karşıt anlamlısı aşağıdakilerin hangisinde kullanılmıştır?

- A) Dürüst insandan zarar gelmez.  
B) Eğri cetvelle düz çizgi çizilmez.  
C) Bizim çocuklarımız yalan nedir bilmez.  
D) Yanlış yaparım diye çekinmeyin.

3. “Gitmek” kelimesi aşağıdaki cümlelerin hangisinde mecaz anlamıyla kullanılmıştır?

- A) Bu işin sonu nereye gider?  
B) Yolculuk iyi gidiyor.  
C) Her gün çalışmaya mı gidiyor?  
D) Duvarın boyası gitmiş.

4. “Dolu” kelimesi aşağıdaki cümlelerin hangisinde “bir yerde sayıca çok” anlamı taşımaktadır?

- A) Bu şişe ağzına kadar sütle doluydu.  
B) Yarına kadar bütün uçaklar dolu.  
C) Yarın sabah doluyum, akşama gelebilirsiniz.  
D) Akdeniz’in dağları keklikle doludur.

5. Aşağıdaki deyimler taşıdıkları anlama göre gruplandırıldığında hangisi dışarda kalır?

- A) Ocağı tütmek B) Ocağı batmak  
C) Ocağı yıkılmak D) Ocağı sönmek

6. Bilgehan, akşam saatlerinde güvercinini yuvasına bıraktı.

Bu cümlede aşağıdakilerden hangisinin cevabı yoktur?

- A) Nereye? B) Ne zaman?  
C) Kim? D) Ne?

7. Aşağıdaki cümlelerin hangisinde sebep-sonuç ilişkisi vardır?

- A) Ben şimdi fikrinizi eleştirmeyeceğim çünkü faydasızdır.  
B) Herkesle iyi geçinen, sabırlı biriydi.  
C) Onun gelişine sessiz kalamazdım.  
D) Gözyaşları, kirpiklerinin ucunda asılı duruyordu.

8. Aşağıdaki cümlelerin hangisinde abartılı bir ifade vardır?

- A) Kapının kilitli olduğundan emin olmak için kapıyı kontrol ettim.  
B) Gece yatmadan önce verdiği kararı hatırladı.  
C) Yüzündeki huzurlu ifadeyi telefonun ucundan görüyordum.  
D) Gişeden bilet alarak büyükşehrin bahçesini gezdik.

9. (1) Otomobil durmuştu. (2) Kesik bıyıklı esmer bir genç, bize doğru gülerek koşuyordu. (3) Siyah paltosunun şıklığı bana göre büyüleyiciydi. (4) Geldi, Hasan’ın ellerinden tuttu.

Numaralanmış cümlelerden hangisi öznel bir yargı içermektedir?

- A) 1. B) 2. C) 3. D) 4.

10. Bu sabah içimde bir tazelik var,  
Bu seher, bu camdan giren gündüz ben!  
Komşular, şaşmayın bana komşular,  
Bu camdan bakınan, bu güler yüz ben!

Bu dördünlüğün ana duygusu aşağıdakilerden hangisidir?

- A) Vatan sevgisi B) Yaşama sevinci  
C) Çocukluk özlemi D) Doğa sevgisi

11. Bir gün okul müdürü sınıfa kadar gelerek “Bedrettin odama gel!” deyip gitti. Çocuk edebiyatı dersindeydiler. Bedrettin, soran gözlerle önce müdürün aralık bıraktığı kapiya, sonra ders öğretmenine baktı.

Bu metne göre aşağıdakilerden hangisi cevaplanamaz?

- A) Bedrettin’i odasına çağıran kimdir?  
B) Bedrettin ders öğretmenine nasıl bakmıştır?  
C) Okul müdürü, Bedrettin’i hangi ders işlenirken çağırmıştır?  
D) Ders öğretmeni Bedrettin’e ne demiştir?

## 1. OTURUM

12. (1) Beş yaşındayken yüzme öğrenmeye çalışıyordum. (2) Suyun üzerinde durabilmek için tutunduğum ip birden kopuverdi. (3) Yüzme öğrenebilmek için ip sağlam olmalıdır. (4) Korkudan donakaldım.

**Numaralanmış cümlelerden hangisi düşünce-  
nin akışına göre bu paragrafta yer almamalıdır?**

A) 1. B) 2. C) 3. D) 4.

13. “Bir gün insan, virgülü kaybetti. O zaman zor cümlelerden korkar oldu ve basit ifadeler kullanmaya başladı. Lâkin cümleleri basitleştikçe, düşünceleri de basitleşti.”

**Bu paragrafa yakın anlam içeren cümle aşağı-  
daki seçeneklerin hangisinde verilmiştir?**

- A) En önemli noktalama işareti virgüldür.  
B) Olayların birbirini etkilediğini bilmeli, hayatı bir bütün olarak görmeliyiz.  
C) Basit ifadeler kullanmaktan vazgeçmeli, uzun cümleler kurmaya çalışmalıyız.  
D) Zor cümlelerden korkarsak basit düşünürüz.

14. Ağaçların budanmasının pek çok nedeni vardır. Bunlar arasında ağacın sağlıklı ya da rüzgârdan zarar görmüş dallarını temizlemek, havanın dallar arasında kolaylıkla dolaşmasını sağlamak, ağacın boyunu kısaltmak, aşağı sarkan dalların yerlere değmesini engellemek, ağacın belirli bir şekilde gelişmesini sağlamak sayılabilir.

**Bu metnin konusu aşağıdakilerden hangisidir?**

- A) Ağacın budanma sebepleri  
B) Ağaçların oluşumu  
C) Ağaç budama teknikleri  
D) Ağacın gelişimi

15. Sonbaharda ilk yağmurlardan sonra şapkallı mantarlar ortaya çıkar. Onları, ağaç gövdelerinde ya da çürümüş yaprakların arasında görebilirsiniz. Bu ilginç canlı grubu, “doğanın temizleyicileri” olarak bilinir. Çünkü doğadaki canlı artıklarının ortadan kaldırılmasını sağlar.

**Bu metne en uygun başlık aşağıdakilerden hangisidir?**

- A) Sonbahar B) Şapkallı mantarlar  
C) Doğadaki canlılar D) Yağmur

16. Aşağıdakilerin hangisinde “limon” kelimesi aldığı ek nedeniyle “limon ağaçlarının bulunduğu yer” anlamını kazanmıştır?

- A) limonluk B) limonlu  
C) limonsuz D) limoncu

17. “Para ödeme kasalarına yöneldiğimde onunla karşılaştık.” cümlesinde yer alan kelimelerden hangisi bir ismin yerine kullanılmıştır?

- A) Para B) Ödeme  
C) Kasalarına D) Onunla

18. Aşağıdaki kelimelerden hangisi doğru yazılmıştır?

- A) sıpor B) eşofman  
C) penbe D) cimnastik

19. Aşağıdaki cümlelerin hangisinde “da/de”nin yazımı yanlıştır?

- A) Kızı da geldi gelini de.  
B) Gün boyu evde yalnız kalmıştı.  
C) Gidip de gelmemek, gelip de görmemek var.  
D) Kitabın kapağınada dikkat et.

20. Bahçeye girince önce güller ( ) zambaklar ( ) sonra çiçek açmış erik ( ) elma ve kiraz ağaçları dikkat çekiyordu ( )

**Bu cümlede yay ayraçla belirtilen yerlere sırasıyla hangi noktalama işaretleri getirilmelidir?**

- A) ( , ) ( : ) ( , ) ( . ) B) ( , ) ( , ) ( . ) ( . )  
C) ( , ) ( ; ) ( , ) ( . ) D) ( , ) ( ; ) ( , ) ( ! )

# 1. OTURUM

## (502) MATEMATİK – 5

1. 1, 8, 15, 22, 29, ...

Yukarıdaki örüntü, bir önceki terime aynı sayı eklenerek elde edilmiştir. Bu örüntünün 10. terimi kaçtır?

- A) 63 B) 64 C) 71 D) 74

2.  $96 \times 202$  işleminin sonucu kaçtır?

- A) 2112 B) 18 012 C) 19 392 D) 96 202

3. Kalansız bir bölme işleminde bölen bir basamaklı en büyük doğal sayı, bölüm iki basamaklı en büyük doğal sayıdır. Bu bölme işleminde bölünen aşağıdakilerden hangisidir?

- A) 10 B) 90 C) 99 D) 891

4. Can 19 TL, Zeynep 43 TL ve Emel 25 TL vererek arkadaşlarına ortak bir hediye alıyorlar. Alınan hediyenin parasını eşit olarak paylaşan üç arkadaşın Can'ın, Zeynep'e kaç lira ödemesi gerekir?

- A) 10 B) 15 C) 17 D) 19

5. Günlere Salı ve saat 17.45 olduğuna göre 37 saat 26 dakika sonra hangi gün ve hangi saat olur?

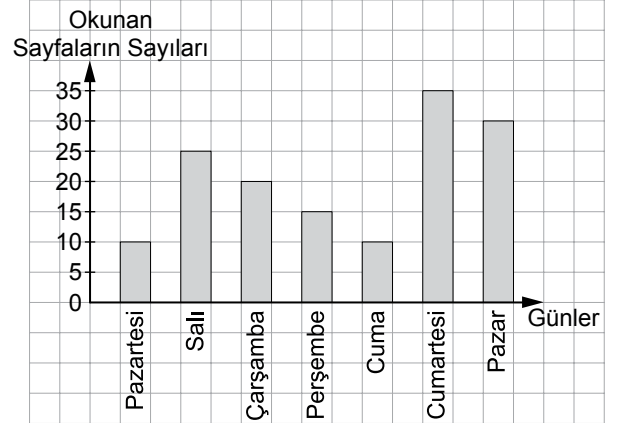
- A) Çarşamba 17.11  
B) Çarşamba 23.11  
C) Perşembe 07.11  
D) Perşembe 17.11

6. Aşağıdakilerden hangisi bir araştırma sorusudur?

- A) Sınıfınızdaki öğrenciler günde ortalama kaç saat ders çalışmaktadır?  
B) Serap günde kaç saat uyumaktadır?  
C) Cem hangi marketten alışveriş yapar?  
D) 1 ekmeğin kaç kuruştur?

7. Grafikte, Selen'in kitabından bir haftada okuduğu sayfaların günlere göre sayıları verilmiştir.

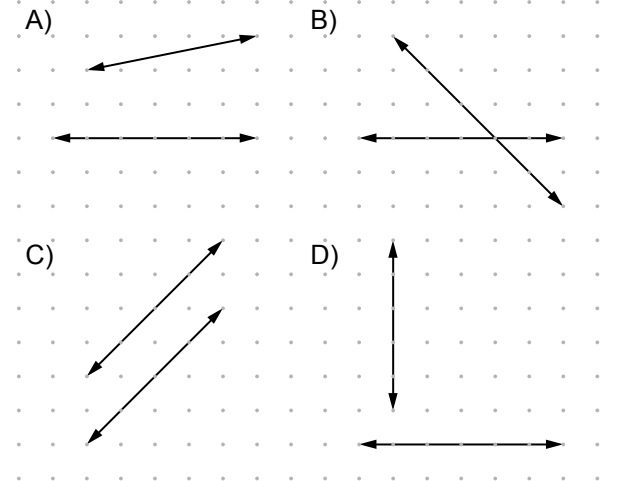
Tablo: Selen'in, Kitabından Bir Haftada Okuduğu Sayfaların Sayıları



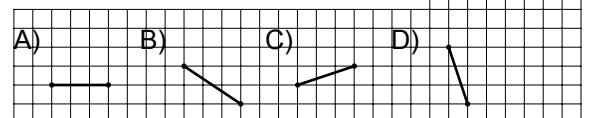
Selen, kitaptan cumartesi günü, pazartesi günü okuduğundan kaç sayfa fazla okumuştur?

- A) 10 B) 15 C) 20 D) 25

8. Aşağıdakilerden hangisinde noktalı zeminde verilen doğrular birbirine paraleldir?



9. Aşağıdaki hangi doğru parçasının uzunluğu, yandaki doğru parçasının uzunluğuna eşittir?

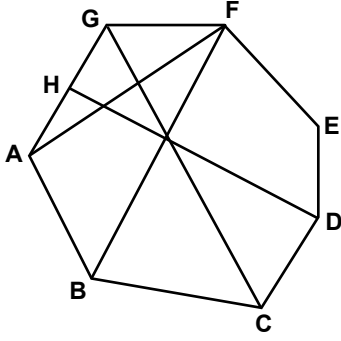


# 1. OTURUM

10. Aşağıdaki şekillerden hangisinde ardışık iki açının ölçüleri toplamı 180 dereceden farklı olabilir?

- A) Eşkenar dörtgen B) Paralelkenar  
C) Dikdörtgen D) Yamuk

11.



Aşağıdakilerden hangisi verilen ABCDEFG çokgeninin köşegenlerinden biri değildir?

- A) [CG] B) [DH] C) [AF] D) [BF]

12. Aşağıdakilerden hangisi  $3\frac{3}{4}$  kesrinin bileşik kesir olarak gösterilişidir?

- A)  $\frac{15}{4}$  B)  $\frac{13}{4}$  C)  $\frac{9}{4}$  D)  $\frac{6}{4}$

13. Bir ekmeğin tamamını yiyen Kâmil,  $\frac{1}{6}$ 'ini yiyen Kemal'den ne kadar fazla ekmek yemiştir?

- A)  $\frac{2}{6}$  B)  $\frac{3}{6}$  C)  $\frac{4}{6}$  D)  $\frac{5}{6}$

14.  $\frac{7}{9} + \frac{3}{18}$  işleminin sonucu kaçtır?

- A)  $\frac{10}{27}$  B)  $\frac{10}{18}$  C)  $\frac{8}{9}$  D)  $\frac{17}{18}$

15.  $3,47 - 1,6$  işleminin sonucu kaçtır?

- A) 1,87 B) 2,41 C) 3,31 D) 33,1

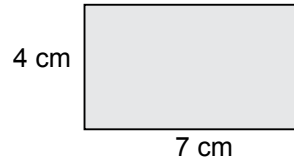
16. Aşağıdakilerden hangisi yanlıştır?

- A)  $\frac{4}{25} = 0,16$  B)  $\frac{2}{1000} = 0,02$   
C)  $\frac{2}{5} = 0,4$  D)  $\frac{17}{50} = 0,34$

17. Kerem'in babası, maaşının %22'sini ev kirasına vermektedir. Babası 1750 lira maaş aldığına göre ev kirası kaç liradır?

- A) 197 B) 350 C) 385 D) 395

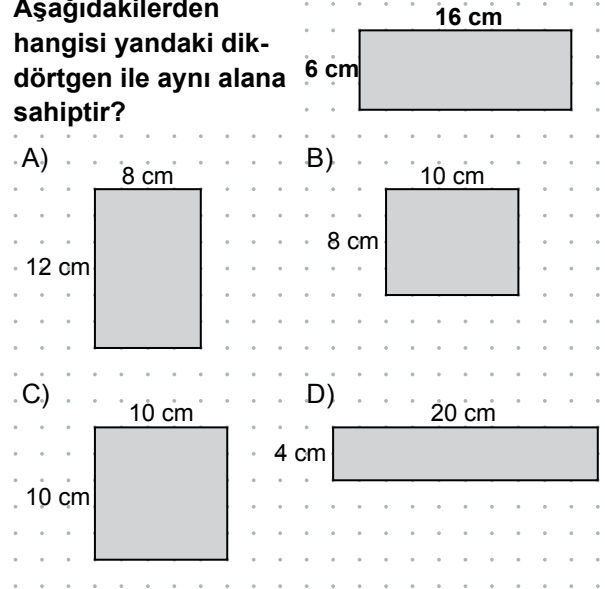
18.



Verilen dikdörtgen şeklindeki levhanın dört köşesinden bir kenar uzunluğu 1,5 cm olan kare şeklinde parçalar kesilip atılıyor. Kalan parçanın çevresi kaç santimetredir?

- A) 16 B) 19 C) 22 D) 28

19. Aşağıdakilerden hangisi yandaki dikdörtgen ile aynı alana sahiptir?



20. Tabanının bir ayrıtının uzunluğu 5 cm ve yüksekliğinin uzunluğu 9 cm olan kare dik prizmanın yüzey alanı kaç santimetrekaredir?

- A) 270 B) 230 C) 205 D) 180

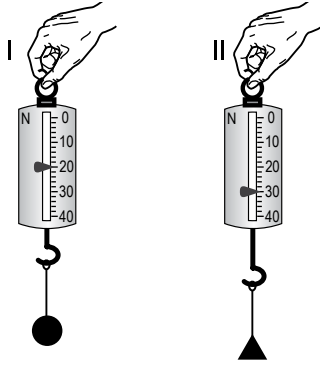
# 1. OTURUM

## (503) FEN BİLİMLERİ – 5

### 1. Dinamometre ile ilgili verilen ifadelerden hangisi yanlıştır?

- A) Kuvvetin büyüklüğünü ölçer.
- B) Günlük hayatta yaylı el kantarı olarak bilinir.
- C) Cisimlerin esneklik özelliğinden yararlanılarak yapılmıştır.
- D) Ölçtüğü cisimlerin büyüklük birimi kilogramdır.

### 2. ● ve ▲ cisimlerinin ağırlıklarını merak eden Ayşe, özdeş dinamometreler kullanarak şekildeki ölçümleri yapmıştır.



### Bu ölçümlere göre verilen bilgilerden hangisi yanlıştır?

- A) I. ölçümde dinamometre 20 N'u gösterir.
- B) ● cismi, ▲ cisiminden daha ağırdır.
- C) II. ölçümde ölçülen kuvvetin büyüklüğü 30 N'dur.
- D) II. ölçümde dinamometrenin içindeki yay daha fazla uzamıştır.

### 3. Aşağıda verilen olaylardan hangisi sürtünmeyi artırmak amacıyla yapılmıştır?

- A) Makinaların parçalarının yağlanması
- B) Sporcuların kayak takımlarının altına mum sürmesi
- C) Otoyollardaki kaçış rampalarına kum ve çakıl dökülmesi
- D) Güreş müsabakalarında güreşçilerin vücutlarını yağlaması

### 4. Aşağıda verilen maddelerden hangisi ışıgı kısmen geçirir?

- A) Hava
- B) Yağlı kâğıt
- C) Mukavva
- D) Metal levha

### 5. Aşağıdakilerden hangisi doğal ses kaynağıdır?

- A) Köpek sesi
- B) Gitar sesi
- C) Araba kornası
- D) Kapı zili sesi

### 6. Noktasal bir ışık kaynağının önüne aşağıdakilerden hangisi konulursa tam gölge meydana gelmez?

- A) Tuğla
- B) Futbol topu
- C) Pencere camı
- D) Demir levha

### 7. Aynı sayıda özdeş piller ve farklı sayıda özdeş ampullerin kullanıldığı iki farklı elektrik devresinde ampul parlaklığındaki değişim araştırılıyor.

#### Bu araştırmaya göre bağımlı değişken olarak kullanılan aşağıdakilerden hangisidir?

- A) Ampul sayısı
- B) Anahtar
- C) Pil sayısı
- D) Ampul parlaklığı

### 8. Bir bölgede aşağıdakilerden hangilerinin varlığı erozyonu artırır?

- I. Kuvvetli esen rüzgârların olması
- II. Toprağın genel olarak nemli olması
- III. Arazinin eğiminin fazla olması

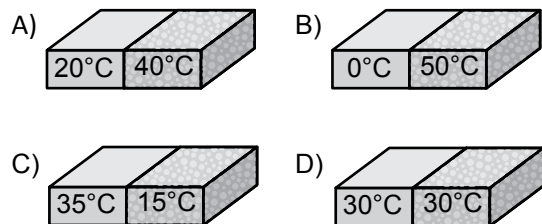
- A) Yalnız I
- B) I ve III
- C) II ve III
- D) I, II ve III

### 9. I. Peri Bacaları II. Tortum Şelalesi III. Ayasofya Cami

#### Yukarıda verilen yapılardan hangileri doğal anıtlara örnek olarak verilebilir?

- A) I ve II
- B) I ve III
- C) II ve III
- D) I, II ve III

### 10. Aşağıda sıcaklıkları ile verilen cisimlerin birbirleriyle teması sonucunda hangi ikisi arasında ısı alışverişi gerçekleşmez?



# 1. OTURUM

11.

	ISI	SICAKLIK
I	Enerjidir.	Enerji değildir.
II	Birimi joule ve kaloridir.	Birimi derecedir.
III	Kalorimetre kabıyla hesaplanır.	Termometre ile ölçülür.

Yukarıda ısı ve sıcaklıkla ilgili numaralandırılmış bilgilerden hangileri doğrudur?

- A) Yalnız I  
B) I ve II  
C) II ve III  
D) I, II ve III

12.

- I. Saf maddelerin donma sıcaklığı sabittir.  
II. Saf maddelerin erime ve donma noktaları eşittir.  
III. Kaynama noktası madde miktarına bağlı değildir.

Yukarıda maddenin ayırt edici özellikleriyle ilgili verilen bilgilerden hangileri doğrudur?

- A) I ve II  
B) I ve III  
C) II ve III  
D) I, II ve III

13.

- I. Ağız  
II. Yutak  
III. Mide  
IV. Yemek Borusu

Yukarıda sindirim sisteminde görev alan organlardan hangilerinde sindirim gerçekleşir?

- A) I ve II  
B) I ve III  
C) II ve IV  
D) III ve IV

14. Yetişkin bir insanda,

- Alt ve üst çenede dörder tane olmak üzere toplam sekiz tanedir.
- Yiyecekleri ısıtıp koparmaya yarar.
- Uçları balta ağzına benzer.

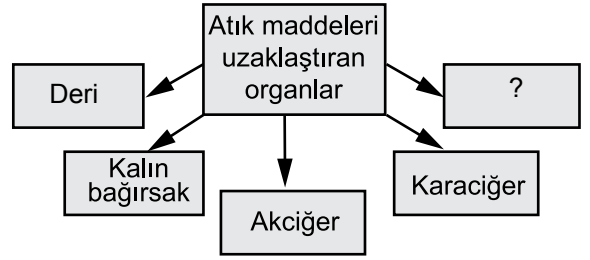
Yukarıda özellikleri verilen dişler hangi gruptandır?

- A) Kesici dişler  
B) Köpek dişleri  
C) Azı dişleri  
D) Yirmi yaş dişleri

15. Proteinlerle ilgili verilen bilgilerden hangisi yanlıştır?

- A) Vücutta yapıcı ve onarıcı olarak görev yaparlar.  
B) Saçların ve tırnakların uzamasını sağlarlar.  
C) Sadece hayvansal besinlerde bulunurlar.  
D) Dengeli beslenme açısından belli oranlarda tüketilmelidir.

16. Vücudumuzda oluşan atıkların dışarı atılmasında görevli organlar şemada verilmiştir.



Buna göre “?” yerine aşağıdakilerden hangisi yazılmalıdır?

- A) Pankreas  
B) Böbrekler  
C) Mide  
D) İnce Bağırsak

17. Aşağıdaki bitkilerden hangisinde tohumla üreme görülmez?

- A) Eğrelti otu  
B) Menekşe  
C) Elma ağacı  
D) Karanfil

18. Sütün yoğurda dönüşmesini sağlayan canlı grubu hangisidir?

- A) Bitkiler  
B) Hayvanlar  
C) Mikroskopik canlılar  
D) Mantarlar

19. Bilim insanları hayvanları gruplara ayırırken verilen özelliklerden hangisini dikkate almazlar?

- A) Beslenme şekli  
B) Üreme şekli  
C) Yaşam alanı  
D) Vücut büyüklüğü

20. Ülkemizde bazı hayvanların nesli koruma altına alınmıştır.

Aşağıdakilerden hangisi bu hayvanlardan biridir?

- A) Akdeniz foku  
B) Istavrit balığı  
C) Serçe  
D) Koyun

# 1. OTURUM

## (604) SOSYAL BİLGİLER – 6

1. Atatürk “Hayatta en hakiki mürşit ilimdir.” sözüyle, aşağıdakilerden hangisine vurgu yapmıştır?

- A) Eğitim ve bilime
- B) Arkeolojik kazılara
- C) Sanatsal faaliyetlere
- D) Dilin sadeleştirilmesine

2. Aşağıdakilerden hangisi “Sosyal Bilgiler” dersini öğrenmenin kişilere kazandırdığı faydalar arasında gösterilemez?

- A) Çevre bilinci kazandırır.
- B) Etik davranmayı öğretir.
- C) İyi vatandaş olmayı sağlar.
- D) Deney yapmamıza imkân tanır.

3. Dünyanın ekvatorun kuzeyinde kalan kısmına ne ad verilir?

- A) Batı Yarım Küre
- B) Kuzey Yarım Küre
- C) Güney Yarım Küre
- D) Doğu Yarım Küre

4. Afrika kıtası ile Asya kıtasını birbirinden ayıran suyolunun adı, aşağıdakilerden hangisidir?

- A) Bering Boğazı
- B) Panama Kanalı
- C) Süveyş Kanalı
- D) Cebelitarık Boğazı

5. Matematik ve astronomi bilgini Tales ve Pisagor, felsefeci Diyojen, tıpçı Hipokrat ve tarihçi Herodot, aşağıdaki hangi medeniyetin önde gelen bilim insanlarıdır?

- A) İyonya
- B) Sümer
- C) Lidya
- D) Asur

6. Aşağıdakilerden hangisi Çatalhöyük evlerine ait bir özellik değildir?

- A) Kapısı yoktur.
- B) Kerpiçten yapılmışlardır.
- C) Evlerin duvarları resimlerle süslüdür.
- D) Evlerin aralarında geniş sokaklar bulunur.

7. Asya Hun hükümdarı Mete Han'ın aşağıdaki faaliyetlerinden hangisi, devletin doğrudan ticaret gelirlerini artırmaya yöneliktir?

- A) Onlu sisteme dayalı bir ordu kurması
- B) Çin'i yenerek İpek Yolu'nun denetimini ele geçirmesi
- C) Babası Teoman ile giriştiği iktidar mücadelesini kazanması
- D) Asya'da bulunan bütün Türk boylarını bir bayrak altında toplaması

8. Aşağıda verilen destan - ülke eşleştirmelerinden hangisi yanlıştır?

- A) Göç Destanı - Uygur
- B) Bozkurt Destanı - Kök Türk
- C) Oğuz Kağan Destanı - Uygur
- D) Ergenekon Destanı - Kök Türk

9.

Hiz. Ebu Bekir	⇒	Kur'an-ı Kerim'in kitap hâline getirilmesi
Hiz. Ömer	⇒	Posta ve adliye teşkilatının kurulması
?	⇒	Müslümanların çeşitli gruplara bölünmesi
Hiz. Osman	⇒	Kur'an-ı Kerim'in çoğaltılarak İslam ülkelerine gönderilmesi

Verilen eşleştirme tablosunda “?” getirilen yere, aşağıdakilerden hangisi yazılmalıdır?

- A) Hiz. Ali
- B) Hiz. Ömer
- C) Hiz. Osman
- D) Hiz. Ebu Bekir

10. Harun Reşit ve oğulları Dönemi, aşağıdaki devletlerden hangisinin en parlak dönemi sayılır?

- A) Emevilerin
- B) Abbasilerin
- C) Karahanlıların
- D) Harzemşahların

11. Selçuklu veziri Nizamülmülk, Nizamiye Medresesini aşağıdaki şehirlerin hangisinde açmıştır?

- A) Semerkant
- B) İsfahan
- C) Nişabur
- D) Bağdat



## 1. OTURUM

12. Kars'taki Ani Kalesi'ni fethetmesi nedeniyle halife tarafından "Ebû-l Feth" lakabı verilen Türk hükümdarı, aşağıdakilerden hangisidir?

- A) Sencer B) Alparslan  
C) Melikşah D) Gazneli Mahmut

13. Ülkemizde yüksek dağlık alanlarda oluşan gür çayırlarda, aşağıda verilen ekonomik faaliyetlerden hangisi yapılır?

- A) Tarım B) Turizm  
C) Hayvancılık D) Madencilik

14. "Binlerce yıl toprak altında kalmış canlı kalıntılardan oluşan ve fosil yakıtlar adı verilen enerji kaynaklarımızın belli başlıları - - - - , - - - - ve - - - - dir."

Verilen bilgi cümlesinin doğru olabilmesi için boş bırakılan yerlere, aşağıdakilerden hangisi yazılmalıdır?

- A) Kömür - Petrol - Doğalgaz  
B) Petrol - Güneş - Akıntılar  
C) Akarsular - Kömür - Rüzgâr  
D) Akıntılar - Güneş - Yeraltı suları

15. Aşağıdakilerden hangisi geri dönüşümün sağladığı faydalardan biri değildir?

- A) İhracat artar.  
B) Atık miktarı azalır.  
C) Enerji tasarrufu sağlar.  
D) Doğal kaynaklarımız korunur.

16. Aşağıdakilerden hangisi dünya yüzeyinde nüfusun yayılışına etki eden beşeri faktörlerden biri değildir?

- A) Yeryüzü şekilleri  
B) Akarsu havzaları  
C) Tarım alanları  
D) Turizm

17. Ülkemizde yetiştirilen aşağıdaki ürünlerden hangisinin ihracatımızdaki yeri diğerlerine göre daha azdır?

- A) Fındık B) Pamuk C) İncir D) Muz

18. Aşağıdakilerden hangisi, uygulama biçimine göre demokrasi çeşitlerinden biridir?

- A) Magna Carta Libertatum  
B) Temsili demokrasi  
C) Sened-i İttifak  
D) Teokrasi

19. Aşağıdaki ülkelerden hangisi, insan hakları ve demokratik hayata ilişkin düzenlemeler yapılmasından dolayı demokrasinin beşiği kabul edilir?

- A) Avusturya B) Almanya  
C) İngiltere D) Fransa

20. "Bir ürünün kimlik kartı" diye kısaca tanımlayabileceğimiz kavram, aşağıdakilerden hangisidir?

- A) Telif B) Barkod  
C) Patent D) Marka

(607) İNGİLİZCE – 6

1 - 20. sorularda boş bırakılan yere uygun gelen kelime ya da ifadeyi işaretleyiniz.

1. We have got a house. - - - - house is in Ankara.

- A) His B) Our  
C) Her D) Your

2. Sarah has got - - - - aunt and - - - - nephew.

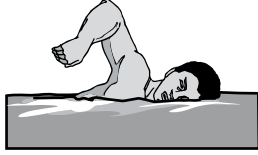
- A) any / some B) a / an  
C) some / an D) an / a

3. How - - - - brothers have you got?

- A) many B) some C) much D) any

## 1. OTURUM

4.




He is - - - - swim well.

- A) can    B) may    C) able to    D) must

5. There are - - - - cars in the garage.

- A) some    B) much    C) any    D) an

6.



A: What time is it?

B: - - - - .

- A) It is 2 past 2  
B) It is 2 o'clock  
C) It is half past 2  
D) It is quarter past 2

7. There are twelve - - - - in a year.

- A) seasons    B) months  
C) weeks    D) days

8. Mary always - - - - up early in the mornings.

- A) gets    B) swims    C) reads    D) plays

9. A: How much milk is there in the kitchen?

B: There is - - - - of milk in the kitchen.

- A) a loaf    B) a bottle  
C) a can    D) a tin

10. A: - - - - is my new friend, Mehmet.

B: Nice to meet you.

- A) Those    B) These  
C) This    D) That

11. A: What is your job?

B: - - - - .

- A) I am a teacher  
B) She is a student  
C) He is a policeman  
D) My father is a doctor

12. A: - - - - ?

B: It is blue.

- A) How is the weather  
B) Where do you live  
C) What is your job  
D) What colour is it

13. A: Can you ride a horse?

B: No, - - - - .

- A) he can't    B) I can't  
C) you may not    D) she may not

14. A: - - - - ?

B: It is in the north of Turkey.

- A) Where is Sinop  
B) Why are you in Uşak  
C) When can I go to Kars  
D) How is the weather in Rize

15. A: - - - - ?

B: It is the tenth of April

- A) What is he like  
B) What time is it  
C) What colour is it  
D) What is the date today

16. A: How can I go to the bank?

B: - - - - .

- A) We can speak English well  
B) It is the seventh of August  
C) You can go there by train  
D) He can run very fast

17. A: What is the weather like in Kars?

B: - - - - .

- A) It is cloudy  
B) There is a few  
C) There are some  
D) It is the tenth of April

# 1. OTURUM

18. A: Do you like playing football?

B: No, - - - - .

- A) I like it very much
- B) I am good at football
- C) I am not interested in sports
- D) I always play football on Sundays

19. A: Do you have any plans for the weekend?

B: Yes, - - - - .

- A) it is going to rain
- B) I am good at music
- C) she is going to call you
- D) we are going to the concert

20. A: - - - - ?

B: That sounds good.

A: Then, let's meet at school at 2 pm.

- A) What time is it
- B) Can she sing a song
- C) Where are you going
- D) Shall we go to cinema

(607) ALMANCA – 6

1-16. sorularda boş bırakılan yere uygun gelen kelime ya da ifadeyi işaretleyiniz.

1. A: Was machst du?

B: Ich gehe in - - - - Schule.

- A) der
- B) die
- C) das
- D) den

2. - - - - Tisch, - - - - Buch, - - - - Junge

- A) der / die / dass
- B) die / der / die
- C) das / der / die
- D) der / das / der

3. A: - - - - .

B: Danke, gut.

- A) Was ist das?
- B) Wo wohnst du?
- C) Wie geht es dir?
- D) Wie alt bist du?

4. A: Was ist das?

B: Ein - - - - .

- A) Messer
- B) Teller
- C) Gabel
- D) Löffel



5. Dienstag, - - - - , Donnerstag

- A) Montag
- B) Freitag
- C) Sonntag
- D) Mittwoch

6. Sie ist - - - - Lehrerin.

- A) ein
- B) eines
- C) eine
- D) einen

7. A: Ist das ein Löffel?

B: Nein, das ist - - - - Gabel.

- A) eine
- B) eins
- C) ein
- D) einen

8. A: Wo wohnen Sie?

B: Ich - - - - in Izmir.

- A) wohnt
- B) wohne
- C) wohnst
- D) wohnen

9. A: Was machst du?

B: Ich - - - - Kaffee.

- A) esse
- B) spiele
- C) lese
- D) trinke

10.



A: Was macht das Mädchen?

B: Sie - - - - .

- A) tanze
- B) tanzt
- C) tanzen
- D) tanzte

## 1. OTURUM

11. Er hat eine - - - - Hose.

- A) blaue B) blau C) laute D) kalt

12. Wir - - - - Schüler.

- A) ist B) bist C) sind D) bin

13.



A: Wie spät ist es?

B: Es ist - - - -.

- A) Halb vier B) Halb fünf  
C) Halb sechs D) Halb sieben

14. siebzehn, - - - -, neunzehn

- A) sechzehn B) zwanzig  
C) fünfzehn D) achtzehn

15. Wir - - - - jeden Tag unsere Zähne putzen?  
(Zorunluluk)

- A) müssen B) können  
C) kann D) muss

16. A: - - - - ?

B: Es ist acht Uhr.

- A) Wie heißt du?  
B) Wann gehst du zur Schule?  
C) Wie spät ist es?  
D) Wo bist du?

17.



Yukarıdaki resimde ne söylenir? (Selamlaşma)

- A) Guten Morgen B) Guten Appetit  
C) Guten Nachmittag D) Gute Besserung

18. Aşağıdakilerden bir grupta yapıldığında hangisi diğerlerinden farklıdır?

das Auto – der Fahrrad – das Schiff –  
1 2 3

die Schule  
4

- A) 1 B) 2 C) 3 D) 4

19. Aşağıdakilerden hangisi “sıfattır”? (Adjektiv)

- A) laufen B) klein C) sehen D) lesen

20. “Vierunddreißig”in sayı şekli aşağıdakilerden hangisidir?

- A) 43 B) 42 C) 34 D) 44

(607) FRANSIZCA – 6

1-13. sorularda boş bırakılan yere uygun gelen kelime ya da ifadeyi işaretleyiniz.

1. Il est - - - -.

- A) français B) grecque  
C) anglaise D) turque

2. A: Vous avez - - - -?

B: J'ai trente ans.

- A) quelle B) comment  
C) quel âge D) pourquoi

# 1. OTURUM

3. A: - - - - ça va?

B: Très bien, merci. Et toi?

- A) Pourquoi B) Comment  
C) Quelle D) Parce que

4. A: Tu es célibataire?

B: Non, je suis - - - -. J'ai deux garçons.

- A) médecin B) beau  
C) jeune D) marié

5. - - - - est l'Avenue des Champs-Élysées?

- A) Combien B) Où  
C) Quand D) Ou

6. Dans les pharmacies, on vend - - - - .

- A) des gâteaux B) des légumes  
C) des médicaments D) des fruits

7. A: Esin aime le thé au citron?

B: Non, elle - - - - le thé au citron.

- A) aimer B) a aimé  
C) ne pas aimer D) n'aime pas

8. Thomas : - - - - est-ce que tu bois de l'eau minérale?

André : Parce que j'ai très soif.

- A) Pourquoi B) Comment  
C) Où D) Quelle

9. A: Serkan mange du pain?

B: Non, il ne mange jamais - - - - pain.

- A) les B) des C) de D) du

10. Melis étudie - - - - Londres - - - - Angleterre.

- A) à / en B) aux / à  
C) à / aux D) au / à

11. A: Qui est-ce?

B: C'est - - - - .

- A) un manteau B) un chemisier  
C) une moto D) une fille

12. Lucie va acheter des billets d'avion - - - - .

- A) au zoo B) à l'aéroport  
C) au restaurant D) à la pâtisserie

13. A: - - - - ?

B: Non merci, je viens de boire du thé.

- A) Un café B) Un jardin  
C) Un serveur D) Un théâtre

14. Aşağıdakilerden hangisi "90" sayısının doğru yazılışıdır?

- A) Soixante-onze B) Quatre-vingts  
C) Soixante-dix D) Quatre-vingt-dix

15-18. soruları resimleri dikkate alarak cevaplayınız.

15.




Il est - - - - .

- A) serveur B) mécanicien  
C) ouvrier D) avocat


# 1. OTURUM

16.



- A) Il est sept heures moins le quart.
- B) Il est sept heures.
- C) Il est sept heures et quart.
- D) Il est sept heures et demie.

17.



- A) Il est six heures.
- B) Il est six heures et demie.
- C) Il est six heures moins le quart.
- D) Il est six heures et quart.

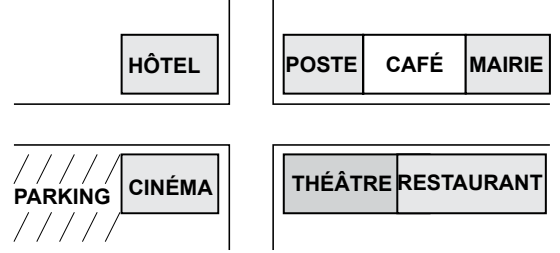
18.



Il est - - - - et il porte - - - - .

- A) pessimiste / un foulard
- B) souriant / une cravate
- C) brun / un chapeau
- D) sérieux / un collier

19-20. soruları planı dikkate alarak cevaplayınız.



19. Le théâtre est - - - - .

- A) à côté du restaurant
- B) entre la poste et la mairie
- C) en face du parking
- D) devant l'hôtel

20. Le café est - - - - .

- A) devant l'hôtel
- B) en face du parking
- C) à côté du restaurant
- D) entre la poste et la mairie

(608) DİN KÜL. VE AHLAK BİLGİSİ – 6

1. Aşağıdakilerden hangisi farz namazlardan değildir?

- A) Beş vakit namaz
- B) Cuma namazı
- C) Cenaze namazı
- D) Teravih namazı

2. Aşağıdakilerden hangisi namazın kılınış şartlarından (namazın içindeki farzlardan) biridir?

- A) Necasetten taharet
- B) Hadesten taharet
- C) İftitah tekbiri
- D) Setr-i avret

3. Günde beş vakit namaz kılan biri kaç rekat namaz kılmış olur?

- A) 25
- B) 30
- C) 35
- D) 40

# 1. OTURUM

## 4. Zebur hangi peygambere gönderilmiştir?

- A) Hz. İsa B) Hz. Musa  
C) Hz. Davut D) Hz. Süleyman

## 5. Peygamberimizin, peygamber olduğuna ilk olarak aşağıdakilerden hangisi iman etmiştir?

- A) Hz. Ali B) Hz. Hatice  
C) Hz. Ebu Bekir D) Hz. Ömer

## 6. Peygamberimizin dinin direği olarak ifade ettiği ibadet aşağıdakilerden hangisidir?

- A) Namaz B) Oruç  
C) Zekât D) Hac

## 7. Aşağıdakilerden hangisi namaz abdestinin farzlarından biri değildir?

- A) Ayakları topuklarla beraber yıkamak  
B) Elleri dirseklerle birlikte yıkamak  
C) Kulak içlerini temizlemek  
D) Yüzü yıkamak

## 8. Bedir Savaşı'nda esir düşen bazı Mekkelilerin 10 müslüman çocuğa okuma yazma öğretileri karşılığı serbest bırakılması Hz. Muhammed' (sav.) in hangi özelliğini ön plana çıkarmaktadır?

- A) Hoşgörülü olma  
B) İnsanları birlik ve beraberliğe çağırma  
C) Toplum içinde barış ve huzuru sağlama  
D) Eğitim-öğretim faaliyetlerine önem verme

## 9. "Ey insanlar! Kanlarınız ve mallarınız, Allah'a kavuşacağınız güne kadar dokunulmazdır."

**Peygamberimizin Veda Hutbesi'ndeki bu ifadesi aşağıdakilerden hangisini korumaya yöneliktir?**

- A) Kadın haklarını  
B) İnsanların eşitliğini  
C) Can ve mal güvenliğini  
D) İnanç ve ibadet özgürlüğünü

## 10. Aşağıdaki seçeneklerin hangisinde Hz. Muhammed' (sav.) in peygamberlik döneminde Mekke ve Medine'de geçirdiği süre doğru olarak verilmiştir?

<u>Mekke</u>	<u>Medine</u>
A) 13 yıl	10 yıl
B) 10 yıl	13 yıl
C) 9 yıl	14 yıl
D) 14 yıl	9 yıl

## 11. Aşağıdakilerden hangisi peygamberlerin insanlardan seçilme nedenini açıklar?

- A) "Senden önce gönderdiğimiz her peygambere; "Şüphesiz, benden başka ilah yoktur." öyleyse bana ibadet edin." diye vahyetmişizdir." (enbiya suresi, 25. ayet)  
B) "...Eğer yeryüzünde yurt tutup dolaşanlar melekler olsaydı o zaman onlara elçi olarak şüphesiz gökten bir melek indirirdik." (İsra suresi, 95. ayetler)  
C) "Peygamber, Rabbi tarafından kendisine indirilene iman etti, müminler de (iman ettiler).." (Bakara suresi, 285. ayet)  
D) "Böylece sizi orta bir ümmet yaptık ki insanlara şahit olasınız. Elçi de size şahit olsun..." (Bakara suresi, 143. ayet)

## 12. Peygamberlerin sıfatlarıyla ilgili aşağıdaki eşleştirmelerden hangisi yanlıştır?

- A) Doğru olmak → Sıdk  
B) Zeki olmak → İsmet  
C) Güvenilir olmak → Emanet  
D) Allah'tan aldıkları vahyi topluma ulaştırmak → Tebliğ

## 13. Peygamberimizin ölüm yeri ve yıl hangi seçenekte doğru verilmiştir?

- A) Medine - 632 B) Mekke - 630  
C) Mekke - 628 D) Medine - 626

## 14. "Ben cinleri ve insanları ancak bana kulluk etsinler diye yarattım." (Zariyat suresi, 54. ayet)

**Bu ayet Kur'an-ı Kerim'in hangi konusuna işaret etmektedir?**

- A) İnanç B) İbadet  
C) Kıssa D) Ahlak

# 1. OTURUM

15. Hz. Muhammed'e ilk inen ayetler hangi surede yer almaktadır?

- A) Fatiha B) Yasin  
C) Alak D) Bakara

16. "Kötü davranışlar karşısında duyarsız kalmamalıyım." diyen bir insan aşağıdakilerden hangisini ilke edinmelidir?

- A) İyiliği öğütlemeyi kötülükten sakındırmayı  
B) Başkalarının hatalarını görmemezlikten gelmeyi  
C) Kötü alışkanlığı olan insanlardan uzak durmayı  
D) Kendisine dokunmayan kötülüklerle ilgilenmemeyi

17. Türk - İslam kültürünün en önemli eserlerinden biri olarak kabul edilen ve tasavvuf düşüncesinin ana konularının ele alındığı "Mesnevi" adlı eser aşağıdakilerden hangisine aittir?

- A) Fuzulî  
B) Ahmet Yesevi  
C) Hacı Bektaş Veli  
D) Mevlana Celaleddin-i Rumi

18. Hastalığa gösterdiği sabırdan dolayı, Kur'an-ı Kerim'in bize örnek gösterdiği peygamber aşağıdakilerden hangisidir?

- A) Hz. Yusuf B) Hz. Şuayb  
C) Hz. Eyüp D) Hz. Davut

19. Aşağıdaki şahsiyetlerden hangisi fıkıh alanında meşhurdur?

- A) Maturidi B) Ebu Hanife  
C) Yunus Emre D) Ahmet Yesevi

20. • Kiblenin belirlenmesi  
• Namaz vakitlerinin belirlenmesi  
• Zekatın hesaplanması ve mirasın bölünmesi  
Müslümanların bu problemleri çözüme kavuşturmalarında aşağıdaki bilim dallarından hangisine ihtiyaçları yoktur?

- A) Tarih B) Astronomi  
C) Coğrafya D) Matematik

## (701) TÜRKÇE – 7

1. "Yol" kelimesi aşağıdaki cümlelerin hangisinde "bir amaca ulaşmak için başvurulması gereken çare, yöntem" anlamında kullanılmıştır?

- A) Yolda oynayan çocuklara seslendi.  
B) Uzaktan kasabanın yolu gözüktü.  
C) Bu işi başarmanın pek çok yolu var.  
D) Bahçeleri, bahçelere toprak yollar bağlardı.

2. "Soğuk tavırlarla birbirlerini selamlayıp uzaklaştılar." cümlesindeki "soğuk" kelimesi hangi anlamda kullanılmıştır?

- A) Gerçek anlam B) Mecaz anlam  
C) Terim anlam D) Deyim anlam

3. Aşağıdaki cümlelerde geçen altı çizili kelimelerden hangisi terim anlamda kullanılmamıştır?

- A) Çiçekler güneşi görünce yeniden açtı.  
B) Bir üçgenin kenarlarını çizdik.  
C) Sözcüğü tek tek hecelerine ayırdı.  
D) Bilim adamları hücrenin yapısını inceliyor.

4. Aşağıdaki cümlelerin hangisinde benzetme yapılmıştır?

- A) Boyacıköy Durağı bir mekân adıdır.  
B) Geleceğini ve geçmişini ince bir sızıyla düşünüyordu.  
C) Gözleri hep denizdedir, gözlerini alamaz denizden.  
D) Bırakılmış çiftlikler, terk edilmiş ahşaplar gibidir.

5. Aşağıdaki cümlelerin hangisinde neden-sonuç ilişkisi vardır?

- A) Çoktandır böyle güzel film izlememiştim.  
B) Pencereden sokağa, karşıki meydana baktı.  
C) Parası bittiğinden eve kadar yürüdü.  
D) Elindeki sepeti alıp dışarı çıktı.



## 1. OTURUM

6. (1) Otobüsten inen adam, valizle kapıya doğru yöneldi. (2) Çekingen, girsem mi girmesem mi gibilerinden düşüncelerle kapının eşiğini geçti. (3) Yarısı temizlenmiş beton yoldan kapıya yöneldi. (4) Sonra kapıcının yanına giderek onunla konuşmaya başladı.

**Bu metinde numaralanmış cümlelerden hangisi öznel bir yargıdır?**

- A) 1. B) 2. C) 3. D) 4.

7. Aşağıdakilerden hangisi dinlemede güçlük yaratan nedenlerden biri değildir?

- A) Konuya ilgi duymamak  
B) Oturulan yerde rahat edememek  
C) Herhangi bir engeli bulunmamak  
D) Konuşana önem vermemek

8. Aşağıdakilerden hangisi öğretici metin değildir?

- A) Şiir B) Deneme  
C) Eleştiri D) İnceleme

9. Salyangozların uzun vücutları ve bu vücutlarını koruyan kabukları vardır. Salyangozlar vücutlarının alt kısmında bulunan kasların kasılıp gevşemesiyle oluşan dalgalanma hareketi sayesinde ilerler. Vücutlarının alt kısmındaki kaygan ve sümüksü sıvı salyangozların üzerinde durdukları yüzeyi kayganlaştırarak hareket etmelerini kolaylaştırır.

**Bu metnin konusu aşağıdakilerden hangisidir?**

- A) Salyangozların çeşitli türleri olduğu  
B) Salyangozların hareketlerini kolaylaştıran özellikler  
C) Salyangozların zorlu yaşam mücadelesi  
D) Salyangozların doğaya verdiği zararlar

10. İstanbul; sayfaları çevirmekle bitmeyen bir kitap, seyrine doyum olmayan bir resimdir. Bu şehirde uygarlık tarihinin her anından her bucağından kalıntılar, renkler vardır ve bugün de ilginç bir değişimin içindedir. Biz İstanbul'da yaşasak da onu bu anlamda tanımıyoruz.

**Bu metinde İstanbul ile ilgili aşağıdakilerden hangisi söylenemez?**

- A) Birçok medeniyetten izler taşıdığı  
B) Sürekli bir değişim yaşandığı  
C) İnsanlar tarafından yeterince tanınmadığı  
D) Tarihî eserlerin korunmadığı

11. İzmir'in bazı eski köşkleri ve konakları restore edilerek yeniden yaşama kavuşturuldu. Peterson Köşkü, büyük bahçesiyle; Murat Köşkü de çeşitli imkânlarıyla halka açıldı. Pasaport İskelesi ise geçmişe ait mimarî kimliğini öne çıkartan, kentin anılarına saygılı ve özgün tasarımıyla hizmet vermeye başladı.

**Bu metne en uygun başlık aşağıdakilerden hangisidir?**

- A) Teknolojiyi Yakalayan Şehir  
B) Deniziyle Barışan Şehir  
C) Geçmişini Yaşatan Şehir  
D) Hızla Büyüyen Şehir

12. (1) Yayla, Orta Anadolu'da dağların düzü demektir. (2) Yaylanın üstünden bütün tarih geldi, geçti; destanlar suyunu içti; masallar koynunda büyüdü. (3) Yayla adamı, toprağı gibi dışından sönük, içinden uyanıktır. (4) Yaylanın sesi kuru, gözü boş fakat içi yanık, türküsü yaşlıdır.

**Bu paragrafta numaralanmış cümlelerden hangisi anlatımın akışını bozmuştur?**

- A) 1. B) 2. C) 3. D) 4.

## 1. OTURUM

13. Bazı aileler çocuklarını konuşturmaz ve dinlemezler. Onları “ Sen büyüklerin lafına karışma!” der, sustururlar. Oysa çocukların serbestçe konuşmalarına fırsat verilmelidir. Çocuklar düşündüklerini ve duyduklarını olduğu gibi ifade etmeye özendirilmelidir. Çocuklarımızı düşüncelerini hiç çekinmeden söylemeye ve inandıklarını savunmaya yönlendirmeliyiz.

**Bu metnin ana fikri aşağıdakilerden hangisidir?**

- A) Çocukların da büyükler gibi düşüncelerini ifade etme hürriyeti vardır.
- B) Her insanın çocukluğunda onu derinden etkileyen olaylar bulunur.
- C) Çocuklar büyüklerinin sözlerine karışmamalı, sözlerini bilmelidir.
- D) Çocuklar düşüncelerinde her zaman haklıdır, asla yalan konuşmazlar.

14. Mesut olmuş görmek isterdim hepinizi  
Her bahar gününde, dertliyi, ümitsizi.  
Terfi etmiş memur, sınıf geçmiş öğrenci,  
Kadını, erkeği, yaşlısı, genci,  
Bir bayram sevinciyle, kol kola sokaklarda.

**Bu dizelere hâkim olan duygu aşağıdakilerden hangisidir?**

- A) Yalnızlık
- B) Ümit
- C) Pişmanlık
- D) Merak

15. “Ara-” fiilinin duyulan geçmiş zaman 2.tekil şahıs olumlu soru biçimine göre çekimi aşağıdakilerden hangisidir?

- A) Aramış mısın?
- B) Aramışlar mı?
- C) Aramamış mıyım?
- D) Aramamış mısın?

16. Aşağıdakilerden hangisi bileşik fiildir?

- A) Gelsinler
- B) Başlayalım
- C) Çözebilirim
- D) Uzaklaştık

17. Aşağıdaki cümlelerin hangisinde soru anlamı zarfla sağlanmıştır?

- A) Kim bilir, nerde, nasıl, kaç yaşında?
- B) Antalya’da saatler şimdi kaçıyor?
- C) Kürekle mi yaptın sen bu dağları?
- D) Bu yolculuk bilmem nasıl erecekti nihayete?

18. Aşağıdaki cümlelerin hangisinde isim soylu bir kelime “ek-fiil” olarak yüklem olmuştur?

- A) Komedyen herkesi çok güldürdü.
- B) Onun denemeleri hep insanlık üzerinedir.
- C) Oğlunun yanına bugün gidecek.
- D) Yeni aldığı elbiseyi arkadaşı da gördü.

19. Aşağıdaki cümlelerin hangisinde sayıların yazımıyla ilgili bir yanlışlık yapılmıştır?

- A) Arkadaşlarla evin önünde beştaş oynadık.
- B) Cumhuriyet’in 100. yılını kutladık.
- C) Karadeniz’de havalar on iki ay yağışlı geçer.
- D) Çocuklar 2’inci durağa koştular.

20. Şanlıurfa -doğduğum şehir- üzerine dünyada bir başka şehir daha yoktur, diyorlar.

**Bu cümlede kısa çizginin kullanım amacı aşağıdakilerden hangisidir?**

- A) Kelimeler arasına “ -den...-a, ve ila, arasında” anlamını vermek
- B) Ara sözleri ve ara cümleleri ayırmak
- C) Fiil kök ve gövdelerini göstermek
- D) Dil bilgisinde ekleri ayırmak

# 1. OTURUM

## (702) MATEMATİK – 7

1.  $(-11) \cdot (-9) \cdot 0 \cdot (-2) \cdot 3$  işleminin sonucu kaçtır?

- A) -594 B) 0  
C) 120 D) 594

2. Aşağıdakilerden hangisi sayı doğrusunda  $\frac{7}{4}$  ile  $\frac{29}{8}$  rasyonel sayıları arasındadır?

- A) 1 B)  $\frac{9}{2}$  C)  $\frac{15}{4}$  D)  $\frac{39}{16}$

3.  $-4 - (-3\frac{3}{4})$  işleminin sonucu aşağıdakilerden hangisidir?

- A)  $-7\frac{3}{4}$  B)  $-1\frac{3}{4}$   
C)  $-1\frac{1}{4}$  D)  $-\frac{1}{4}$

4. Depodaki 1000 litrelik suyun önce  $\frac{1}{4}$ 'i sonra kalanın  $\frac{3}{5}$ 'ü kullanılıyor. Depoda kaç litre su kalmıştır?

- A) 250 B) 300 C) 450 D) 750

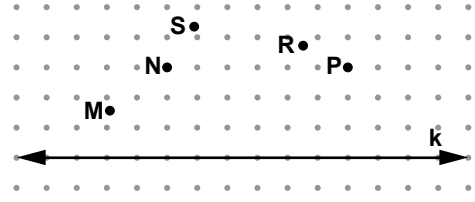
5. Aynı iş gücüne sahip 6 bahçıvan, bir bahçenin çimlerini 20 dakikada biçebilmektedir. Bu bahçıvanlardan 4'ü aynı bahçeyi kaç dakikada biçebilir?

- A) 25 B) 30 C) 35 D) 40

6. % 140'ı 56 olan sayı kaçtır?

- A) 25 B) 36 C) 40 D) 44

7.



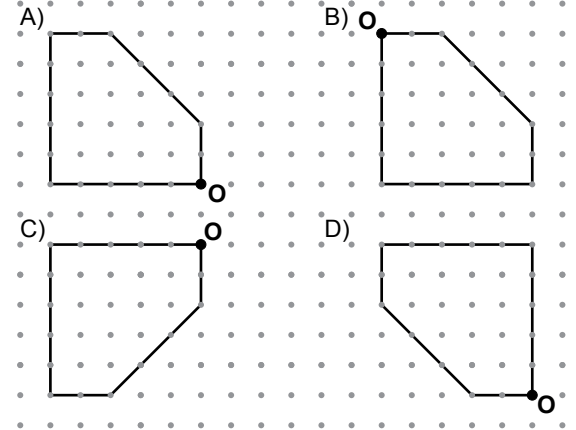
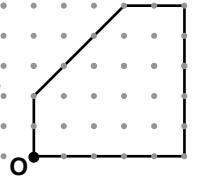
Noktalı zeminde verilen hangi iki noktadan geçen doğru çizilirse k doğrusuna paralel olur?

- A) M ve N B) S ve R  
C) N ve P D) N ve R

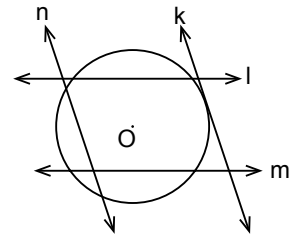
8. Bir iç açısının ölçüsü  $120^\circ$  olan düzgün çokgenin iç açılarının ölçüleri toplamı kaç derecedir?

- A) 720 B) 540 C) 360 D) 240

9. Aşağıdakilerden hangisi yandaki şeklin O noktası etrafında saat yönünde  $270^\circ$  döndürülmüş halidir?



10.

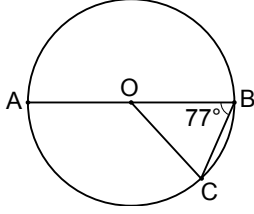


Şekildeki doğrulardan hangisi O merkezli çembere teğettir?

- A) k B) l C) m D) n

# 1. OTURUM

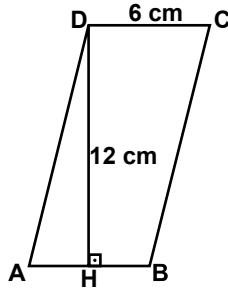
11.



Yukarıdaki O merkezli çemberde  $[AB]$  çaptır.  $m(\widehat{OBC}) = 77^\circ$  olduğuna göre  $m(\widehat{BOC})$  kaç derecedir?

- A) 26 B) 34 C) 54 D) 103

12. Şekildeki ABCD paralelkenarında  $|DC| = 6$  cm ve  $|DH| = 12$  cm'dir.  $[DH] \perp [AB]$  olduğuna göre, bu paralelkenarın alanı kaç santimetrekaredir?

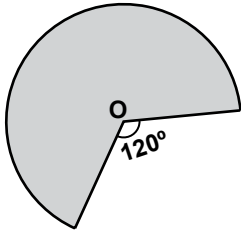


- A) 18 B) 36 C) 48 D) 72

13. Yarıçapı 15 cm olan bir çemberin  $72^\circ$  lik merkez açısının gördüğü çember yayının uzunluğu kaç santimetredir? ( $\pi$  yerine 3 alınız.)

- A) 18 B) 30 C) 48 D) 60

14.



Yarıçapının uzunluğu 5 cm olan dairesel bir kartondan, merkez açısı  $120^\circ$  olan bir dilim şekildeki gibi kesilerek çıkarılmıştır. Kalan kartonun alanı kaç santimetrekaredir? ( $\pi$  yerine 3 alınız.)

- A) 15 B) 50 C) 60 D) 75

15. Yarıçapının uzunluğu 4 cm, yüksekliği 10 cm olan dik dairesel silindirin hacmi kaç santimetreküpür? ( $\pi$  yerine 3 alınız.)

- A) 240 B) 360 C) 480 D) 600

16. Her birinde farklı bir rakamın yazılı olduğu aynı büyüklükteki kartonlar bir torbaya atılıyor. Torbadan çekilen bir kartondaki rakamın çift veya asal sayı olma olasılığı nedir?

- A) 1 B)  $\frac{9}{10}$   
C)  $\frac{4}{5}$  D)  $\frac{7}{10}$

17. 12 kişilik bir grupta 1 başkan ve 1 başkan yardımcısı kaç farklı şekilde seçilebilir?

- A) 12 B) 33 C) 120 D) 132

18. Tablo: Günlere Göre Okunan Sayfa Sayısı

Günler	Pazartesi	Salı	Çarşamba	Perşembe	Cuma	Cumartesi	Pazar
Sayfa Sayıları	11	12	17	13	11	15	10

Yukarıdaki tabloda günlere göre bir kitaptan okunan sayfa sayıları verilmiştir. Buna göre tablodaki verilerin tepe değeri kaçtır?

- A) 10 B) 11 C) 15 D) 17

19.  $(x - 1)^2 - (x + 1)^2$  işleminin sonucu aşağıdaki-lerden hangisidir?


- A) -2 B) 2  
C) -4x D) -4x + 2

20. Koordinat sisteminde A(a,b) noktası 2. bölgede olduğuna göre B(-a, b) noktası kaçınıcı bölgededir?

- A) I B) II C) III D) IV

# 1. OTURUM

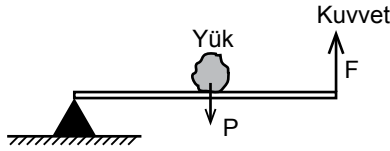
## (703) FEN VE TEKNOLOJİ – 7

1. Elinde çantayla merdiven çıkan insan  
Halter kaldıran sporcu  
Düz yolda yük taşıyan araba
- 

Yukarıda verilen durumların hangilerinde fiziksel anlamda iş yapılmaktadır?

- A) Yalnız I  
B) I ve II  
C) II ve III  
D) I, II ve III

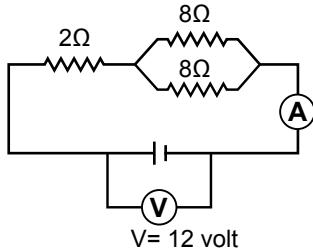
2.



Yukarıda şekli verilen kaldıraç düzeneği günlük hayatta kullandığımız hangi araca örnektir?

- A) Tahterevallı  
B) Makas  
C) El arabası  
D) Cımbız

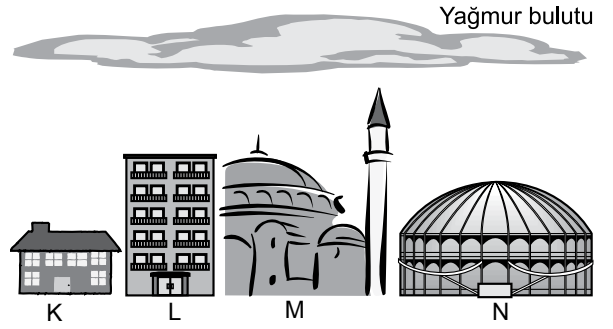
3.



Yukarıda verilen elektrik devresinde voltmetre 12 voltu gösterdiğine göre ampermetre kaç amper değerini gösterir?

- A) 1  
B) 2  
C) 4  
D) 6

4.

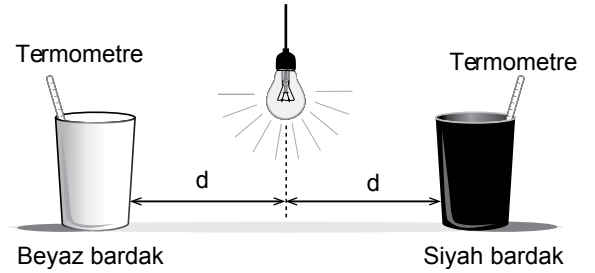


Yukarıda sırasıyla bir evin (K), bir iş yerinin (L), bir caminin (M) ve bir kapalı spor salonunun (N) bulunduğu bir mahalle görülmektedir.

Fırtınalı bir günde yıldırım düşme ihtimaline karşı hangi binaya mutlaka paratoner takılması gerekir?

- A) K  
B) L  
C) M  
D) N

5. Aynı maddeden yapılmış beyaz ve siyah renkteki iki bardak, bir ışık kaynağına şekildeki gibi eşit uzaklıkta yerleştirilmiştir.



Bir süre sonra deneyin sonuçlarına göre aşağıdakilerden hangisi çıkarılamaz?

- A) Siyah bardakta bulunan termometre daha yüksek değeri gösterir.  
B) Soğurulan ışık miktarı arttıkça maddenin sıcaklığı da artar.  
C) Açık renkler ışığı yansıtırken, koyu renkler ise soğurur.  
D) Koyu renk cisimler saydam olduğundan ışığı geçirmezler.



## 1. OTURUM

14. I. Astigmatlık göz kusuru değildir.  
II. Renk körlüğü kalıtsal bir hastalıktır.  
III. Miyopluk yakını net görememe rahatsızlığıdır.

**Yukarıda verilen görme kusurları ile ilgili verilen bilgilerden hangileri doğrudur?**

- A) Yalnız II  
B) I ve III  
C) II ve III  
D) I, II ve III

15. • Ses dalgaları ile çalışır.  
• Vücudun belirli bölgelerinin bir tür haritasını çıkarır.  
• Radyasyon içermediği için insan sağlığına zararı yoktur.

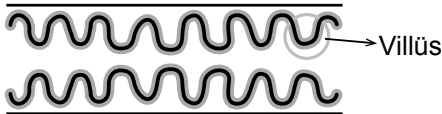
**Yukarıda özellikleri verilen hastalıkların tanı ve teşhisinde kolaylık sağlayan tıbbi cihaz hangisidir?**

- A) Röntgen  
B) Tomografi  
C) Endoskopi  
D) Manyetik Rezonans

16. Sağa sola çarparak uçan ve bir türlü denge-sini sağlayamayan kuşun hangi organı zarar görmüştür?

- A) Beyin  
B) Beyincik  
C) Omurilik  
D) Omurilik Soğanı

17. Sindirilen besinlerin emilimi ince bağırsaktaki villüsler tarafından gerçekleştirilir.



**Aşağıda verilenlerden hangisi villüslerin kıvrımlı yapıda olmasının nedenidir?**

- A) Besinleri en küçük parçalarına kadar ayrıştırır.  
B) Kasılıp gevşeyerek mekanik sindirim yapar.  
C) Bağırsaklardaki emilim yüzeyini artırır.  
D) Atıkların anüse doğru ilerlemesini sağlar.

18. ▲ → Çekirge → Yılan → Atmaca  
■ → Tavşan → Doğan  
● → Fare → Tilki → Dağ Aslanı

**Yukarıdaki besin zincirlerinde ilk basamakta bulunan canlılar ▲, ■, ● ile gösterilmiştir.**

**Aşağıdakilerden hangisi bu canlıların ortak özelliklerinden biri olamaz?**

- A) Besin üreten canlılardır.  
B) Işık enerjisini kullanırlar.  
C) Yok olmaları diğer canlıları etkilemez.  
D) Dünya üzerinde sayıca en fazla canlının olduğu grupta yer alırlar.

19. Aşağıda verilen bilgilerden hangisi yağmur ormanları ekosistemine ait özelliklerden biri değildir?

- A) Dünya karalarının % 90'ını oluştururlar.  
B) Yıl boyunca yeşil kalan gür ormanlardır.  
C) Canlı çeşitliliğinin % 50 - % 70'ini barındırırlar.  
D) Atmosferdeki karbondioksit dengesini korurlar.

20. Sanayileşme ile birlikte artan fosil yakıtların tüketimi atmosferdeki karbondioksit yoğunluğunu gittikçe artırmaktadır.

**Aşağıdakilerden hangisi bu durumun sonucunda oluşan olumsuz etkilerden biri değildir?**

- A) Kutuptaki buzulların erimesi  
B) Fotosentezin artması  
C) Küresel ısınma  
D) Sera etkisi

# 1. OTURUM

(806) T.C. İNK. TAR. VE ATATÜRK. – 8

1. Görev aldığı her cephede üstün başarılar elde eden Mustafa Kemal, özellikle askerî çevrelerce aşağıdaki hangi savaş sonrasında tanınmıştır?

- A) Trablusgarp B) Çanakkale  
C) II. İnönü D) Sakarya

2. Aşağıdaki antlaşmalardan hangisi Osmanlı Devleti ile İtalya arasında imzalanmıştır?

- A) Brest - Litowsk B) Sen Cermen  
C) Nöyyi D) Uşi

3. Türk milletinin haklı davasını dünya kamuoyuna duyurmak için basın yayın yolunu kullanan millî cemiyet, aşağıdakilerden hangisidir?

- A) Millî Kongre Cemiyeti  
B) Trakya – Paşaeli Cemiyeti  
C) İzmir Reddi İlhak Cemiyeti  
D) Doğu Anadolu Müdafaa-i Hukuk Cemiyeti

4. Mustafa Kemal, 23 Nisan 1920 tarihinde hangi ilin milletvekili olarak meclise girmiştir?

- A) İstanbul B) Erzurum  
C) Ankara D) Sivas

5. Aşağıda, Mondros Ateşkes Antlaşması sonrasında Anadolu'da işgale uğrayan bazı yerlerle işgal eden devletler eşleştirilmiştir.

**Bu eşleştirmelerden hangisi yanlıştır?**

- A) İngiltere - Musul, Urfa, Antep, Maraş  
B) Yunanistan - Göller Bölgesi  
C) Fransa - Adana ve çevresi  
D) İtalya - Antalya, Konya

6. “ - - - - , İkinci Viyana Kuşatması'ndan bu yana devam eden gerilemenin durdurulduğu ve ileri gi-dişin başladığı bir dönüm noktası oldu.”

**Verilen bilgi cümlesinin doğru olabilmesi için boş bırakılan yere aşağıdakilerden hangisi ya-zılmalıdır?**

- A) I. İnönü Savaşı  
B) II. İnönü Savaşı  
C) Sakarya Meydan Muharebesi  
D) Başkomutan Meydan Muharebesi

7. İstanbul Hükûmeti, Temsil Heyeti'nin varlığını aşağıdakilerden hangisiyle resmen tanımış sayılır?

- A) Amasya Görüşmeleriyle  
B) Amasya Genelgesi'yle  
C) Erzurum Kongresi'yle  
D) Sivas Kongresi'yle

8. TBMM, Hıyanet-i Vataniye Kanunu'nun çabuk ve etkili biçimde işlemlerini sağlamak için, aşağıdakilerden hangisinin kurulmasını kabul etmiştir?

- A) Tekâlif-i Milliye Komisyonlarının  
B) Kuvayımilliye birliklerinin  
C) Düzenli ordu teşkilatının  
D) İstiklal Mahkemelerinin

9. • Devletin adı ne olacak?  
• Devletin rejimi nasıl şekillenecek?  
• Devlet başkanlığı sorunu nasıl çözülecek?  
• Hükûmet kurmada yaşanan sorunlar nasıl aşılacak?

**Atatürk Dönemi'nde yaşanan bu sorunlar, aşağıdakilerden hangisiyle çözüme kavuştu-rulmuştur?**

- A) Saltanatın kaldırılmasıyla  
B) Cumhuriyetin ilan edilmesiyle  
C) Büyük Millet Meclisinin açılmasıyla  
D) Lozan Barış Antlaşması'nın imzalanmasıyla



## 1. OTURUM

10. “Egemenlik kayıtsız, şartsız milletindir.” ilkesi, aşağıdaki tarihlerin hangisinde hayata geçirilmiştir?

- A) 19 Mayıs 1919      B) 23 Nisan 1920  
C) 30 Ağustos 1922      D) 1 Kasım 1922

11. Adli, mali ve idari alanlarda yabancılara tanınan tüm ayrıcalıklar, aşağıdakilerden hangisiyle tamamen kaldırılmıştır?

- A) Cumhuriyetin ilanıyla  
B) Saltanatın kaldırılmasıyla  
C) Lozan Barış Antlaşması'yla  
D) Mudanya Ateşkes Antlaşması'yla

12. Aşağıdakilerden hangisi, Türkiye İktisat Kongresi'nde alınan kararlardan biri değildir?

- A) Halifelik kaldırılmalıdır.  
B) Yerli sanayi teşvik edilmelidir.  
C) Demir yolu inşaatı bir programa bağlanmalıdır.  
D) El işçiliğinden ve küçük imalattan süratle fabrikaya geçilmelidir.

13. Cumhuriyet Dönemi'nde 13 Şubat 1925'te tarihinde çıkan isyan, aşağıdakilerden hangisidir?

- A) Anzavur Ayaklanması  
B) Koçkiri İsyanı  
C) Menemen Olayı  
D) Şeyh Said İsyanı

14. Türk karasularında gemi işletme hakkının sadece Türklere ait olduğunu belirten kanun, aşağıdakilerden hangisidir?

- A) Tevhid-i Tedrisat Kanunu  
B) Türk Medeni Kanunu  
C) Kabotaj Kanunu  
D) Ölçüler Kanunu

15. Aşağıdakilerden hangisi, Cumhuriyet Dönemi'nde tarımı geliştirmek amacıyla yapılan çalışmalar arasında gösterilemez?

- A) Aşar vergisinin kaldırılması  
B) Yüksek Ziraat Enstitüsünün açılması  
C) Tarım Kredi Kooperatiflerinin kurulması  
D) Teşvik-i Sanayi Kanunu'nun çıkarılması

16. Aşağıdaki Atatürk ilkelerinden hangisi, devlet yönetimindeki değişik toplumsal kesimleri kanun önünde eşit sayar?

- A) Laiklik      B) Halkçılık  
C) Devletçilik      D) Milliyetçilik

17. Atatürkçü düşünce sisteminde yer alan aşağıdaki millî güç unsurlarından hangisi, iyi bir eğitim almış, donanımlı ve kültürel birikime sahip insanlardan oluşur?

- A) Siyasi güç      B) Askerî güç  
C) Ekonomik güç      D) Sosyo - kültürel güç

18. • Almanya'nın Versay Antlaşması'nı yürürlükten kaldırmak istemesi,  
• İtalya'nın I. Dünya Savaşı'nda ulaşamadığı amaçlara ulaşmak arzusunda oluşu,  
• Japonya'nın Uzak Doğu'da sömürgelerinin sayısını çoğaltmak istemesi

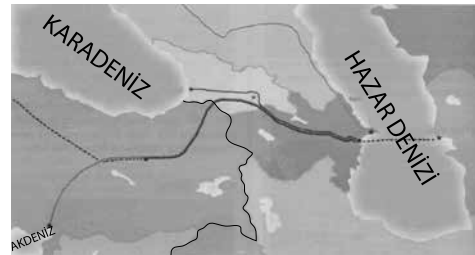
gibi durumların, aşağıdakilerden hangisine neden olduğu savunulabilir?

- A) II. Dünya Savaşı'nın çıkmasına  
B) Varşova Paktı'nın kurulmasına  
C) Kore Savaşı'nın başlamasına  
D) Körfez Krizinin doğmasına

19. Türkiye hangi yıl NATO'ya kabul edilmiştir?

- A) 1961      B) 1955      C) 1952      D) 1945

20.



Dilsiz haritada verilen boru hattının geçtiği ülkeler, aşağıdaki seçeneklerin hangisinde doğu - batı yönünde doğru sıralanmıştır?

- A) Azerbaycan - İran - Türkiye  
B) Azerbaycan - Gürcistan - Türkiye  
C) Azerbaycan - Rusya Federasyonu - İran - Türkiye  
D) Azerbaycan - Rusya federasyonu - Gürcistan - İran - Türkiye

# 1. OTURUM

(807) İNGİLİZCE – 8

1 - 20. sorularda boş bırakılan yere uygun gelen kelime ya da ifadeyi işaretleyiniz.

1. I haven't called my parents - - - - two weeks.

- A) as      B) for      C) then      D) since

2. Have you - - - - been to Ankara?

- A) ever      B) just  
C) already      D) yet

3. Mehmet - - - - a new mobile phone yesterday.

- A) cried      B) eaten  
C) bought      D) married

4. He was sleeping while - - - - .

- A) he went out  
B) I was watching TV  
C) we have just arrived  
D) they played volleyball

5. Yogurt is - - - - of milk.

- A) made      B) drunk  
C) cooked      D) ate

6. Ender has a good sense of humour. So, he - - - - .

- A) likes helping other people  
B) is always kind and helpful  
C) is good at football  
D) often makes jokes

7. How - - - - money have you got?

- A) more      B) many      C) most      D) much

8. We need - - - - peas for the meal.

- A) a can of      B) a cup of  
C) a loaf of      D) a bottle of

9. - - - - , I would lend it to you.

- A) If I had a car  
B) If he is a teacher  
C) If you study hard  
D) If they eat too much

10. If it doesn't rain, - - - - .

- A) she will miss the train  
B) we will have a yacht tour  
C) they can learn French easily  
D) you can be a doctor in the future

11. There is enough bread at home. You - - - - buy any for dinner.

- A) ought to      B) can't  
C) had better      D) needn't

12. The man - - - - wrote this book was a journalist.

- A) whom      B) which      C) who      D) where

13. My car - - - - last week by the thieves, but the police caught them yesterday.

- A) was stolen      B) will be broken  
C) was eaten      D) is being written

14. We had better not go out now. It is - - - - cold for a walk.

- A) neither      B) either  
C) too      D) so

15. Mary and Sue live in London. Mary can speak English, - - - - can Sue.

- A) so      B) either  
C) neither      D) too

ÖLÇME, DEĞERLENDİRME VE SINAV HİZMETLERİ GENEL MÜDÜRLÜĞÜ

# 1. OTURUM

16. Peter and Sue went shopping yesterday, but  
---- Peter ---- Sue bought anything.

- A) either / or                      B) neither / nor  
C) too / either                      D) not only / but also

17. İstanbul is a ---- city in Turkey.

- A) tall                                  B) delicious  
C) crowded                          D) hardworking

18. John was born in England and lives there. He  
is a ---- of English.

- A) singer                              B) commander  
C) prime minister                  D) native speaker

19. I don't feel well today, so I ---- to stay at  
home rather than go to picnic.

- A) can                                  B) must  
C) prefer                              D) would rather

20. A: Would you mind ---- the TV on?  
B: Yes, of course.

- A) turned                              B) turning  
C) to turn                              D) turns

## (807) ALMANCA – 8

1-19. sorularda boş bırakılan yere uygun  
gelen kelime ya da ifadeyi işaretleyiniz.

1. A: Fährst du heute nach Ankara?  
B: Nein, ich ---- nicht nach Ankara.

- A) fährt                                  B) fahre  
C) gefahren                          D) fahren

2. A: Für wen ist das Geschenk?  
B: Es ist für ----.

- A) dich      B) sein      C) du      D) mein

3. A: Mit wem telefonierst du?  
B: Mit ---- Freund.

- A) mein      B) meine      C) meiner      D) meinem

4. A: Wo ist Helga?  
B: ---- ist in ihrem Zimmer.

- A) Er      B) Sie      C) Es      D) Ihr

5. Die lang- ---- Stiefeln. (Plural)

- A) -e      B) -es      C) -en      D) -er

6. Der Zug ---- gestern nach München.  
(Präteritum)

- A) fahren      B) fuhr      C) fährt      D) gefahren

7. hell, ----, am hellsten

- A) heller      B) hellste      C) helle      D) hellen

8. Die Sportler kommen ---- Italien.

- A) im      B) zur      C) aus      D) zum

9. A: ---- bist zu spät gekommen?  
B: Weil es neblig war.

- A) Warum                              B) Wie  
C) Wohin                                  D) Was

10. Die breit- ---- Straßen. (Plural)

- A) -es      B) -e      C) -er      D) -en

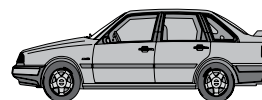
11. Meine Eltern freuen ---- auf das neue Jahr.

- A) mich      B) dich      C) sich      D) euch

12. ---- hat dir das Geschenk gekauft?

- A) Wer      B) Wie      C) Wo      D) Warum

13.



Wagen  
30.000 TL



Sportwagen  
40.000 TL

Der Wagen ist billiger ---- der Sportwagen.

- A) so      B) bis      C) um      D) als

## 1. OTURUM

14. A: Warum trinkst du viel Wasser?  
B: - - - - ich Durst habe.

A) Denn B) Aber C) Weil D) Dass

15. Frau Braun können - - - - mir helfen?

A) ich B) mich C) sie D) Sie

16. A: Welch- - - - - Schüler hat die besten Noten?  
B: Mehmet.

A) -er B) -e C) -es D) - -

17. - - - - Blumen sind sehr schön.

A) Der B) Die C) Das D) Den

18. A: Habt ihr euch angezogen?  
B: Ja, wir haben - - - - angezogen.

A) mich B) dich C) ihr D) uns

19. Esra und ich - - - - Pizza.

A) trinken B) spielen  
C) essen D) laufen

20. Aşağıdakilerden hangisi fiildir? (Verb)

A) leise B) arbeiten  
C) teuer D) schön

3. Cédric habite - - - - Tokyo- - - - Japon depuis deux ans.

A) à / en B) à / au C) au / aux D) en / au

4. Pour acheter des tomates et des pommes de terre il va chez - - - -.

A) le marchand de légumes  
B) le boucher  
C) le boulanger  
D) le crémier

5. Mon cousin a 40 ans ; ma cousine a 43 ans.  
Ma cousine est - - - - que mon cousin.

A) plus âgée B) plus jeune  
C) aussi âgée D) moins jeune

6. Zoé a acheté deux jupes et deux pantalons.  
Alors, elle a acheté - - - - de pantalons que de jupes.

A) tant B) plus C) moins D) autant

7. Comme boisson, - - - - de l'eau fraîche!

A) déjeune B) bois  
C) dîne D) mange

8. Le lait coûte un euro - - - -.

A) le mètre B) le kilo  
C) le litre D) le mètre carré

9. A: C'est - - - - le théâtre ?  
B : Il est en face de la mairie.

A) ou B) quand C) où D) combien

10. Pour aller en Allemagne, nous - - - - en voiture.

A) voyageons B) devons  
C) voyons D) visitons

### (807) FRANSIZCA – 8

1-15. sorularda boş bırakılan yere uygun gelen kelime ya da ifadeyi işaretleyiniz.

1. - - - - sont arrivées tard à cause de la neige.

A) Nous B) Vous C) Elles D) Je

2. Claire et Rémi - - - - un voyage en Australie en été.

A) avons fait B) as fait  
C) est fait D) ont fait

# 1. OTURUM

11. Voilà la montre - - - - j'ai achetée la semaine dernière.

- A) qui B) que C) où D) dont

12. J'aime les petites voitures économiques - - - - roulent vite.

- A) que B) pourquoi  
C) où D) qui

13. Mme Cartier a 32 ans, c'est - - - -.

- A) un garçon brun B) une vieille dame  
C) un vieux monsieur D) une jeune femme

14. Si tu fais du sport, tu - - - - jeune.

- A) resterons B) sommes restés  
C) resteras D) resterez

15. A: - - - - vous avez fait à Kartepe?  
B : Nous avons fait du ski.

- A) Qu'est-ce que B) Combien  
C) Quand D) Comment

16-20. soruları resimleri dikkate alarak cevaplayınız.

16.



Quand il neige, elles - - - - dans le parc.

- A) se couchent B) se promènent  
C) se peignent D) se lavent

17.



Michel ne peut pas courir parce qu'il a - - - -.

- A) la jambe cassée B) mal au dos  
C) le bras cassé D) mal au ventre

18.



Il fait - - - -.

- A) de la peinture B) du vélo  
C) du cheval D) de l'alpinisme

19.



Il a mal - - - -.

- A) aux pieds B) au ventre  
C) au dos D) aux dents

20.



Il - - - - son manteau en courant.

- A) pleure B) cherche  
C) met D) danse

# 1. OTURUM

## (808) DİN KÜL. VE AHLAK BİLGİSİ – 8

1. Canlıların ihtiyaç duyduğu ve yararlandığı, Allah tarafından sağlanan her türlü nimet anlamına gelen kavram aşağıdakilerden hangisidir?

- A) Tevekkül B) İrade  
C) Kader D) Rızık

2. Aşağıdaki kurban türlerinden hangisinin etinden kurban sahibi yiyeemez?

- A) Şükür B) Adak C) Akika D) Bayram

3. Hz. Muhammed (sav.)'in Medine'de Mescid-i Nebevi'nin yanında 'Suffe' denilen bir yer yaptırması O'nun hangi yönüyle ilgilidir?

- A) Bilgiye önem vermesi  
B) Güvenilir bir insan olması  
C) Hoşgörülü ve affedici olması  
D) Doğayı ve hayvanları sevmesi

4. Aşağıdakilerden hangisi Hz. Muhammed (sav.)'in çalışmayı sevmesine bir örnektir?

- A) Mekke'yi fethettikten sonra, kendisine eziyet etmiş olan Mekkelileri affetmesi  
B) Hayvanlara eziyet edilmemesi konusunda insanlara tavsiyelerde bulunması  
C) Hendek Savaşı'nda kazılacak yerleri belirleyip kazma işine yardım etmesi  
D) Hicret etmeden önce kendisinde bulunan emanetleri sahiplerine ulaştırması için Hz. Ali'ye teslim etmesi

5. Aşağıdakilerden hangisi kötü alışkanlıkların başlama sebepleri arasında yer almaz?

- A) Sosyal faaliyetler ve seyahat etme  
B) Aile içindeki geçimsizlik ve sevgi yoksunluğu  
C) Kötü arkadaş çevresi ve kendini kabul ettirme duygusu  
D) Gazete, dergi, TV gibi araçlarla kötü alışkanlığa özendirici yayınlar yapılması

6. İslam dini ile ilgili verilen bilgilerden hangisi yanlıştır?

- A) Tevhit inancına dayanır.  
B) Temiz ve uygun olan her yerde ibadet yapılabilir.  
C) Tüm insanlık için gönderilen son dindir.  
D) Peygamber olarak yalnızca Hz. Muhammed kabul edilir.

7. Aşağıdaki ayetlerin hangisi toplumsal yasalara işaret etmektedir?

- A) "Güneş ve ay bir hesaba göre (hareket etmekte) dir."  
(Rahman suresi, 5. ayet)  
B) "O (Allah), insanı alaktan (embriyodan) yarattı."  
(Alak suresi, 2. ayet)  
C) "Göğü Allah yükseltti ve mizanı (dengeyi) O koydu. Sakın dengeyi bozmayın."  
(Rahman suresi, 7. ve 8. ayetler)  
D) "Onlar yeryüzünde gezip kendilerinden öncekilerin sonunun nasıl olduğuna bakmazlar mı?..."  
(Fatır suresi, 44. ayet)

8. • Güvenmek  
• Dayanmak  
• Sığınmak

Bu kavramlar aşağıdakilerden hangisinin tanımlıdır?

- A) İman B) İrade  
C) Kaza D) Tevekkül

9. Umre'de aşağıdakilerden hangisi yapılmaz?

- A) Kâbe'yi tavaf etmek  
B) Arafat'ta vakfe yapmak  
C) İhrama girmek  
D) Sa'y yapmak

10. Aşağıdakilerden hangisi Hz. İsa hakkında Hristiyanlık ve İslam'ın ortak görüşü değildir?

- A) Annesi Hz. Meryem'dir.  
B) Kendisine İncil verilmiştir.  
C) Çarmıha gerilerek öldürülmüştür.  
D) Nasıra denilen yerde doğmuştur.

## 1. OTURUM

11. Zekât, zengin sayılan bir müslümanın Allah rızası için yılda bir kere malının belli bir miktarını yoksul Müslümanlara vermesidir.

**Bu tanımda aşağıdaki sorulardan hangisinin cevabı yoktur?**

- A) Zekâtın nasıl verileceği
- B) Zekâtı kimlerin vereceği
- C) Zekâtın kimlere verileceği
- D) Zekâtın ne zaman verileceği

12. Aşağıdakilerden hangisi zekâta tabidir?

- A) İş araç-gereçleri
- B) Kullanılan araba
- C) İçinde oturulan ev
- D) Altın veya gümüş takılar

13. Ganj Nehrin’de yıkanmak aşağıdaki dinlerin hangisinde temel ibadet olarak kabul edilir?

- A) Budizm
- B) Yahudilik
- C) Hinduizm
- D) Hristiyanlık

14. • Toplu taşıma araçlarına zarar vermek  
• Havayı, suyu ve toprağı kirletmek  
• Kaçak elektrik ve su kullanmak

**Bu davranışların ortak ifadesi aşağıdakilerden hangisidir?**

- A) Kul hakkını ihlal etme
- B) Çevre bilincinden yoksun olma
- C) Sağlık ve eğitim hakkına saygısızlık etme
- D) Taassup sahibi olma

15. Aşağıdaki ayetlerden hangisi Kur’an’ın doğru bilgiye verdiği önemle ilgilidir?

- A) “... Ey akıl sahipleri! Allah’a karşı gelmekten sakının ki kurtuluşa eresiniz.” (Maide suresi, 100. ayet)
- B) “Göklerin ve yerin yaratılışında, gece ile gündüzün birbiri ardınca gelip gidişinde akıl sahipleri için gerçekten açık ibretler vardır.” (Âl-i İmran suresi, 190. ayet)
- C) “O, yeri-göğü tabaka tabaka yaratandır. Rahman’ın yaratılışında hiçbir uyumsuzluk göremezsin.” (Mülk suresi, 3. ayet)
- D) “Hakkında kesin bilgi sahibi olmadığın şeyin peşine düşme. Çünkü göz, kulak ve kalp bunların hepsi ondan sorumludur.” (İsra suresi, 36. ayet)

16. İslam medeniyetindeki vakıflar, aşağıdakilerden hangisinin bir sonucu olarak ortaya çıkmıştır?

- A) Sadaka-i cariye
- B) Karz-ı hasen
- C) Hüsn-ü zan
- D) Amel-i salih

17. “Allahü la ilahe illa hüvel hayyül kayyüm...”  
(Bakara suresi, 255. ayet)

**“Ayetel Kürsi” olarak bilinen bu ayet, aşağıdaki ifadelerden hangisi ile devam etmektedir?**

- A) Men zellezi yeşfeu indehü illâ biiznih.
- B) Vela yuhitûne bişey in min ilmihi illa bimâ şâe.
- C) La te’hüzühû sinetün vela nevm.
- D) Vesia kürsiyyü hüs semâvâti vel arz.

18. Aşağıdakilerden hangisinin taassubu önlediği söylenebilir?

- A) Taklit etme
- B) Sorgulama
- C) Kutsallaştırma
- D) İnanma

19. Kâbe’nin etrafındaki her bir dönüşe ne denir?

- A) Vakfe
- B) Sa’y
- C) Şavt
- D) Tavaf

20. Sığır ve manda kurban edilebilmesi için kaç yaşını doldurmuş olması gerekir?

- A) 1
- B) 2
- C) 3
- D) 5

### SINAV SÜRESİNCE UYULACAK KURALLAR

1. Adaylar, sınav kurallarına ve salon görevlilerinin tüm uyarılarına uymak zorundadırlar. Kurallara ve uyarılara uymayan adayların sınavları geçersiz sayılacaktır.
2. Sınav başladıktan sonra adayların salon görevlileri ve birbirleri ile konuşmaları, kalem, silgi vb. şeyleri istemeleri yasaktır.
3. Adaylar sınav süresince, sınav giriş belgesi ile birlikte kimlik belgelerinden birini (nüfus cüzdanı, pasaport veya sürücü belgesi) masalarının üzerinde bulundurmamak zorundadırlar.
4. Sınav evraklarını teslim etmeyen, soru kitapçıklarının sayfalarından bir kısmını eksik teslim edenlerin sınavları geçersiz sayılacaktır.

### SALON GÖREVLİLERİNCE SINAV BAŞLAMADAN ÖNCE ADAYLARA YAPILACAK SON UYARI

- Soracağınız bir şey var mı? Varsa, şimdi sorunuz.
- Sınav başladıktan sonra sorularınıza cevap verilmeyecektir.
- Başlama zilini bekleyiniz.
- Hepinize başarılar dileriz.

(Salon başkanı başlama ve bitiş saatini tahtaya yazacaktır.)

Bu kitapçığın her hakkı saklıdır. Hangi amaçla olursa olsun, kitapçığın tamamının veya bir kısmının Millî Eğitim Bakanlığı Ölçme, Değerlendirme ve Sınav Hizmetleri Genel Müdürlüğünün yazılı izni olmadan kopya edilmesi, fotoğraflarının çekilmesi, bilgisayar ortamına alınması, herhangi bir yolla çoğaltılması, yayımlanması veya başka bir amaçla kullanılması yasaktır. Bu yasağa uymayanlar, doğabilecek cezai sorumluluğu ve kitapçığın hazırlanmasındaki mali külfeti peşinen kabullenmiş sayılır.



**17 OCAK 2016 TARİHİNDE YAPILAN**  
**AÇIK ÖĞRETİM ORTAOKULU 2015-2016 ÖĞRETİM YILI 1. DÖNEM SINAVI**  
**1. OTURUM CEVAP ANAHTARI**

<b>TÜRKÇE – 7</b>	<b>FEN ve TEKNOLOJİ – 7</b>	<b>İNGİLİZCE – 8</b>	<b>FRANSIZCA – 8</b>
1. C 2. B 3. A 4. D 5. C 6. B 7. C 8. A 9. B 10. D 11. C 12. C 13. A 14. B 15. A 16. C 17. D 18. B 19. D 20. B	1. B 2. C 3. B 4. C 5. D 6. B 7. C 8. A 9. D 10. C 11. D 12. A 13. C 14. A 15. D 16. B 17. C 18. C 19. A 20. B	1. B 2. A 3. C 4. B 5. A 6. D 7. D 8. A 9. A 10. B 11. D 12. C 13. A 14. C 15. A 16. B 17. C 18. D 19. C 20. B	1. C 2. D 3. B 4. A 5. A 6. D 7. B 8. C 9. C 10. A 11. B 12. D 13. D 14. C 15. A 16. B 17. A 18. B 19. D 20. C
<b>MATEMATİK – 7</b>	<b>TC İNK. TAR. VE ATA. – 8</b>	<b>ALMANCA – 8</b>	<b>DİN KÜLTÜRÜ ve AHLAK BİLGİSİ – 8</b>
1. B 2. D 3. D 4. B 5. B 6. C 7. C 8. A 9. D 10. A 11. A 12. D 13. A 14. B 15. C 16. C 17. D 18. B 19. C 20. A	1. B 2. D 3. A 4. C 5. B 6. C 7. A 8. D 9. B 10. B 11. C 12. A 13. D 14. C 15. D 16. B 17. D 18. A 19. C 20. B	1. B 2. A 3. D 4. B 5. C 6. B 7. A 8. C 9. A 10. D 11. C 12. A 13. D 14. C 15. D 16. A 17. B 18. D 19. C 20. B	1. D 2. B 3. A 4. C 5. A 6. D 7. D 8. A 9. B 10. C 11. A 12. D 13. C 14. B 15. D 16. A 17. C 18. B 19. C 20. B

**17 OCAK 2016 TARİHİNDE YAPILAN**  
**AÇIK ÖĞRETİM ORTAOKULU 2015-2016 ÖĞRETİM YILI 1. DÖNEM SINAVI**  
**1. OTURUM CEVAP ANAHTARI**

<b>TÜRKÇE – 5</b>	<b>FEN BİLİMLERİ – 5</b>	<b>İNGİLİZCE – 6</b>	<b>FRANSIZCA – 6</b>
1. B	1. D	1. B	1. A
2. C	2. B	2. D	2. C
3. A	3. C	3. A	3. B
4. D	4. B	4. C	4. D
5. A	5. A	5. A	5. B
6. D	6. C	6. D	6. C
7. A	7. D	7. B	7. D
8. C	8. B	8. A	8. A
9. C	9. A	9. B	9. C
10. B	10. D	10. C	10. A
11. D	11. D	11. A	11. D
12. C	12. D	12. D	12. B
13. B	13. B	13. B	13. A
14. A	14. A	14. A	14. D
15. B	15. C	15. D	15. B
16. A	16. B	16. C	16. C
17. D	17. A	17. A	17. C
18. B	18. C	18. C	18. B
19. D	19. D	19. D	19. A
20. C	20. A	20. D	20. D
<b>MATEMATİK – 5</b>	<b>SOSYAL BİLGİLER – 6</b>	<b>ALMANCA – 6</b>	<b>DİN KÜLTÜRÜ ve AHLAK BİLGİSİ – 6</b>
1. B	1. A	1. B	1. D
2. C	2. D	2. D	2. C
3. D	3. B	3. C	3. D
4. A	4. C	4. A	4. C
5. C	5. A	5. D	5. B
6. A	6. D	6. C	6. A
7. D	7. B	7. A	7. C
8. C	8. C	8. B	8. D
9. B	9. A	9. D	9. C
10. D	10. B	10. B	10. A
11. B	11. D	11. A	11. B
12. A	12. B	12. C	12. B
13. D	13. C	13. B	13. A
14. D	14. A	14. D	14. B
15. A	15. A	15. A	15. C
16. B	16. D	16. C	16. A
17. C	17. D	17. A	17. D
18. C	18. B	18. D	18. C
19. A	19. C	19. B	19. B
20. B	20. B	20. C	20. A