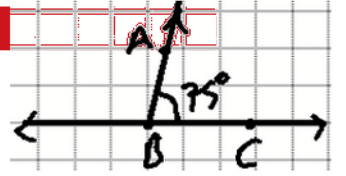


ÜNİTE SONU DEĞERLENDİRME

1. Bir kareli kâğıt üzerine açıölçer ve cetvel yardımıyla 75° lik bir açı çiziniz.

Özel ödev

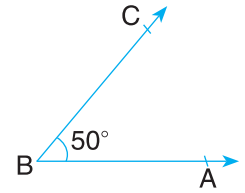


2. Bir kareli kâğıt üzerine 160° lik bir açıyı cetvel ve açıölçer yardımıyla çiziniz. Çizdiğiniz açıyı \widehat{ABC} olarak isimlendiriniz. Açıölçer yardımıyla \widehat{ABC} 'sının açıortayını oluşturunuz.

Kişisel (özel) ödev

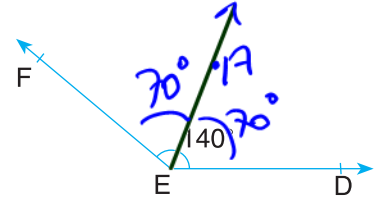
3. Yanda 50° lik ölçüye sahip \widehat{ABC} 'sı verilmiştir. Açıölçer ve cetvel yardımıyla kareli kâğıt üzerine \widehat{ABC} 'sına eş bir açı çiziniz.

Özel ödev - Gizim çünkü

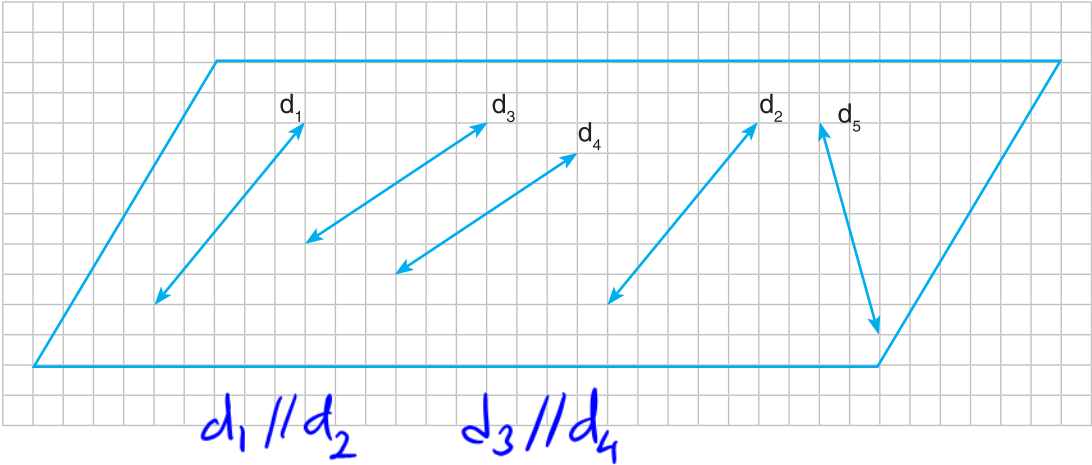


4. Yanda ölçüsü 140° olan \widehat{DEF} 'sı verilmiştir. \widehat{DEF} 'sini iki eş parçaya ayırarak açıortayını belirleyiniz.

(Biz tahmini çizdik. Siz açıölçer ve cetvel ile ölçerek çizmelisiniz.)



5.



Yukarıda aynı düzlemde doğrular verilmiştir. Paralel doğruları belirleyiniz.