



5. Aşağıdaki tabloda verilmeyenleri bularak yazınız.

Ondalık kesir	Tam kısmı			Kesir kısmı	
	Onlar basamağı	Birler basamağı		Onda birler basamağı	Yüzde birler basamağı
0,5	0	0	,	5	0
0,52	0	0	,	5	2
0,03	0	0	,	0	3
1,28	0	1	,	2	8
2,07	0	2	,	0	7
15,02	1	5	,	0	2
13,03	1	3	,	0	3
10,80	1	0	,	8	0

6. Aşağıdaki verilen modelleri yanlarında yazılı olan ondalık kesirlere göre boyayınız.




$$\frac{6}{10}$$

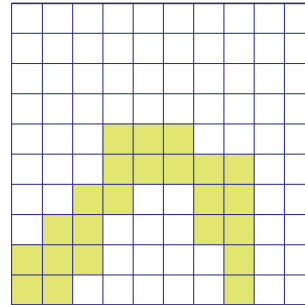


$$\frac{39}{100}$$

7. Aşağıda verilen boyanmış modellere karşılık gelen kesirleri modellerin yanındaki uygun yerlere yazınız.



$$\frac{4}{10}$$



$$\frac{23}{100}$$

Proje Uyarısı: Proje için fen günlüğü tutuyor musunuz?