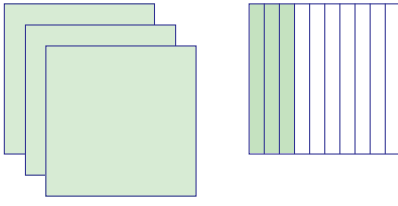


5. Aşağıdaki modellere karşılık gelen ondalık kesirleri yazınız ve okuyunuz.

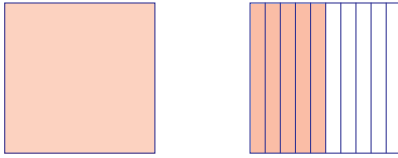
a.



Tam kısmı			Kesir kısmı	
Onlar basamağı	Birler basamağı	,	Onda birler basamağı	Yüzde birler basamağı
0	3	,	3	

Okunuşu:

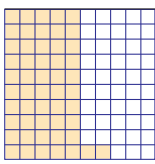
b.



Tam kısmı			Kesir kısmı	
Onlar basamağı	Birler basamağı	,	Onda birler basamağı	Yüzde birler basamağı
0	1	,	5	

Okunuşu:

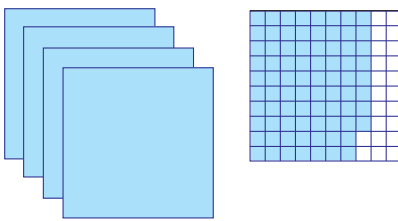
c.



Tam kısmı			Kesir kısmı	
Onlar basamağı	Birler basamağı	,	Onda birler basamağı	Yüzde birler basamağı
	0	,	5	2

Okunuşu:

ç.



Tam kısmı			Kesir kısmı	
Onlar basamağı	Birler basamağı	,	Onda birler basamağı	Yüzde birler basamağı
	4	,	7	8

Okunuşu:

www.ogretmenler.com

Ondalık Kesirleri Karşılaştırma

Kurulan pazarlardan alışveriş yapmak önemli alışkanlıklarımızdandır. Buralardan taze ürünleri daha ekonomik olarak satın alabilirsiniz.

Etiketlerdeki fiyatlarda ondalık kesirleri görebilirsiniz.

✓ Fotoğraftaki etiketlere göre pırasa mı yoksa havuç mu daha pahalıdır?



Ondalık Kesirleri Sıralayalım ve Ondalık Kesir Oluşturalım



: Kareli kâğıt, makas, cetvel, boya kalemleri, renkli karton (4 farklı renkte).

- ⌚ Kareli kâğıtlardan yararlanarak 100 eş parçadan oluşan iki ayrı model hazırlayınız.
- ⌚ Modellerin üzerindeki eş parçalardan istediğiniz kadarını boyayınız.
- ⌚ Boyadığınız kısımlara karşılık gelen ondalık kesirleri yazınız.
- Hangisinde boyalı kısım daha büyüktür.
- Buna göre hangi ondalık kesir daha büyüktür? Sembol kullanarak karşılaştırınız.