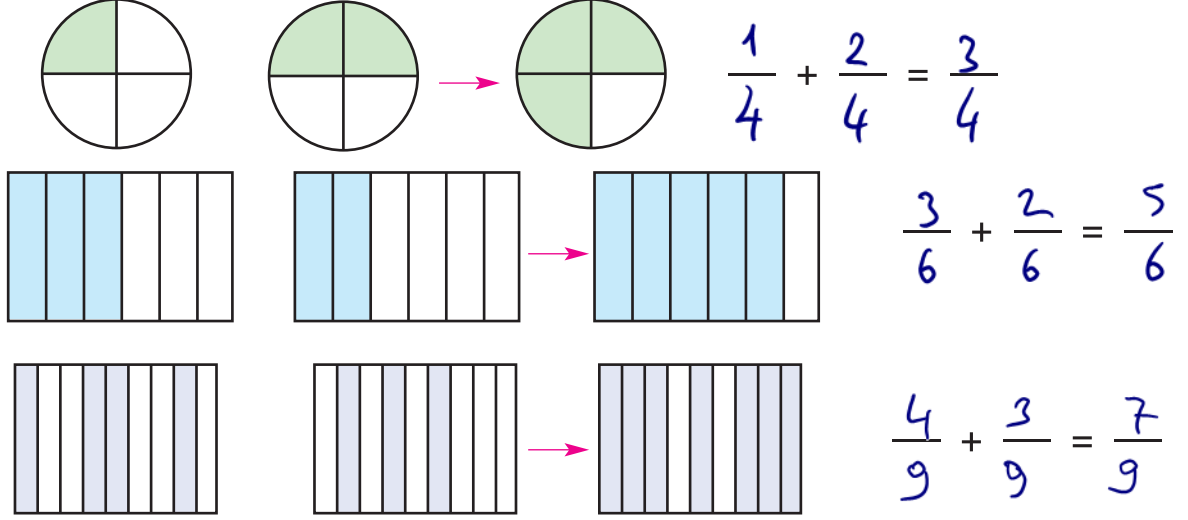
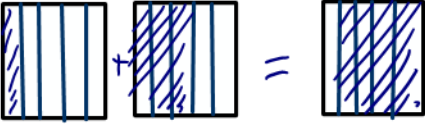
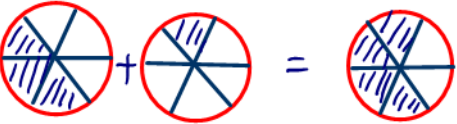



Paydaları Eşit Kesirlerle Toplama ve Çıkarma İşlemleri

1. Aşağıdaki modellerin karşılığı olan kesirleri yazıp toplamını bulunuz.



2. Aşağıdaki toplama işlemlerinin sonuçlarını yazarak toplananları ve toplamı kesirlerle yapılan işlemlerin altlarındaki boşluklara modelleyiniz. www.ogretmenler.com

$\frac{1}{5} + \frac{3}{5} = \frac{4}{5}$ 	$\frac{2}{12} + \frac{3}{12} = \frac{5}{12}$ <p>1) İki adet aynı şekli 12 ye böl 2) Birinde 2 diğende 3 yer tara 3) Sonuçta 5 bölge tara</p>
$\frac{3}{6} + \frac{1}{6} = \frac{4}{6}$ 	$\frac{5}{10} + \frac{2}{10} = \frac{7}{10}$ <p>Benzer şekilde</p> <p>www.ogretmenler.com</p>
$\frac{3}{8} + \frac{2}{8} = \frac{5}{8}$ 	$\frac{7}{15} + \frac{4}{15} = \frac{11}{15}$ <p>Benzer şekilde</p>

Proje Uyarısı: Tohumun gelişimini takip ediyor musunuz?