

Öğrencinin Adı-Soyadı:

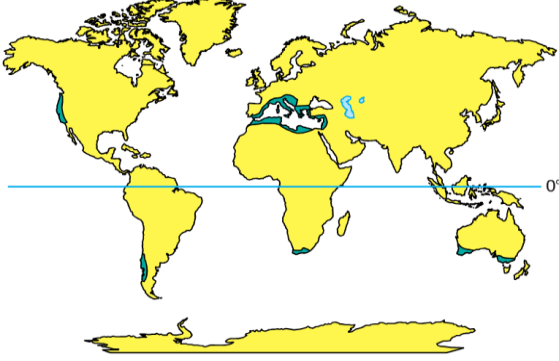
Sınıf-No:

TEKKEKÖY ANADOLU İMAM HATİP LİSESİ 2016-2017 EĞİTİM ÖĞRETİM YILI 1.DÖNEM  
COĞRAFYA 10 DERSİ 1. YAZILI SINAVIDIR. BBBB BBBB BBBB

SORU 1: Başlıca ağaç formasyonlarını yazınız.

CEVAP:

SORU 2:



Yandaki haritada dağılışı verilen doğal bitki örtüsünün  
adını ve başlıca türlerini yazınız.

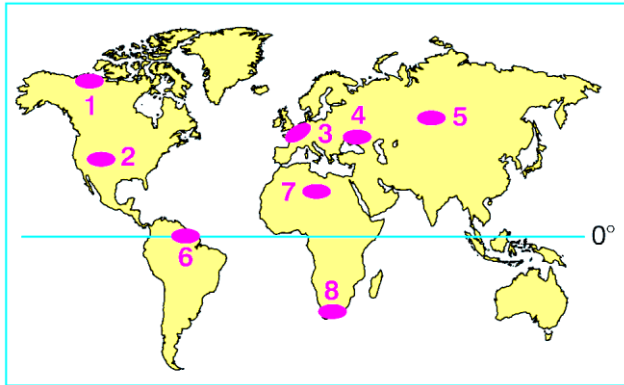
CEVAP:

SORU 3: Kimyasal çözülmenin etkili olduğu alanları yazınız.

CEVAP:

SORU 4: Azonal (taşınmış) toprakları maddeler halinde yazınız.

CEVAP:



SORU 5: Aşağıdaki haritada 1. 3. 5. ve 7. numaralı  
bölgelerdeki zonal toprakları yazınız.

CEVAP: 1.....

3.....

5.....

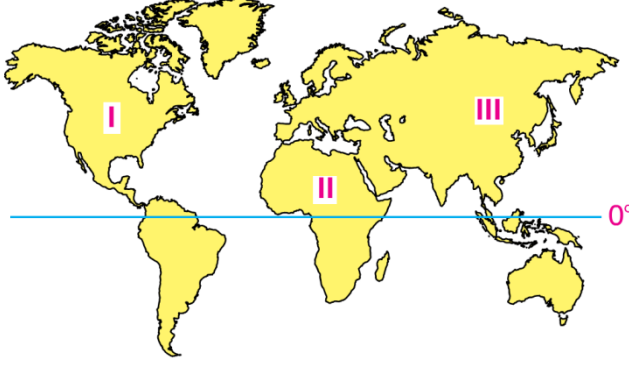
7.....

SORU 6: Yeraltı suyunun miktarını ve beslenmesini etkileyen başlıca faktörleri maddeler halinde  
sıralayınız.

CEVAP:

Öğrencinin Adı-Soyadı:  
Sınıf-No:

SORU 7: Oluşumlarına göre gölleri maddeler halinde yazınız.  
CEVAP:



SORU 8. Aşğıdaki haritada  
numaralandırılmış kıtaların adlarını yazınız.

CEVAP: I.....  
II.....  
III.....

SORU 9: Kimyasal tortul taşlara beş örnek yazınız.

CEVAP: 1..... 2..... 3.....  
4..... 5.....

SORU 10: Aşağıdaki terimleri tanımlayınız.

Hidrolojik döngü .....

Acı Göller.....

Başarılar dilerim.  
Musa ÖZCAN

DİPÇE: Her soru 10 puan değerinde olup, süre 40 dakikadır.