

# KAMU PERSONEL SEÇME SINAVI ORTAÖĞRETİM - ÖN LİSANS

GENEL YETENEK TESTİ - GENEL KÜLTÜR TESTİ



T.C. KİMLİK NUMARASI :

ADI :

SOYADI :

## SINAV PROVASI – 2

**DİKKAT! SINAV BAŞLAMADAN ÖNCE AŞAĞIDAKİ UYARILARI MUTLAKA OKUYUNUZ.**

1. Adınızı, soyadınızı ve T.C. kimlik numaranızı soru kitapçığı üzerindeki ilgili alanlara yazınız.
2. İl, grup ve branş kodunuzu cevap kâğıdınızdaki ilgili alana kodlayınız. Bu kodlamayı cevap kâğıdınıza yapmadığınız veya yanlış yaptığınızda cevap kâğıdınız değerlendirilemez.
3. Bu sayfanın arkasında yer alan açıklamayı dikkatle okuyunuz.

## AÇIKLAMA

1. Genel Yetenek Testi ve Genel Kültür Testi için verilen toplam cevaplama süresi **120 dakikadır (2 saat)**.
2. Testi cevaplamaya istediğiniz sorudan başlayabilirsiniz. Ancak her sorunun cevabını cevap kâğıdında o soru için ayrılmış olan yere işaretlemeyi unutmayınız.
3. Testteki her sorunun sadece bir doğru cevabı vardır. Bir soru için birden çok cevap yeri işaretlenmişse o soru yanlış cevaplanmış sayılacaktır.
4. Bu kitapçıktaki soruların cevapları, kitapçıkla birlikte verilen cevap kâğıdında ayrılmış olan yerlere, kurşun kalemle işaretlenecektir. Cevap kâğıdı buruşturulmayacak, üzerine gereksiz hiçbir işaret konulmayacaktır.
5. Bu testler puanlanırken her testteki doğru cevaplarınızın sayısından yanlış cevaplarınızın sayısının dörtte biri düşülecek ve kalan sayı o testle ilgili ham puanınız olacaktır. Bu nedenle, hakkında hiçbir fikriniz olmayan soruları boş bırakınız. Ancak, soruda verilen seçeneklerden birkaçını eleyebiliyorsanız kalanlar arasında doğru cevabı kestirmeye çalışmanız yararınıza olabilir.

*Bu testlerin her hakkı saklıdır. Hangi amaçla olursa olsun, testlerin tamamının veya bir kısmının **İhtiyaç Yayıncılık**'ın yazılı izni olmadan kopya edilmesi, fotoğrafının çekilmesi, herhangi bir yolla çoğaltılması, yayımlanması ya da kullanılması yasaktır. Bu yasağa uymayanlar gerekli cezai sorumluluğu ve testlerin hazırlanmasındaki mali külfeti peşinen kabullenmiş sayılır.*

1. Bu testte 60 soru vardır.

2. Cevaplarınızı, cevap kâğıdının Genel Yetenek Testi için ayrılan kısmına işaretleyiniz.

1. Bu kitapta, birbirinden etkileyici dokuz öykü yer almaktadır.

**Bu cümledeki altı çizili sözle aşağıda verilenlerden hangisi anlatılmak istenmiştir?**

- A) Her bakımdan başkalarını kendine çeken  
B) Bütün yönlerden ilgi uyandıran  
C) Biri ötekiden, öteki de ondan fazla, okuyucuya te-  
sir eden  
D) Birçok bakımdan kendini kanıtlayan  
E) Bir anda çok fazla beğenilen

2. Gelenekten her zaman için yararlanılabilir. Kimi ozanların bu deneylerde başarısızlığa uğramaları kanımca, onların

halkla göbek bağı kuramamış olmalarından ileri gelmek-  
tedir. Türkünün ya da ağıtın halk yaşamı içerisindeki ye-  
rini ve işlevini bilmeyenler, bunlardan yararlanarak ortaya

gerçek sentezler koyamazlar. Dünya görüşleri ne kadar

olumlu olursa olsun, birer özentiden öteye gitmez çabaları.

**Bu parçadaki numaralanmış sözcüklerle ilgili olarak aşağıda verilen açıklamalardan hangisi yanlıştır?**

- A) I. sözcük, başkalarına göre anlamındadır.  
B) II. sözcük, iş görme yetisi demektir.  
C) III. sözcük, ilgili öğeleri bir araya getirerek birleştir-  
me ifadesini anlamca içermektedir.  
D) IV. sözcük, beğendiği şeye benzeme çabasını dile  
getirmektedir.  
E) V. sözcük, “uğraşı” kavramını karşılamaktadır.

3. “Yaban Vatan” adıyla Türkçeye çevrilen bu eser, alışık olduğumuz tarzın ötesinde bir üslupla zorlukların cen-  
deresinden geçmiş insanları anlatmaktadır.

**Bu cümledeki “alışık olduğumuz tarzın ötesi” sözüyle yazar, aşağıdakilerden hangisini anlatmak istemiş-  
tir?**

- A) Benimsenen yollardan birisi  
B) Denenmiş tekniklerden sonuncusu  
C) Bilinmeyen tekniklerden sonuncusu  
D) Yadırganmayan biçimlerden başkası  
E) Beğenilmeyen anlatımlardan farklısı

4. Dünya Bankasının ekonomiyle ilgili raporuna göre kriz

tüm dünyayı sarıyor.

**Bu cümledeki numaralanmış sözcüklerden hangisi mecaz anlamında kullanılmıştır?**

- A) I. B) II. C) III. D) IV. E) V.

5. Aşağıdaki cümlelerin hangisinde deyim açıklamasıyla birlikte verilmiştir?

- A) Benim tanıdığım Cemil ise bal alacak çiçeği bilir.
- B) Senin işin, kişiyi sıkıntılar ve üzüntülerle yıpratır bir iş, ömür törpüsü âdeta.
- C) Baklayı ağzından çıkarınca mesele aydınlanmış oldu.
- D) Evet, bir iyilik yaptı ama babasının hayrına da yapmadı.
- E) Büyükşehirin havası onun başına birçok dert açtı.

6. İç kuvvetlerin etkisiyle tektonik göller, dış kuvvetlerin etkisiyle heyelan set gölleri, alüvyal göller, kıyı set gölleri ve bunlar gibi birçok göl meydana gelmiştir.

Yukarıdaki numaralanmış sözlerden hangisi terim değildir?

- A) I. B) II. C) III. D) IV. E) V.

7. Aşağıdaki cümlelerin hangisinde yazar, üslup özelliğini dile getirmemiştir?

- A) Romanlarımda daha çok somut anlamlı sözcüklere yer veririm.
- B) Şiirlerimde, bir sözcük evreni kurar, sözcükleri şaşırtıcı biçimde bir araya getiririm.
- C) Öykülerimde, kahramanlarımı şiveleriyle konuştururum.
- D) Oyunlarımda, günlük konuşma dilini kullanmaya özen gösteririm.
- E) Her eserimde ele aldığım konunun güncel olmasına dikkat ederim.

8. Aşağıdaki cümlelerin hangisinde bir kararsızlık dile getirilmiştir?

- A) Daha önce işlediğim bu konuyu yeniden anlatmamı ister misin?
- B) Düşünüp duruyorum bu akşam roman mı okusam öykü mü?
- C) Günlük yazılarımda her şeyden önce insana saygılı olmaya çalışıyorum.
- D) Bugün yeni bir yazı yazmanın ışıldakları yanmadı içimde.
- E) Köşe yazılarınızı, günlük konuların güncel sıcaklığını onlara katarak mı yazıyorsunuz?

9. (I) Hayat, müzik gibidir. (II) İlk bakışta herkesinki birbirine benzer: Doğum ve ölüm. (III) Tıpkı bütün bestelerin sekiz notayla yazılması gibi. (IV) Notalar aynı notalardır fakat onların dizilişleri, birbiriyle uyumları, inişleri çıkışları her bestede farklı farklıdır. (V) Hayat da öyledir işte, bir anı diğerine benzemez.

**Bu parçadaki numaralanmış cümlelerle ilgili olarak aşağıda verilenlerden hangisi yanlıştır?**

- A) I. cümlede, bir kavram karşıt yönleriyle verilmiştir.  
B) II. cümlede, ileri sürülen görüş örneklendirilmiştir.  
C) III. cümlede, II. cümledeki benzerliğin açıklaması yapılmıştır.  
D) IV. cümlede, notaların kendilerine özgü özellikleri açıklanmıştır.  
E) V. cümlede, bir çıkarımda bulunulmuştur.

10. (I) 2001 yılı başında dünyaya ilk mesajını geçen Wikipedia, aradan geçen 10 yılda İnternet alanında en çok başvurulan kaynak hâline geldi. (II) Jimmy Wales ve Larry Sagner editörlüğünde yayına başlayan İnternet Ansiklopedisi, 2003'te 100 bin makaleyi geçti. (III) Ertesi yılsa bu rakam kendini ona katladı. (IV) Tüm Wikipedia sitelerinde makale sayısı 1 milyona ulaştı. (V) Bunların yarısından biraz daha azı İngilizce Wikipedia'ya aitti.

**Wikipedia'nın tanıtıldığı bu parçadaki numaralanmış cümlelerle ilgili olarak aşağıda verilenlerden hangisi yanlıştır?**

- A) I. cümlede, karşılaştırma yoluyla bir saptama yapılmıştır.  
B) II. cümlede, kimlerin düzenleyiciliğinde yayımlandığına değinilmiştir.  
C) III. cümlede, yayım tarihindeki makale sayısının toplamı açıklanmıştır.  
D) IV. cümlede, bütün yapılarıdaki yazı sayısı verilmiştir.  
E) V. cümlede, makalelerin hangi oranda İngilizceye ait olduğu tam olarak belirtilmemiştir.

11. (I) Bu ayki binek ve hafif ticari araç satışlarının 110 - 120 bin civarında gerçekleşeceği bildiriliyor. (II) Yıl sonunda bu sayının ağır ticari araçlarla birlikte toplamda 850 - 900 bine ulaşması bekleniyor. (III) Bu adetlerle otomotiv satışları, geçen yılki 760 bin dolayındaki rekoru kırmış olacak. (IV) Sektör, sadece satış ve taşıt kredileriyle değil, üretimle de rekor kırmaya hazırlanıyor. (V) Nitekim 11 aylık üretim rakamı 1 milyon 84 bini bulduğundan sektörün 2008 yılında elde ettiği 1 milyon 170 bin civarındaki üretim rekorunu kırmasına kesin gözüyle bakılıyor.

**Bu parçadaki numaralanmış cümlelerle ilgili olarak aşağıda verilenlerden hangisi yanlıştır?**

- A) I. cümlede, bir tahminde bulunuluyor.  
B) II. cümlede, elde edilen kesin sonuç açıklanıyor.  
C) III. cümlede, bir karşılaştırma yapılıyor.  
D) IV. cümlede, hangi hedeflere ulaşılacağı bildiriliyor.  
E) V. cümlede, rekora ulaşılmasının neden kesin olduğu açıklanıyor.

12. Eskiden varlığın bir sırrı vardı  
I II

Meyve dalgın dalgın düşerdi yere  
III

Ancak o gün ferahlık geldi goncalara  
IV

Güller ondan sonra yaprak yaprak kızardı  
V

**Bu dörtlükteki numaralanmış sözcüklerin hangisinde ünsüz türemesi görülmektedir?**

- A) I. B) II. C) III. D) IV. E) V.

13. Türkiye Jokey Kulübüne kayıtlı toplam 5 bin 253 at  
I

sahibi, 3 bin 626 seyis, 492 jokey, 580 apranti (jokey  
II III

yamağı), 1195 antrenör, 2 bin çalışan var. TJK'ya bağlı  
IV

2 bin 500 ganyan bayisinde de 10 bin kişi çalışıyor. Yan  
V

hizmetlerle birlikte atçılık sektöründeki toplam istihdam  
100 bin kişinin üzerinde.

**Bu parçadaki numaralanmış sözlerin hangisinde bir yazım yanlışı vardır?**

- A) I. B) II. C) III. D) IV. E) V.

14. **Aşağıdaki cümlelerin hangisinde noktalama yanlışı vardır?**

- A) Aralarından en çelimsizini seçti, yavaşça kendine çekti.  
B) Arkadan gelenleri gördüm, telaşlanarak kapıya yöneldim.  
C) Ne muhteşem bir görüntü, ne hoş bir renk uyumu diye düşündü.  
D) Burada turuncunun tüm kokularını hissedip, mavi ile yeşilin olağanüstü uyumunu izleyebilirsiniz.  
E) Ormanın derinliklerinden, karanlıktan gelen çakal sesiyle titredi.

15. **Aşağıdaki cümlelerin hangisinde zarf kullanılmamıştır?**

- A) Olaylar sırasında çektiği fotoğrafları bize gösterirken çok heyecanlı görünüyordu.  
B) Bu ölümsüz karelerde yer alan tanıdıklarımı, arkadaşlarımı epey zamandır görmemiştim.  
C) O fotoğraflarda benim yaşamımdan da sahneler vardı.  
D) Fotoğrafları karıştırdıkça unuttuğum ayrıntıları bir bir anımsadım.  
E) Slayt gösterisi başladığında ben de en ön sıradaki yerimi çoktan almıştım.

16. Aşağıdaki cümlelerin hangisinde ara söz kullanılmıştır?

- A) Toplantıdan sonra çay bahçesinde oturup uzun uzun sohbet ettik.
- B) Sergide, Cumhuriyetten önceki Ankara'dan siyah beyaz birçok kare yer alıyordu.
- C) Salondaki konuklar arasında Atatürk'ün de olduğunu biliyordum.
- D) Aklımda kaldığı kadarıyla, o gün ben gezi konusunda arkadaşlara bir öneride bulunmuştum.
- E) Yıllar önce, lise birinci sınıftayken, okulumuzun 10 Kasım ile ilgili töreninde ben de şiir okumuştum.

17. Artık Türkiye'de de hortumlar görülüyor. Uzmanlara göre önümüzdeki yıllarda bu tür afetler, daha sık yaşanacak; can ve mal kayıplarına neden olacak. Meteorolojik veriler de bu öngörülerini doğruluyor.

Bu parçada aşağıdakilerden hangisi yoktur?

- A) Edat
- B) Özel isim
- C) Ünlem
- D) Bağlaç
- E) Zarf

18. (I) İlk İstanbul'a geldiğimde elektronik aletler satan bir firmaya dağıtım şoförü olarak girmiştım. (II) Bir yıla yakın süre öyle bir kamyon şoförlüğüm oldu. (III) Yoksul olunca ne iş bulursan onu yapıyorsun. (IV) Ankara'da öğrenciyken Batıkent yeni kurulmuştu; orada marley işçiliği yapıyorduk bir yandan. (V) Öğrenciyken boza da sattık, milli piyango bileti de.

Bu parçadaki numaralanmış cümlelerin hangilerinde anlatım bozukluğu vardır?

- A) I. ve II.
- B) II. ve III.
- C) II. ve IV.
- D) III. ve V.
- E) IV. ve V.

19. Boz bir eşek üzerinde ak sakallı bir ihtiyar, karısının ardından, pabuçlarını eline almış yayan gidiyordu.

Bu cümledeki anlatım bozukluğu aşağıda verilenlerin hangisiyle ilgilidir?

- A) Anlamca çelişen sözcüklerin aynı cümlede kullanılmasıyla
- B) Mantığa aykırılıkla
- C) Eş anlamlı sözcüklerin bir arada kullanılmasıyla
- D) Sözcüğün yanlış yere getirilmesiyle
- E) Noktalama eksikliğiyle

20. Aşağıdaki cümlelerin hangisinde gereksiz sözcük kullanımından kaynaklanan bir anlatım bozukluğu vardır?

- A) Çağımızın yazarı için bireyin değil, çoğunluğun hâli önemlidir.
- B) Sanat, toplumsal gerçeklerin yansıtılması için önemli bir araçtır.
- C) Sanatçı, olayları toplumun yararını gözeterek ifade etmelidir.
- D) Sanat eserinin temelinde her zaman sanatçının kendi yaşamı vardır.
- E) Sanatçı kendi yaşamını eserinden soyutlayabildiği ölçüde kıymet ve değer kazanır.

21. (I) Bu yıllığında Veysel Çolak, şiir seçme konusunda oldukça nesnel ve seçim yelpazesini geniş tutmuş gibi görünüyor. (II) Bir şair olarak kendi şiir anlayışına yakın olanları seçmek suçlamasına karşı çok dikkatli görünüyor. (III) O bakımdan seçimlerinde eşitlikçi davranmış ve her şairden tek şiir seçmiş. (IV) Sadece yakın zamanda yitirdiğimiz değerli şair Halil İbrahim Bahar'dan iki şiir almış. (V) Bir şairin adı yanlışlıkla şiir üstünde çıkmamış; onun dışında önemli bir yazım hatası görünmüyor.

**Bu parçadaki numaralanmış cümlelerin hangisinde anlatım bozukluğu vardır?**

- A) I. B) II. C) III. D) IV. E) V.

22. (I) Grafik tasarımı, uygulama alanı ne olursa olsun, dinamik bir anlatım gerektirir. (II) Bu dinamizmin itici gücü, iletişimdir. (III) Grafik tasarımcı, sanat yapmayı amaçlamaz ama etkileyici bir iletişim kurabilmek için değişik ifade biçimlerinden sürekli olarak yararlanır. (IV) Bu çalışmada, grafik tasarımı, bir iletişim sanatı olarak ele alınmıştır. (V) Giriş bölümünde, iletişim sanatına ve grafik tasarımın kısa tarihine yer verilmiştir. (VI) İzleyen bölümlerde ise bu sanatın grafik tasarım teknolojisi ile belli başlı uygulama alanları genel hatlarıyla incelenmektedir.

**Bu parça iki paragrafa ayrılmak istense ikinci paragraf kaç numaralı cümleyle başlar?**

- A) II. B) III. C) IV. D) V. E) VI.

23. Boş zamanlarını doktorlarda geçirir. Hastane hastane, doktor doktor dolaşır. Kendisinde bir hastalık buldurmayla çalışır. Beceriksiz doktorlar, yirmi yıldır onda ciddi bir hastalık bulamadı. Anamur, Alanya, Mersin, Adana ve Ankara'da dolaşmadığı hastane kalmadı. Yok, bulamıyorlar.

**Bu parçanın anlatım biçimi aşağıdakilerden hangisidir?**

- A) Tartışma B) Öyküleme
- C) Tanımlama D) Karşılaştırma
- E) Örneklendirme

24. Oyuncak müzelerini gezerken içimde hep anlaşılmaz, garip bir duygu taşıdım. (I) Bu beni rahatsız etti, istirdiyenin içine bir kum taneciği girer, istirdiye bundan rahatsızlık duyar ya onun gibi. (II) İstirdiye, o kum taneciğini izole etmek için onun etrafını bir salgıyla çevirir. (III) Hani böylelikle inci oluşur ya... (IV) İşte oyuncak müzesi de böyle bir inci. (V) Çünkü bugün uygar ülkelerin oyuncak müzeleri var; o zaman bir salgı ortaya çıkardım ve bu müzeyi kurdum.

**Bu parçadaki numaralanmış yerlerden hangisine "Neden benim ülkemde oyuncak müzesi yok diye." cümlesi getirilebilir?**

- A) I. B) II. C) III. D) IV. E) V.

25. ---- . Çünkü onun kökü, yazılı tarihin gerisine uzanır. Hatta, yoganın insanlık tarihi kadar eski olduğu söylenir. Yogaya ait elimizdeki en eski belge, yapılan arkeolojik kazılarda ortaya çıkartılan ve üzerinde yoga yapan insan figürleri bulunan 5000 yıllık mühürlerdir.

**Bu parçanın başına aşağıdakilerden hangisi getirilmelidir?**

- A) Yoganın başlangıcı bilinmemektedir  
B) Yoganın bir spor çeşidi olduğu açıklanmıştır  
C) Yoga, aynı zamanda bir tapınma şeklidir  
D) Yoganın günümüzdeki örnekleri eskilerini andırmaktadır  
E) Yoganın hangi aşamalardan geçtiği bilimsel olarak ortaya konmuştur

26. Türkiye'de küresel iklim değişikliği ile birlikte artması beklenen meteorolojik afetlerin başlıcaları şunlar: Kuraklık (kıtık, orman yangını, sıcak hava dalgaları, tarımsal haşareler...), ani seller (şiddetli yağmur ve yıldırımlar ile birlikte rüzgâr fırtınaları), deniz suyu seviyesindeki yükselmeler. Bu üç önemli sorunun etkilerini gelecekte daha fazla hissedeceğiz.

**Bu parça aşağıdaki sorulardan hangisine verilmiş bir cevap olabilir?**

- A) Küresel ısınmadan Türkiye de etkilenecek mi?  
B) İklim değişikliği, Türkiye'de doğa olaylarını artıracak mı?  
C) Çevre kirliliğinin yol açtığı olumsuzluklar Türkiye'de de görülecek mi?  
D) Doğal dengedeki değişimleri Türkiye de yaşayacak mı?  
E) Türkiye'deki sebze alanları suların kirlenmesinden olumsuz etkilenecek mi?

27. (I) Okullarda çocukların birbirlerine, öğretmenlerine ad takması öğrencilik yaşamının vazgeçilmez yanlarından biridir. (II) Döneme göre "lakap" denilen bu adlar değişse de hemen hemen her çocuğun, adının dışında, onu tanımlayan, kimliğini deşifre eden bir takma adı vardır. (III) İnsanların kimileri, kendilerine başka bir adla hitap edilmesinden hoşlanmazlar. (IV) Öğrenciler, öğretmenlerine ad taktıkları gibi, bazen istemeden öğretmenler de öğrencilerine ad takarlar. (V) Gerçekten, hem de istemeden...

**Bu parçadaki numaralanmış cümlelerden hangisi anlatımın akışını bozmaktadır?**

- A) I. B) II. C) III. D) IV. E) V.

28. 60 yaşımıdayım ve 1949 yılından beri yazarım. Kendi kendini eğitmiş bir adamım. Başkalarına yararı dokunabilecek şeyler yazmak gibi bir iddiam yok. Yazdığım zaman, sözüm ona ne olmam gerekiyorsa o olurum. Bir metre seksen sekiz santim boyundayım ve yaklaşık doksan kilo geliyorum. Yüzdüğüm zamanlar hariç, elim koluma hiç hâkim olamam. Yazma işini o emanet et yığını yapar. Ama suyun içindeyken bana doyum olmaz.

**Bu parçada kendisinden söz eden yazarla ilgili olarak aşağıdakilerden hangisi çıkarılamaz?**

- A) Halka faydalı konuları işlemektedir.
- B) Yazarlıkta uzun bir geçmişe sahiptir.
- C) Kendini yetiştirmiş bir sanatçıdır.
- D) Fiziksel özellikleri ortalamanın üstündedir.
- E) Beğenilecek yanları bulunmaktadır.

29. Başlıca bilim disiplinleri ve sanat akımlarıyla siyaset, sanat, bilim alanında çığır açan tarihsel kişilikler üzerine yazılmış kitapları kapsayan "Kültür Kitaplığı", bu alandaki en zengin ve nitelikli başvuru dizisi olma özelliğine sahip. Her ay düzenli olarak yayımlanan üç - dört kitap, bir taraftan irdelenen konuyu ana hatları ve temel bileşenleri dâhilinde çözümlerken bir taraftan da getirdiği öte - okuma önerileri sayesinde konunun kronolojik, estetik ya da akademik biçimde derinleştirilmesine olanak sağlıyor. Alanının belli başlı uzmanları tarafından kaleme alınan yapıtlar, herhangi bir konuyu ya da tarihsel kişiliği özlü ve anlaşılır kılma çabasını güderken temanın bilimsel ve entelektüel ağırlığından ödün vermeyen bir yaklaşımı temsil ediyor.

**Bu parçada Kültür Kitaplığı ile ilgili olarak aşağıdakilerden hangisine değinilmemiştir?**

- A) Yayımladığı eserlerin içeriğine
- B) Satış grafiğinin nasıl seyrettiğine
- C) Hangi özellikleri taşıdığına
- D) Nasıl bir yayın akışı izlediğine
- E) Yayın alanında hangi ilkeyi benimsediğine

30. Antik Akdeniz uygarlıkları ve onlar arasındaki kültürel etkileşimin çağdaş dünyaya yön veren baskın bir vurguya sahip olduğu savından hareket eden bu kitap, sadece bu kültürel ve toplumsal ortak paydanın değil, aynı zamanda bu uygarlıkların da kendi içinde çözümlendiği başlıca bir kaynak olma niteliğini taşıyor. MÖ 3200 tarihiyle başlayan geniş bir bağlam içinde, insanlık tarihinin birçok alandaki temel kazanımlarının kökeni olduğunda birleşilen kapsamlı bir uygarlık çözümlemesi ve konuyu anlaşılır kılma amacını güden tamamlayıcı şema, çizelge, resim ve planlarla esaslı bir başvuru kitabı.

**Bu parçada tanıtılan kitapla ilgili olarak aşağıdakilerden hangisine değinilmemiştir?**

- A) Bir iddiaya bağlı olarak hazırlandığına
- B) Değişik medeniyetleri tahlil ettiğine
- C) Ele aldığı konuların açıklığa kavuşmasına yardımcı olacak öğeler içerdiğine
- D) Belli bir noktadan başlayarak konusunu ele aldığına
- E) Medeniyetler arası uyumun nasıl sağlanacağına

31.

$$\frac{4}{5} \cdot \frac{2\frac{1}{2} - 3}{2}$$

işleminin sonucu kaçtır?

- A)  $-\frac{22}{5}$  B)  $-4$  C)  $-\frac{16}{5}$  D)  $-3$  E)  $-\frac{12}{5}$

32. x ve y pozitif tam sayılar olmak üzere

$$0! \cdot 1! \cdot 2! \cdot 3! \cdot \dots \cdot 26! = x \cdot 13^y$$

olduğuna göre y en çok kaç olabilir?

- A) 11 B) 12 C) 13 D) 14 E) 15

33. 54! sayısının sondan kaç basamağı sıfırdır?

- A) 10 B) 11 C) 12 D) 13 E) 14

34.

$$A = \frac{2}{13} + \frac{6}{17} + \frac{9}{19}$$

olduğuna göre  $\frac{9}{13} + \frac{5}{17} + \frac{1}{19}$  ifadesinin A türünden eşiti nedir?

- A)  $A + 3$  B)  $1 - 3A$  C)  $2A - 3$   
D)  $3 - A$  E)  $3 - 2A$

35. 2 ile bölündüğünde 1, 3 ile bölündüğünde 2, 4 ile bölündüğünde 3 kalanını veren iki basamaklı kaç tane pozitif tam sayı vardır?

- A) 8      B) 9      C) 10      D) 11      E) 12

36.  $y < x < 0$  olmak üzere

$$z = \frac{x + 3y}{y}$$

olduğuna göre aşağıdakilerden hangisi doğrudur?

- A)  $1 < z < 2$       B)  $0 < z < 1$       C)  $2 < z < 3$   
D)  $3 < z < 4$       E)  $4 < z < 5$

37.

$$||-5| - |-4|| - |-6|$$

işleminin sonucu kaçtır?

- A) -2      B) -4      C) -5      D) -6      E) -7

38.

$$(-a^5) \cdot (-a^2)$$

çarpımının sonucu aşağıdakilerden hangisine eşittir?

- A)  $-a^{-10}$       B)  $-a^{10}$       C)  $a$   
D)  $a^7$       E)  $a^{-10}$

39.

$$\frac{2^{a-2}}{3^{1-a}} = 18$$

olduğuna göre a kaçtır?

- A) 3      B) 4      C) 5      D) 6      E) 7

40.

$$x = \frac{1}{\sqrt{3}}$$

$$y = \frac{1}{\sqrt[3]{4}}$$

$$z = \frac{1}{\sqrt[4]{5}}$$

olduğuna göre aşağıdaki sıralamalardan hangisi doğrudur?

- A)  $x > y > z$       B)  $z > y > x$       C)  $z > x > y$   
D)  $y > x > z$       E)  $y > z > x$

41. x ve y birer pozitif tam sayı olmak üzere

$$x^2 - y^2 = 13$$

olduğuna göre x kaçtır?

- A) 3      B) 4      C) 5      D) 6      E) 7

42.

$$x^2 + 6x + 1 = 0$$

olduğuna göre  $x^2 + \frac{1}{x^2}$  ifadesinin değeri kaçtır?

- A) 40      B) 38      C) 36      D) 34      E) 32

43. Bir sayının  $\frac{4}{7}$  si ile  $\frac{2}{7}$  sinin farkı 44 ise bu sayının  $\frac{1}{11}$  i kaçtır?

A) 15 B) 14 C) 13 D) 12 E) 11

45. Bir kumbarada bulunan 1 TL ve 5 TL liklerden oluşan 24 adet paranın tutarı 56 TL dir.

**Bu paralardan kaç tanesi 1 TL liktir?**

A) 20 B) 16 C) 12 D) 8 E) 4

44. a, b, c maddeleri,

$$\frac{a}{b} = \frac{1}{2}$$

$$\frac{b}{c} = \frac{8}{11}$$

oranında karıştırılarak bir karışım elde ediliyor.

**Karışımda en çok bulunan maddenin miktarı 220 g olduğuna göre karışımda en az bulunan maddenin miktarı kaç gramdır?**

A) 80 B) 90 C) 100 D) 120 E) 150

- 46.



84 kg



72 kg



60 kg

**84 kg pirinç, 72 kg bulgur ve 60 kg nohut hiç artmayacak şekilde birbirine karıştırılmadan eşit büyüklükteki en az kaç çuvala konulabilir?**

A) 12 B) 14 C) 16 D) 18 E) 20

47. Hızı saatte 50 km olan bir sandalın; akıntı hızı saatte 30 km olan bir nehir üzerinde akıntı yönünde hareket ederek 4 saatte aldığı yolu, akıntıya karşı 5 saatte alabilmesi için hızını saatte kaç km artırması gerekir?

- A) 52      B) 48      C) 44      D) 42      E) 36

48. 60 kişilik bir sınıfın % 60 ı kızdır.

**Bu sınıfa kaç erkek öğrenci gelirse kızlar sınıfın % 50 si olur?**

- A) 14      B) 12      C) 10      D) 8      E) 6

49. Cem, Gülay'ın 5 katı hızla çalışmaktadır. Cem ile Gülay bir işi birlikte a günde yapabiliyorlar. Cem 3 gün, Gülay 5 gün çalışınca işin  $\frac{3}{a-1}$  i bitiyor.

**Cem tek başına, aynı işin yarısını kaç günde yapabilir?**

- A) 2      B) 3      C) 4      D) 5      E) 6

50. Bir çiftlikteki hindiler, başlangıç ağırlığının iki katına ulaştığında kesime gönderilecektir.

**Bir hindinin ağırlığı haftada % 20 arttığına göre çiftlikteki hindiler en az kaç hafta sonra kesime gönderilir?**

- A) 5      B) 4      C) 3      D) 2      E) 1

51. Bir sınıftaki tüm öğrencilerin % 65 i matematik, % 85 i geometri dersinden başarılıdır.

İki dersten de başarısız olan öğrenci olmadığına göre sınıfta en az kaç öğrenci vardır?

- A) 15 B) 18 C) 19 D) 20 E) 25

52.

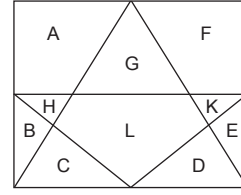
★	K	A	L	E	M
K	L	E	M	K	A
A	E	M	K	A	L
L	M	K	A	L	E
E	K	A	L	E	M
M	A	L	E	M	K

$A = \{K, A, L, E, M\}$  kümesi üzerinde “★” işlemi yukarıdaki tablo ile tanımlanmıştır.

Buna göre  $A^2 \star M^{-2}$  işleminin sonucu aşağıdakilerden hangisidir?

- A) K B) A C) L D) E E) M

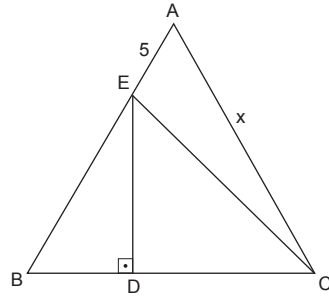
53.



10 bölmeye ayrılmış ve bölmeleri şekildeki gibi A, B, C, D, E, F, G, H, K, L harfleriyle isimlendirilmiş olan levha, 10 farklı renkteki boya ile kaç değişik biçimde boyanabilir?

- A) 9! B) 10! C) 3!•6!  
D) 5!•5! E) 10!•8!

54.



$$[ED] \perp [BC]$$

$$|AE| = 5 \text{ cm}$$

$$|BC| = 12 \text{ cm}$$

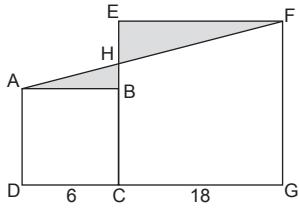
$$|AC| = x \text{ cm}$$

$$m(\widehat{ECB}) = 2 \cdot m(\widehat{BED})$$

Buna göre x in alabileceği en küçük tam sayı değeri kaçtır?

- A) 8 B) 12 C) 13 D) 14 E) 16

55.



ABCD ve EFGC

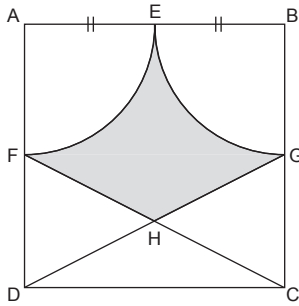
birer kare,

 $|DC| = 6 \text{ cm}$  $|CG| = 18 \text{ cm}$ 

Yukarıdaki verilere göre taralı alanların toplamı kaç  $\text{cm}^2$  dir?

- A) 86 B) 90 C) 92 D) 100 E) 106

56.



Yandaki ABCD karesinde A ve B merkezli çemberler E noktasında birbirine teğettir.

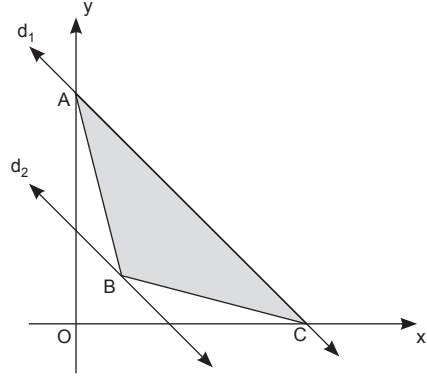
DHG ve FHC doğrusal

 $|AE| = |EB| = 4 \text{ cm}$ 

Yukarıdaki verilere göre taralı bölgenin alanı kaç  $\text{cm}^2$  dir?

- A)  $4 \cdot (2\sqrt{3} - \pi)$  B)  $4 \cdot (3 - \pi)$   
 C)  $6 \cdot (3 - \pi)$  D)  $6 \cdot (5 - \pi)$   
 E)  $8 \cdot (5 - \pi)$

57.



Yukarıdaki şekilde

$$d_1 : 2x + 3y - 18 = 0$$

$$d_2 : 2x + 3y - 12 = 0$$

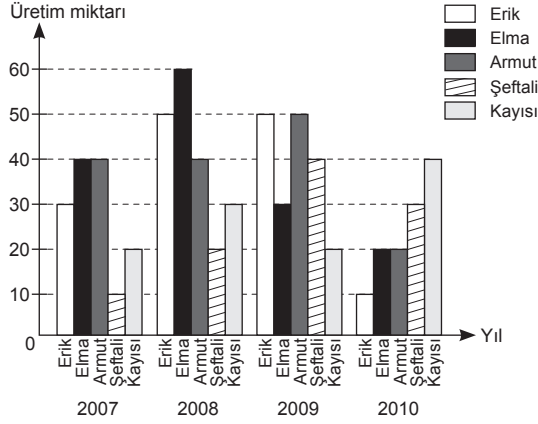
doğruları veriliyor.  $d_1$  doğrusunun eksenleri kestiği noktalar A ve C noktasıdır.

Yukarıdaki verilere göre B noktası,  $d_2$  doğrusu üzerinde bir nokta olduğuna göre ABC üçgeninin alanı kaç birim karedir?

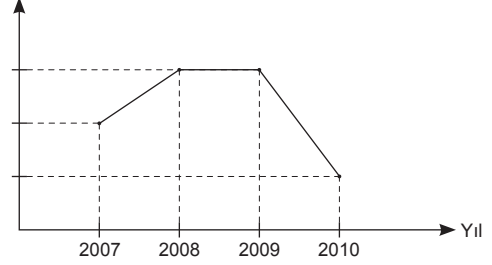
- A) 6 B) 9 C) 12 D) 14 E) 15

**58. – 60. SORULARI AŞAĞIDAKİ BİLGİLERE GÖRE CEVAPLAYINIZ.**

Aşağıdaki grafikte, bir ülkede 2007 - 2010 yıllarındaki erik, elma, armut, şeftali ve kayısı üretimi gösterilmiştir.



**60. Üretim miktarı**



Yukarıdaki grafik, beş ürünün birinin üretim miktarının yıllara göre değişimini göstermektedir.

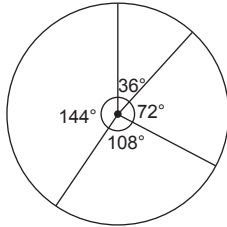
**Grafiğe göre bu ürün aşağıdakilerden hangisidir?**

- A) Erik B) Elma C) Armut  
D) Şeftali E) Kayısı

**58. 2008 yılındaki armut üretimi, aynı yılda beş ürünün toplam üretiminin yüzde kaçındır?**

- A) 20 B) 25 C) 30 D) 35 E) 40

**59.**



Yukarıdaki grafik, beş ürünün birinin 2007 - 2010 yıllarındaki toplam üretiminin yıllara göre dağılımını göstermektedir.

**Yukarıda verilen grafiğe göre bu ürün aşağıdakilerden hangisidir?**

- A) Erik B) Elma C) Armut  
D) Şeftali E) Kayısı

1. Bu testte 60 soru vardır.

2. Cevaplarınızı, cevap kâğıdının Genel Kültür Testi için ayrılan kısmına işaretleyiniz.

1. I. Yabgu  
II. Kut  
III. Kengeş

Yukarıdakilerden hangileri İslamiyet öncesi Türk devletlerinde kullanılan, ülke yönetimi ile ilgili kavramlardan biridir?

- A) Yalnız I      B) Yalnız II      C) Yalnız III  
D) I ve III      E) I, II ve III

2. Aşağıdaki yapılardan hangisi Anadolu Selçuklu Devleti Döneminde hizmet veren kurumlardan biri değildir?

- A) Gevher Nesibe Darüşşifası  
B) Semerkant Medresesi  
C) Konya Alaaddin Camisi  
D) Karatay Medresesi  
E) Hunad Hatun Külliyesi

3. – Uygur alfabesiyle Karahanlılar Döneminde oluşturulmuştur.  
– Ahlaki öğütler içeren özgün bir eserdir.

Özellikleri verilen eser aşağıdakilerden hangisidir?

- A) Atabet'ül Hakayık      B) Divân-ı Hikmet  
C) Makalat      D) Risalet'ün Nushiyye  
E) Kutadgu Bilig

4. Osmanlı Devleti'nde toprağın büyük bir bölümü mirî arazi olarak kabul edilmiştir. Bu arazileri ekip biçenler, devlete ödemeleri gereken vergiyi hükûmetin göstereceği memurlara ve sipahilere ödemiştir.

Buna göre

- I. Mirî arazi uygulamasıyla hazine giderleri azaltılmaya çalışılmıştır.  
II. Osmanlı ordularının önemli bir bölümüne hazine-den para aktarılmamıştır.  
III. Esnaf ve zanaatkârlardan alınan vergiler memurların ve sipahilerin giderlerinin karşılanmasında kullanılmıştır.

yargılarından hangilerinin doğru olduğu savunulabilir?

- A) Yalnız I      B) Yalnız II      C) Yalnız III  
D) I ve II      E) I, II ve III

5. Kanuni Sultan Süleyman Döneminin ünlü denizcisi, coğrafya ve matematik bilgini olarak tanınan; Mirat'ül Memalik adlı eserinde gezip gördüğü yerler hakkında önemli bilgiler veren XVI. yüzyılın önemli Türk şahsiyeti aşağıdakilerden hangisidir?

A) Piri Reis                      B) Murat Reis  
C) Hızır Reis                  D) Seydi Ali Reis  
E) Turgut Reis

6. XVII. yüzyılda Osmanlı Devleti, İstanbul'da ve taşrada ortaya çıkan birçok isyanla uğraşmıştır. Merkez İsyanları ve Celali İsyanları olarak adlandırılan bu isyanlar ekonomik, sosyal ve siyasi alanlarda olumsuz sonuçlara ortam hazırlamıştır.

**Yaşanan bu isyanların aşağıda verilenlerden hangisine ortam hazırladığı savunulamaz?**

A) Bazı hükümdarların tahtlarından indirilmesine  
B) Kısa zamanda çok sayıda devlet adamının azledilmesine ya da öldürülmesine  
C) Birçok isyancıya rütbe veya geniş araziler verilmesine  
D) Ülke içindeki farklı etnik yapıdaki vatandaşların bağımsızlık mücadelesine girmesine  
E) Devlet hazinesinin gelir ve gider dengelerinin bozulmasına

7. 1798'de Napolyon Bonapart'ın Mısır'ı işgal etmesi üzerine Rusya ve İngiltere, Osmanlı Devleti'nin yanında yer alarak bu işgalin sonlandırılmasında etkili olmuşlardır.

**Rusya ve İngiltere'nin böyle bir tutum sergilemesinde,**

- I. Süveyş Kanalı'nın iki devlet için de ekonomik bir öneme sahip olması,  
II. Akdeniz'de siyasi dengelerin değişmesinin ekonomik çıkarları zedeleyebileceği endişesi,  
III. Her iki devletin de Osmanlı ile Fransa arasında başlayabilecek bir dostluktan rahatsızlık duyması

**durumlarından hangileri etkili olmuştur?**

A) Yalnız I                      B) Yalnız II                      C) Yalnız III  
D) I ve II                      E) I, II ve III

8. I. Tanzimat Fermanı'nın ilanı  
II. Kanunuesasi'nin ilanı  
III. Mecelle'nin kabul edilmesi

**Yukarıdakilerden hangileri Osmanlı Devleti'nde anayasal yönetime geçildiğinin doğrudan göstergesidir?**

A) Yalnız I                      B) Yalnız II                      C) Yalnız III  
D) I ve II                      E) II ve III

9. Aşağıdakilerden hangisinin Osmanlı Devleti'nin XIX. yüzyıldaki faaliyetlerinden biri olduğu savunulamaz?

- A) Askerliğin vatan görevi olarak kabul edilmesi
- B) Devlet hazinesinin açıklarını kapatabilmek için ilk kez iç borçlanmaya gidilmesi
- C) Yabancılar şirket ve banka kurabilme, okul açabilme ayrıcalıklarının verilmesi
- D) Denge politikası uygulayarak devletin siyasi varlığının devam ettirmeye çalışılması
- E) Yeniliklerin kalıcı hâle gelebilmesi için Yeniçeri Ocağının kaldırılması

10. I. Dünya Savaşı sırasında Arapların İngilizlerle birlikte hareket etmesinde,

- I. İngilizlerin Mekke Emiri Şerif Hüseyin ile gizli antlaşma imzalaması,
- II. Ümmetçilik anlayışının, milliyetçilik karşısında etkisini kaybetmesi,
- III. Osmanlı Devleti'nin Araplardan aldığı vergilerin Anadolu'ya göre daha ağır olması

**durumlarından hangileri etkili olmuştur?**

- A) Yalnız I      B) Yalnız II      C) I ve II
- D) II ve III      E) I, II ve III

11. Mondros Ateşkes Antlaşması'ndan sonra Anadolu'da millî cemiyetlerin kurulmasında,

- I. ulusal bağımsızlık,
- II. ulusal egemenlik,
- III. liberalizm

**anlayışlarından hangilerinin etkili olduğu savunulabilir?**

- A) Yalnız I      B) Yalnız III      C) I ve II
- D) II ve III      E) I, II ve III

12. Aşağıdakilerden hangisi Temsil Heyeti ile ilgili doğru bir bilgi değildir?

- A) Kuruluşunun temelleri Havza Genelgesi'nde atılmıştır.
- B) Erzurum Kongresi'nde kurulmuştur.
- C) Sivas Kongresi'nde ilk kez yürütme yetkisini kullanmıştır.
- D) Sivas'ta tüm yurdu temsil ettiğini belirterek Osmanlı Hükûmetini yok saymıştır.
- E) Amasya Protokolleri ile hukuki varlığını ilk kez kabul ettirmiştir.

13. İstanbul'un Anlaşma Devletleri tarafından işgal edilmesi ve Mebusan Meclisinin dağıtılmasının aşağıdakilerden hangisine ortam hazırladığı savunulamaz?

- A) Ankara'da yeni bir meclisin açılmasına
- B) Temsil Heyetinin işgallerin iç bölgelere yayılması ihtimaline karşı önlemler almasına
- C) Anadolu'daki İngiliz subaylarının Mustafa Kemal tarafından tutuklatılmasına
- D) Temsil Heyetinin acilen Ankara'ya gelmesine
- E) Temsil Heyetinin İstanbul Hükûmeti ile tüm iletişimini kesmesine

14. Mustafa Kemal, Sivas Kongresi'nin açılışında, "Efendiler! Erzurum Kongresi, bütün ülkenin ve ulusun birleşme ve uyuşma noktasında 'Doğu Anadolu illerinin öteki illerle her bakımdan iş birliği sağlama isteği kesindir.' temel ilkesini kabul etmiştir. Doğaldır ki Sivas Genel Kongremizde, ulusumuzun tek bir beden olduğunu gereği gibi anlatacak ve kanıtlayacak temeller atılır." sözlerine yer vermiştir.

**Mustafa Kemal'in bu sözlerinden Erzurum ve Sivas kongrelerinin aşağıdaki özelliklerinden hangisiyle ilgili bir bilgiye ulaşamaz?**

- A) Erzurum Kongresi'nin ulusal yapısı
- B) Sivas Kongresi'ne katılanların ulusal amaçlarla bir araya geldiği
- C) Mustafa Kemal'in iki kongrede de kongre başkanlığı yaptığı
- D) Mustafa Kemal'in millî birlik ve beraberlik konusunda kararlı olduğu
- E) Sivas Kongresi'nin Erzurum Kongresi'yle paralel amaçlar taşıdığı

15. Birinci TBMM açılmadan önce Mustafa Kemal'in illere, bağımsız sancaklara ve kolordu komutanlıklarına çektiği telgrafta belirttiği, yapılacak seçimler hakkındaki isteklerinden bazıları şunlardır:

- Seçimlere her yerin en büyük sivil yöneticisi başkanlık edecek ve seçimlerin doğru ve yolunda yapılmasından sorumlu olacaktır.
- Seçim gizli oyla ve salt çoğunlukla yapılacak; oyları kurulun kendi içinden seçeceği iki kişi, kurul önünde sayacaktır.

**Buna göre Mustafa Kemal'in, isteklerinde aşağıdaki anlayışlardan hangisini ön planda tuttuğu savunulabilir?**

- A) Saltanat yanlılarının Meclise girmesinin engellenmesini
- B) Ulusal egemenliğin yönetime tam olarak yansıtılmasını
- C) İstanbul Hükûmeti ile uzlaşma yollarının açık tutulmasını
- D) Yasama gücünün antidemokratik yollarla oluşturulmasını
- E) Halifenin gücünden mümkün olduğu kadar faydalanılmasını

16. Yunanistan'ın İzmir'i işgali sırasında,

- I. Yunan kuvvetlerinin bölgedeki Türklere kötü davranması,
- II. işgal karşısında İstanbul Hükûmetinin kayıtsız bir tavır sergilemesi,
- III. Anlaşma Devletleri'nin Yunanistan'ı desteklemesi

**durumlarından hangilerinin Millî Mücadele'ye katılımı artırdığı savunulabilir?**

- A) Yalnız I
- B) Yalnız II
- C) I ve III
- D) II ve III
- E) I, II ve III

17. Mustafa Kemal'in Başkomutanlık Meydan Muharebesi'nden sonra "Ordular! İlk hedefiniz Akdeniz'dir, ileri!" emri ile

- I. Yunan ordularının tamamen imhasını sağlama,
- II. batıda kalan Türk topraklarının kurtarılmasını takiben Antalya ve çevresini de düşman güçlerinden temizleme,
- III. Ege'deki adaların kurtarılmasına yönelik hareket etme

amaçlarından hangilerine yönelik stratejiyi vurguladığı savunulabilir?

- A) Yalnız I
- B) Yalnız II
- C) Yalnız III
- D) I ve II
- E) II ve III

18. Lozan Barış Konferansı'nda İsmet İnönü'nün konferansa katılan devletlerin temsilcilerine konferansa "Mondros'tan değil, Mudanya'dan geldiğini!" vurgulaması,

- I. kazanılan başarıların göz ardı edilmesini engelleme,
- II. Türk ulusunun aleyhine söylemleri ve istekleri önleme,
- III. konferansa katılanlar arasında çıkar çatışmalarının önüne geçme

amaçlarından hangilerini sağlamaya yönelik hareket ettiğinin kanıtıdır?

- A) Yalnız I
- B) Yalnız III
- C) I ve II
- D) II ve III
- E) I, II ve III

19. Kurtuluş Savaşı'nda İtilaf Devletleri arasında fikir ayrılıklarının yaşanmasında,

- I. II. İnönü,
- II. Gediz,
- III. Sakarya

muharebelerinden hangilerinin etkili olduğu savunulabilir?

- A) Yalnız I
- B) Yalnız II
- C) Yalnız III
- D) I ve II
- E) I, II ve III

20. Atatürk Döneminde,

- I. Halk,
- II. Serbest Cumhuriyet,
- III. Terakkiperver Cumhuriyet,

partilerinden hangilerinin kurulmasında çok partili hayata geçişi sağlama amacı bulunmaktadır?

- A) Yalnız I
- B) Yalnız III
- C) I ve II
- D) II ve III
- E) I, II ve III

21. Cumhuriyet Döneminde Osmanlı eğitim sisteminde var olan mektepli - medreseli ayrılığının,

- I. Öğretim Birliği Kanunu'nun çıkarılması,
- II. Maarif Nezaretinin kurulması,
- III. Türk Tarih Kurumunun kurulması

faaliyetlerinden hangileriyle kaldırıldığı savunulabilir?

- A) Yalnız I
- B) Yalnız II
- C) I ve III
- D) II ve III
- E) I, II ve III

22. İzmir İktisat Kongresi'nde,

- demir yollarının yapılması,
- ulusal ekonominin geliştirilmesini engelleyecek tariflerin verilmemesi,
- ham maddesi yurt içinde olan üretim dallarının geliştirilmesi

yönünde kararlar alınmıştır.

Buna göre kongre ile ilgili aşağıdaki yargılardan hangisi doğru değildir?

- A) Bağımsızlık ilkesi temel alınmıştır.
- B) Devletçilik resmî devlet politikası olmuştur.
- C) Dışa bağımlılık engellenmeye çalışılmıştır.
- D) Ticari çıkarlar korunmaya çalışılmıştır.
- E) Kongreye milliyetçi bir ruh hâkim olmuştur.

23. – Unvan ve lakapların yasaklanması  
– Medeni Kanun'un kabul edilmesi  
– Tevhid-i Tedrisat Kanunu'nun kabul edilmesi

**Yukarıdaki uygulamaların ortak yönü olarak Türk inkılabının aşağıdaki amaçlarından hangisi gösterilebilir?**

- A) Okuma yazmayı kolaylaştırma  
B) Laik devlet anlayışını güçlendirme  
C) Batı ile olan ilişkileri geliştirme  
D) Kadın haklarını yasal güvence altına alma  
E) Ulusal bağımsızlığı pekiştirme

24. **Atatürk'ün** "... Bugünün gereklerinden biri de kadınlarımızın her bakımdan yükselmelerini sağlamaktır. Onun içindir ki kadınlarımız da bilgin ve bilge olacaklar ve erkeklerin geçtikleri bütün öğretim basamaklarından geçeceklerdir..." **sözü doğrultusunda,**

- I. karma eğitime geçilerek kız çocuklarının erkeklerle aynı imkânlardan yararlanması,  
II. kız çocuklarının da öğretmen olabilmelerini sağlamaya yönelik okullar kurulması,  
III. kadınlara evlenme ve boşanma konularında erkeklerle eşit hakların sağlanması

**durumlarından hangilerinin ilk kez Cumhuriyet Döneminde gerçekleştirildiği savunulabilir?**

- A) Yalnız I      B) Yalnız II      C) I ve III  
D) II ve III      E) I, II ve III

25. I. Erkân-ı Harbiye Vekâletinin kaldırılması  
II. Sümerbankın kurulması  
III. Medeni Kanun'un kabul edilmesi  
IV. Şapka İnkılabı'nın yapılması

**Bu gelişmelerin kronolojik sıralaması aşağıdakilerden hangisidir?**

- A) I, II, III, IV      B) I, IV, III, II  
C) II, III, I, IV      D) III, I, II, IV  
E) IV, III, II, I

26. **Atatürk'ün** "Ulusumuzun kendine özgü nitelikleri, her işimizde başarımızın dayanağıdır. Başarımız elbette birlikte olacaktır. Eğer ulus, ortak amaca ortaklaşa çalışarak yürürse kesinlikle başarılı olacaktır." **sözü ile**

- I. halkçılık,  
II. milliyetçilik,  
III. cumhuriyetçilik

**ilkelerinden hangileri arasında doğrudan bir ilişki kurulabilir?**

- A) Yalnız I      B) Yalnız II      C) Yalnız III  
D) I ve II      E) I, II ve III

27. Arap harfleri yerine yeni Türk alfabesinin kabul edilmesine ilişkin yasanın çıkarılmasıyla

- I. inkılapçılık,
- II. milliyetçilik,
- III. laiklik

ilkelerinden hangileri arasında bir ilişki kurulabilir?

- A) Yalnız I      B) Yalnız II      C) Yalnız III  
D) I ve II      E) I, II ve III

28. “Her büyük meydan muharebesinden, her büyük zaferin kazanılmasından sonra yeni bir âlem (dünya) doğmalıdır, doğar. Yoksa başlı başına bir zafer, boşa gitmiş bir gayret olur.”

Atatürk’ün bu sözünde aşağıdaki ilkelerden öncelikle hangisinin önemini vurguladığı savunulabilir?

- A) Milliyetçilik      B) Laiklik  
C) İnkılapçılık      D) Cumhuriyetçilik  
E) Halkçılık

29. Cumhuriyet Döneminde Boğazlar Sorunu’nun gündeme getirilmesinde,

- I. Rusya’nın Balkanlar üzerinde uyguladığı Panславizm Politikası’nı ağırlaştırması,
- II. İngiltere’nin Uzak Doğu’daki çıkarlarını korumaya yönelik hareket etmesi,
- III. Almanya ve İtalya’nın yayılmacı politikalarının tüm dünyayı tehdit etmesi

durumlarından hangileri etkili olmuştur?

- A) Yalnız I      B) Yalnız III      C) I ve II  
D) II ve III      E) I, II ve III

30. Aşağıdaki oluşumlardan hangisi hem Orta Doğu’da barış ve dostluğun sağlanmasına hem de Sovyet Rusya’nın yayılmacı politikalarının engellenmesine yöneliktir?

- A) Bağdat Paktı      B) Balkan Antantı  
C) Sadâbad Paktı      D) Varşova Paktı  
E) Kuzey Atlantik Paktı

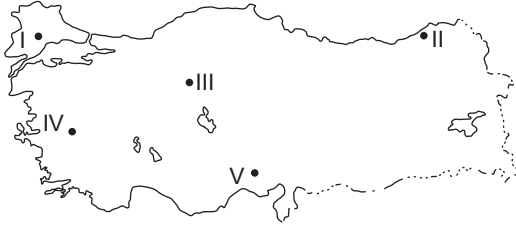
31.



Haritadaki kentlerden hangisinde 13 Mayıs'ta gölge boyu en kısadır?

- A) Mersin B) İzmir C) Ankara  
D) Çanakkale E) Sinop

32. Bir akarsu vadisinin önünün kütle hâlinde kayan toprakla kapanması sonucu heyelan set gölleri oluşur.



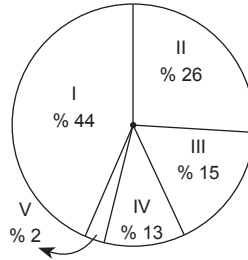
Türkiye'de heyelan olaylarının bölgesel dağılışı düşünüldüğünde, haritada numaralanmış alanların hangisinde heyelan set gölüne rastlanması beklenir?

- A) I B) II C) III D) IV E) V

33. Aşağıdakilerden hangisi Ege Bölgesi'nin genel özelliklerinden biri değildir?

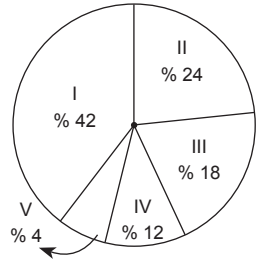
- A) Doğusu, batısına göre daha yüksektir.  
B) Kıyıda delta ovalarına rastlanır.  
C) Orografik yağışlar sıklıkla görülür.  
D) Horst ve graben sistemi yaygındır.  
E) Sağlık turizmi gelişmiştir.

34. Aşağıdaki grafiklerde Türkiye nüfusunun deprem bölgelerine, topraklarının ise deprem derecelerine göre dağılımları gösterilmiştir.



- I. 1. derece  
II. 2. derece  
III. 3. derece  
IV. 4. derece  
V. 5. derece

Nüfusun deprem bölgelerine göre dağılımı



- I. 1. derece  
II. 2. derece  
III. 3. derece  
IV. 4. derece  
V. 5. derece

Nüfusun deprem derecelerine göre dağılımı

Grafikler incelendiğinde, deprem dereceleri ile nüfus dağılışının oransal olarak paralellik gösterdiği dikkat çekmektedir.

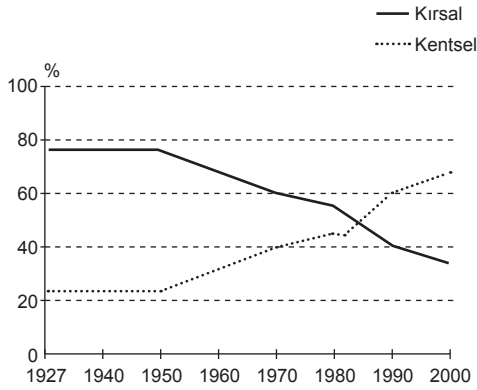
Bu durumun temel nedeni aşağıdakilerden hangisidir?

- A) Deprem bölgelerindeki fiziki, beşerî ve ekonomik şartların yerleşmeye uygun ortam oluşturmaması  
B) Depremi vereceği zararların göz ardı edilmesi  
C) Son yıllarda inşaat altyapısına duyulan güvenin artması  
D) Deprem risklerinin az olduğu yerlerin yaşanabilir olmaması  
E) Deprem sahalarında yerleşmeye engel hukuki yaptırımların olmaması

35. Aşağıdakilerden hangisi Türkiye'nin nüfus özellikleri arasında gösterilebilir?

- A) Nüfusun yaş gruplarına dağılımında en büyük pay 0 - 14 yaş grubuna aittir.
- B) En fazla göç veren bölge İç Anadolu'dur.
- C) Kır nüfus oranı yıldan yıla artarken kent nüfus oranı azalmaktadır.
- D) Aktif nüfusun en fazla istihdam edildiği sektör tarımdır.
- E) Türkiye'de enlem faktörü nüfuslanma ve yerleşme üzerinde etkili değildir.

36.



Yukarıdaki grafik, Türkiye'nin 1927 - 2000 yılları arasındaki kırsal ve kentsel nüfus oranlarının değişimini göstermektedir.

Aşağıdakilerden hangisi bu grafikten çıkarılamaz?

- A) Son yıllarda, nüfusun yarısından fazlası kentlerde yaşamaktadır.
- B) Kent nüfus oranı 1950'den sonra sürekli artmıştır.
- C) 1927 - 1950 yılları arasında kırsal ve kentsel nüfus oranında büyük bir değişiklik olmamıştır.
- D) Kırsal kesimde doğum oranı kentlerden fazladır.
- E) 1980 ile 1990 yılları arasında kırsal ve kentsel nüfus oranı eşitlenmiştir.

37. Aşağıdaki tabloda, Türkiye'deki büyükbaş ve küçükbaş hayvan sayısının yıllara göre dağılımı verilmiştir.

Hayvan türleri (milyon baş)	1935	1950	1990	1995	2000	2005
Sığır	6,5	10,1	11,4	11,8	10,8	10,5
Koyun	13,6	23,0	40,5	33,4	28,5	25,3
Keçi	11,7	18,5	11,0	9,1	7,2	6,5

Tablodaki veriler dikkate alındığında aşağıdakilerden hangisine ulaşamaz?

- A) Toplam hayvan sayısı 1990 yılında en fazladır.
- B) 1950 - 2005 yılları arasında, yetiştirilen keçi sayısı sürekli azalmıştır.
- C) Verilen hayvan türleri arasında en çok beslenen hayvan koyundur.
- D) Verilen yıllar arasında sığır ve koyun sayılarındaki artış ve azalışlar benzerlik göstermektedir.
- E) 1935'te beslenen sığır sayısı 2005'te beslenen keçi sayısına eşittir.

- 38.
  - Akarsularının geneli boğaz vadiler ve oldukça derin kanyonlar açmıştır.
  - Rejimleri incelendiğinde akarsularının kış mevsimindeki debisinin azaldığı görülür.
  - Hidroelektrik potansiyeli düşüktür.
  - Taşımacılığa örnek oluşturacak bir akarsuya sahiptir.

Akarsularımızın Türkiye'deki özellik ve etkileri düşünüldüğünde hangi bölgeye ait bilginin yukarıda verildiği söylenemez?

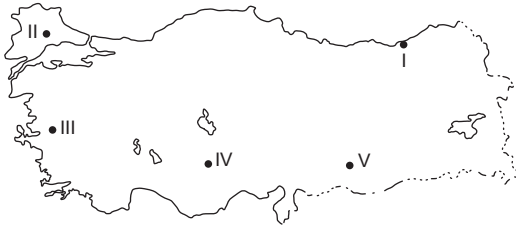
- A) Akdeniz
- B) Doğu Anadolu
- C) Marmara
- D) Karadeniz
- E) Güneydoğu Anadolu

39. • Karın yerde kalma süresi en uzundur.  
• Yağış rejimi düzenlidir.  
• GAP kapsamındadır.  
• Volkanik set göllerinin yoğunlaştığı bir alandır.

Aşağıdaki bölümler yukarıda verilen bilgilerle eşleştirilirse hangi bölüm dışta kalır?

- A) İç Batı Anadolu  
B) Erzurum - Kars  
C) Orta Fırat  
D) Yukarı Murat - Van  
E) Doğu Karadeniz

40. Tarım topraklarında tuz birikmesi olayına çoraklaşma denir. Aşırı yıkanmış topraklarda çoraklaşma az olur.



Buna göre haritada numaralanmış alanlardan hangisinde yer alan toprakta çoraklaşma daha azdır?

- A) I B) II C) III D) IV E) V

41. Makineleşme, köyden kente olan göçü artırmaktadır.



Haritada numaralanmış alanlardan hangisinden yapılan göç bu genellemeye örnek gösterilemez?

- A) I B) II C) III D) IV E) V

42. Uranyum ve toryum gibi radyoaktif minerallerin atomlarının parçalanmasıyla açığa çıkan enerjiye nükleer enerji denir. Türkiye'nin, uranyum yatakları yeterli toryum madeni bakımından ise dünya ikincisidir.

Aşağıdakilerden hangisi Türkiye'nin toryum yataklarını oluşturur?

- A) Manisa - Salihli  
B) Yozgat - Akdağmadeni  
C) Isparta - Uluborlu  
D) Eskişehir - Kızılcaören  
E) Giresun - Tirebolu

43. Türkiye'nin ulaşımıyla ilgili aşağıda verilen bilgilerden hangisi yanlıştır?

- A) Ağır yük taşımacılığında demir yolu daha fazla kullanılmaktadır.  
B) Uluslararası yolcu taşımacılığında hava yolu ulaşımı ön plandadır.  
C) Dağlık ve zorlu arazilerin bir kısmında ulaşım yolları akarsu boylarını izler.  
D) Yükseltisi fazla olan sahaların tümünde hava alanı yapmak güçtür.  
E) Karadeniz ve Akdeniz bölgelerindeki ulaşımında doğal geçitler kullanılmaktadır.

44. Aşağıdaki tabloda, Türkiye'deki organize sanayi bölgelerinin dağılımı gösterilmiştir.

Ege % 22	Akdeniz % 9
Marmara % 21	Doğu Anadolu % 8
Karadeniz % 17	Güneydoğu Anadolu % 7
İç Anadolu % 16	

**Yalnızca tablodan yararlanarak aşağıdaki yargılardan hangisine ulaşılabilir?**

- A) Sanayinin en çok geliştiği bölge Ege'dir.  
 B) Doğu Anadolu'daki sanayi üretimi Güneydoğu Anadolu'dan fazladır.  
 C) Organize sanayi bölgelerinin % 60'ından fazlası kıyı bölgelerimizde toplanmıştır.  
 D) Marmara'daki organize sanayi bölgesi sayısı diğer bölgelerdekilerin yarısından fazladır.  
 E) Karadeniz'de ormana dayalı sanayi daha çok gelişmiştir.

45. • Tarım alanlarının dar ve parçalı,  
 • Makine kullanımının zor,  
 • Ekonomisinde tarımın ön planda,  
 • Yağış rejiminin düzenli olduğu

bir yörede,

- I. tarımsal nüfus yoğunluğu,  
 II. dağınık yerleşme,  
 III. kent nüfus oranı

**özelliklerinden hangilerinin fazla olması beklenir?**

- A) Yalnız I      B) Yalnız III      C) I ve II  
 D) I ve III      E) II ve III

46. Türkiye'de gerçekleşen mevsimlik göçler daha çok yaz aylarında artış göstermektedir.

**Aşağıda verilen mevsimlik göç örneklerinden hangisi belirtilen durumun dışında bir özellik taşır?**

- A) Çukurova'ya pamuk hasadı amaçlı yapılan göçler  
 B) Eskişehir, İstanbul, Ankara gibi merkezlere eğitim amaçlı yapılan göçler  
 C) Giresun'a fındık toplama amaçlı yapılan göçler  
 D) Kuşadası, Side, Marmaris gibi merkezlere tatil amaçlı yapılan göçler  
 E) Denizli'ye tütün toplamak için yapılan göçler

47. Deprem vereceği zarar, aşağıdakilerden hangisinin artmasıyla ters orantılıdır?

- A) Deprem süresi  
 B) Merkez üssüne yakınlık  
 C) İnşaat teknolojisi  
 D) Sıcak su kaynakları  
 E) Volkanik sahalar

48. Aşağıdakilerden hangisi Türkiye'de baraj yapımına uygun arazilerin özellikleri arasında yer almaz?

- A) Akarsuların akış hızları yüksektir.  
 B) Engebe ve eğim değerleri fazladır.  
 C) Akarsularının bir kısmı denge profiline ulaşmıştır.  
 D) Genellikle dağlıktır.  
 E) Erozyon oldukça kuvvetlidir.

49. Medeni hukukta bir şeyi fiilen elinde bulunduran, bir şeyde tasarrufta bulunan kişi anlamına gelen kavram aşağıdakilerden hangisidir?

- A) Zilyet                      B) Malik                      C) Sahip  
D) İlliyyet                      E) Hakkaniyet

51. Aşağıdakilerden hangisi sosyal devletin amaçları arasında yer almaz?

- A) İdarenin mali sorumluluğu olması  
B) İşsizliğin önlenmesi  
C) Fırsat eşitliğinin sağlanması  
D) Millî gelirin adaletli bir şekilde dağıtılması  
E) Sosyal güvenliğin sağlanması

50. “Satım sözleşmesinde aksi bir gelenek veya sözleşme bulunmayan hâllerde, satıcı ile alıcı borçlarını aynı anda ifa eder.”

**Borçlar Kanunu’nun yukarıdaki hükmü ne tür bir hukuk kuralıdır?**

- A) Emredici hukuk kuralı  
B) Tamamlayıcı hukuk kuralı  
C) Tanımlayıcı hukuk kuralı  
D) Yetki verici hukuk kuralı  
E) Yorumlayıcı hukuk kuralı

52. Aşağıda verilen anayasalar ve özellikleri eşleştirmelerinden hangisi yanlıştır?

- A) 1876 - Türk tarihinde ilk anayasadır.  
B) 1921 - Çerçeve anayasadır.  
C) 1924 - Parlamenter sistem benimsenmiştir.  
D) 1961 - Çift meclisli yapı vardır.  
E) 1982 - En sert anayasadır.

53. Aşağıdakilerden hangisi TBMM Başkanlık Divanında yer alanlardan biri değildir?

- A) TBMM başkanı
- B) TBMM başkan vekilleri
- C) Kâtip üyeler
- D) İdare amirleri
- E) Siyasi partilerin grup başkanları

55. Bakanlar Kurulunun kurulmasıyla ilgili aşağıda verilenlerden hangisi yanlıştır?

- A) Cumhurbaşkanı TBMM'deki siyasi partilerden birinin başkanını başbakan olarak atar.
- B) Atanan kişi Bakanlar Kurulu listesini cumhurbaşkanına sunar.
- C) Cumhurbaşkanının listeyi onaylamasıyla Bakanlar Kurulu göreve başlar.
- D) Bir hafta içinde Mecliste hükümet programı okunur ve güvenoyuna sunulur.
- E) TBMM üye tam sayısının salt çoğunluğu ile Bakanlar Kurulu göreve devam eder.

54. Aşağıdakilerden hangisi TBMM'nin görev ve yetkilerinden biri değildir?

- A) Af ilanına karar vermek
- B) Kamu başdenetçisini seçmek
- C) RTÜK üyelerini seçmek
- D) Kanun hükmünde kararname çıkarmak
- E) Para basılmasına karar vermek

56. Aşağıdakilerden hangisi Türk yargı sisteminden 2004 değişikliği ile çıkarılmıştır?

- A) Bölge idare mahkemeleri
- B) Bölge adliye mahkemeleri
- C) Devlet Güvenlik Mahkemeleri
- D) Askerî mahkemeler
- E) Uyuşmazlık Mahkemesi

57. Aşağıdakilerden hangisi hizmet yerinden yönetim kuruluşlarından biri değildir?

- A) Atatürk Üniversitesi
- B) Türkiye Barolar Birliği
- C) Ankara Tabip Odası
- D) TRT
- E) Ankara İl Özel İdaresi

59. 2012'de Eurovision Şarkı Yarışması aşağıdaki ülkelerden hangisinde yapılacaktır?

- A) Almanya
- B) Türkiye
- C) İngiltere
- D) Rusya
- E) Azerbaycan

58. "Bretton Woods İkizleri" de denilen iki önemli uluslararası kuruluş aşağıdakilerden hangisinde doğru olarak verilmiştir?

- A) Avrupa Merkez Bankası - Dünya Bankası
- B) Avrupa Birliği - Avrupa Konseyi
- C) Dünya Bankası - IMF
- D) Uluslararası Adalet Divanı - Avrupa İnsan Hakları Mahkemesi
- E) NATO - INTERPOL

60. 2015 yılında gerçekleştirilecek olan G - 20 toplantılarına aşağıdaki şehirlerden hangisi ev sahipliği yapacaktır?

- A) Marsilya
- B) İstanbul
- C) Maribor
- D) Berlin
- E) Soçi