

KİTAPÇIK TÜRÜ

B

T.C.
MİLLÎ EĞİTİM BAKANLIĞI
YENİLİK VE EĞİTİM TEKNOLOJİLERİ
GENEL MÜDÜRLÜĞÜ

Ölçme, Değerlendirme ve Yerleştirme Grup Başkanlığı

ELGİNKAN VAKFI
BİLGİSAYAR DESTEKLİ TASARIM (AutoCAD) SINAVI
24/08/2013

Adı ve Soyadı :
T.C. Kimlik No :

ALAN	SORU SAYISI	SINAV SÜRESİ (DAKİKA)
AutoCAD	100	120

ADAYLARIN DİKKATİNE!

1. Sınav saat **10.00**'da başlayacaktır. Sınav başladıktan sonra ilk **30** dakika dolmadan dışarı çıkmayınız.
2. Sınav sırasında sözlük, hesap cetveli veya makinesi, çağrı cihazı, cep telefonu, telsiz, radyo gibi elektronik iletişim araçlarını yanınızda bulundurmayınız. Bu araçları kullanmanız ve kopya çekmeye teşebbüs etmeniz hâlinde sınavınız geçersiz sayılacaktır.
3. Başvuru şartlarını taşımadığınız hâlde sınava girmeniz, kopya çekmeniz, başka adayın sınav evrakını kullanmanız, geçerli kimlik belgenizi ve sınav giriş belgenizi ibraz edemediğiniz durumlarda sınavınız geçersiz sayılacaktır.
4. Sınavın değerlendirilmesi aşamasında, bilgisayar ortamında yapılan kopya analizinde ikili veya toplu kopya tespiti hâlinde sınavınız geçersiz sayılacaktır.

CEVAP KÂĞIDI VE SORU KİTAPÇIĞI İLE İLGİLİ AÇIKLAMALAR

1. Cevap kâğıdınızdaki bilgilerin doğruluğunu kontrol ediniz ve cevap kâğıdınızı mürekkepli kalemle imzalayınız.
2. Kitapçık türünüzü cevap kâğıdınızdaki ilgili alana kodlayınız. Değerlendirme işlemleri cevap kâğıdındaki kodlamalara göre yapıldığından, eksik ya da hatalı kodlamalarda sorumluluk size ait olacaktır.
3. Cevap kâğıdı üzerinde kodlamalarınızı kurşun kalemle yapınız.
4. Değiştirmek istediğiniz bir cevabı, yumuşak silgiyle cevap kâğıdını örselemeden temizce siliniz ve yeni cevabınızı kodlayınız.
5. Soru kitapçığının sayfalarını kontrol ediniz, baskı hatası var ise değiştirilmesini sağlayınız.
6. Soru kitapçığının ön yüzündeki ilgili yerlere ad, soyad ve T.C. kimlik numaranızı yazınız.
7. Her sorunun beş seçeneğinden sadece biri doğrudur. Doğru seçeneği, cevap kâğıdınızın ilgili sütununa soru numarasını dikkate alarak yuvarlağın dışına taşırmadan kodlayınız. **Soru kitapçığı üzerinde yapılan cevaplandırmalar dikkate alınmayacaktır.**
8. Yanlış cevaplarınız dikkate alınmadan sadece doğru cevaplarınız üzerinden puanlama yapılacaktır.
9. Soruları ve sorulara verdiğiniz cevapları, yanınızda götürmek amacıyla kaydetmeyiniz; hiçbir şekilde dışarı çıkarmayınız.
10. Sınav bitiminde, soru kitapçığı ve cevap kâğıdını salon görevlilerine teslim ediniz.

BAŞLAYINIZ DENİLMEDEN SORU KİTAPÇIĞINI AÇMAYINIZ.

1. Aşağıdakilerden hangisi Zoom komutunun alt parametresi değildir?

- A) Fence
C) Window
E) All
B) Dynamic
D) Scale

2.  Zoom araç çubuğu üzerinde yer alan yan taraftaki simge hangi komutu çalıştırır?

- A) Extends
C) Previous
E) Dynamic
B) Center
D) Object

3.  Zoom araç çubuğu üzerinde yer alan yan taraftaki simge hangi komutu çalıştırır?

- A) Extends
C) Dynamic
E) All
B) Window
D) Scale

4. Hangi komutla yeni bir nesne çizilemez?

- A) Regen
C) Polygon
E) Circle
B) Line
D) Ellipse

5. AutoCAD programında çokgen çizmek için kullanılan komut aşağıdakilerden hangisidir?

- A) Poliyline
C) Polygon
E) Circle
B) Region
D) Multiline

6. Başlangıç noktası, merkezi ve giriş uzunluğu bilinen bir yayı ekranda oluşturmak için hangi Arc komutunu uyguluyoruz?

- A) Start, Center, End
B) Start, Center, Angle
C) Start, Center, Direction
D) Center, Start, Length
E) Start, Center, Length

7. Aşağıdakilerden hangisi yay çizme komutudur?

- A) Chamfer
C) Spline
E) Arc
B) Circle
D) Radius

8. Çizilmiş olan birden çok nesneyi blok yapmak için aşağıdaki komutlardan hangisi kullanılır?

- A) Insert block
C) Make block
E) Copy with base point
B) Paste
D) Attach

9. AutoCAD'de donut (çift çember arasını boyayarak çizen) komutu hangi menü içerisinde yer almaktadır?

- A) Draw
C) Modify
E) Edit
B) Format
D) Dimension

10. Yeni bir dikdörtgen oluştururken köşelerini yuvarlak çizmek için dikdörtgen komutu altında hangi alt parametre kullanılır?

- A) Chamfer
C) Thickness
E) Elevation
B) Fillet
D) With

11. Herhangi bir kapalı alanı taramak için kullanılan komut aşağıdakilerden hangisidir?

- A) Region B) Solid
C) Wipeout D) Hatch
E) Layer

12. Mtext komutu yazı editöründe yazı karakterlerini seçmek için hangi kısım kullanılır?

- A) Middle B) Symbol
C) Text Height D) Style
E) Font

13. Yandaki çizgi hangi komutla çizilebilir?



- A) Pline B) Spline
C) Line D) Circle
E) Donut

14. Herhangi bir üçgenin uç noktalarından geçen bir çember çizmek için Circle komutunun hangi alt parametresi kullanılır?

- A) 3 points B) 2 points
C) Tan, Tan, Radius D) Tan, Tan, Tan
E) Radius

15. Herhangi bir üçgenin içinde, üç kenarına da teğet olacak şekilde bir çember çizmek için Circle komutunun hangi alt parametresi kullanılır?

- A) Tan, Tan, Radius B) 2 points
C) Tan, Tan, Tan D) Radius
E) 3 points

16. AutoCAD 2012 ile kaç farklı şekilde çember çizilebilir?

- A) 2 B) 3
C) 4 D) 5
E) 6

17. Edge kelimesinin anlamı nedir?

- A) Sınır B) Nesne
C) Seçmek D) Kenar
E) Yay

18. Çap ölçüsü vererek daire çizmek için aşağıdakilerden hangisi kullanılır?

- A) Radius B) Diameter
C) 2P D) TTT
E) Ttr

19. AutoCAD'de serbest elle çizgi çizmek için hangi komut kullanılır?


- A) Sketch B) Circle
C) Edge D) Inscribed
E) Mline

20. Kapalı nesneleri alana (bölgeye) dönüştürmek için hangi komut kullanılır?

- A) Union B) Revolve
C) Pedit D) Region
E) Spline

21.  Draw menüsünde yer alan yan taraftaki simge hangi komutu çalıştırır?


- A) Hatch B) Parallel
C) Multiline D) Spline
E) Polyline

22.  Draw araç çubuğunda yer alan yan taraftaki simge hangi komutu çalıştırır?

- A) Boundary B) Table
C) Quick Calc D) Gradient
E) Properties






23.  Draw araç çubuğunda yer alan yan taraftaki simge hangi komutu çalıştırır?

- A) Circle B) Arc
C) Ellipse D) Donut
E) Ellipse arc






24.  Draw araç çubuğunda yer alan yan taraftaki simge hangi komutu çalıştırır?

- A) Region B) Rectangle
C) Boundary D) Gradient
E) Hatch

25. Arc komutunun araç çubuğu simgesi aşağıdakilerden hangisidir?

- A)  B) 
C)  D) 
E) 

26. Xline komutunun araç çubuğu simgesi hangisidir?

- A)  B) 
C)  D) 
E) 

27. Edit Polyline, Edit Spline, Edit Hatch gibi komutların yer aldığı araç çubuğu aşağıdakilerden hangisidir?

- A) Edit B) Modify II
C) Help D) Modify
E) File

28. Aşağıdakilerden hangisi Modify araç çubuğuna ait komuttur?

- A) Zoom B) Radius
C) Rotate D) Regen
E) Arc

29. Çizilen bir nesneyi 5 kat büyötmek için ne yapılmalıdır?

- A) Scale'den 1/5 B) Stretch'den 1/5
C) Explode'den 1/5 D) Scale'den 5
E) Stretch'den 5

30. Aşağıdakilerden hangisi Modify araç çubuğunda yer alan komutlardan değildir?

- A) Erase B) Mirror
C) Offset D) Trim
E) Block Editor

31. Çizgileri belirtilen bir nesneye kadar uzatmayı sağlayan komut aşağıdakilerden hangisidir?

- A) Extend B) Stretch
C) Spline D) Trim
E) Break

32. Taşıma komutunun kısaltması nedir?

- A) C B) M
C) L D) E
E) TR

33. AutoCAD’de çizilen bir nesne 3 kat küçültmek istendiğinde ne yapılmalıdır?

- A) Scale’ den 3 yazarak
- B) Scale’ den 3/2 yazarak
- C) Scale’ den 1/3 yazarak
- D) Stretch’ den 3/2 yazarak
- E) Stretch’ den 1/3 yazarak

34. AutoCAD’de istenilen mesafe kadar nesneleri öteleyerek çoğaltan komut aşağıdakilerden hangisidir?

- A) Mirror
- B) Move
- C) Array
- D) Copy
- E) Offset

35. Aşağıdakilerden hangisiyle bir merkez etrafında çoklu kopyalama yapılır?

- A) Copy
- B) Align
- C) Path Array
- D) Polar Array
- E) Rectangular Array

36. Seçilen nesnenin belirlenen iki nokta arasında budanmasını sağlayan komut aşağıdakilerden hangisidir?

- A) Join
- B) Divide
- C) Extend
- D) Chamfer
- E) Trim

37. Polar array komutuyla çoğaltılacak nesne sayısını komutun hangi alt parametresi ile belirleriz?

- A) Associative
- B) Items
- C) Levels
- D) Rows
- E) Columns

38. AutoCAD’de nesnelerin köşelerine radius oluşturma komutu aşağıdakilerden hangisidir?

- A) Edit text
- B) Chamfer
- C) Circle
- D) Fillet
- E) Rectangle

39. Tarama düzenleme komutu aşağıdakilerden hangisidir?

- A) Hatchedit
- B) Ddedit
- C) Pedit
- D) Edit
- E) Splinedit

40. Lenghten komutunun kısaltması aşağıdakilerden hangisidir?

- A) L
- B) Le
- C) Len
- D) Leng
- E) Lt

41. Trim komutunun alt parametresi olan “Fence” dair aşağıdakilerden hangisi doğrudur?

- A) Çizgileri uzatır.
- B) Çizim komutudur.
- C) Ölçülendirme aracıdır.
- D) Bir nesne seçim aracıdır.
- E) Çalışmak için herhangi bir komuta ihtiyaç duymaz.

42. Seçilen nesnenin belirtilen iki nokta arasını koparma işleminde hangi komut kullanılır?

- A) Lenghten
- B) Break
- C) Stretch
- D) Rotate
- E) Break at Point






43. Change komutunda nesnelerin çizgi kalınlığını değiştirmek için aşağıdakilerden hangisi kullanılır?

- A) Color B) Elev
C) Ltype D) Ltsscale
E) Lweight

44. Çoklu çizgi düzenleme komutu aşağıdakilerden hangisidir?


- A) Mledit B) Splinedit
C) Pedit D) Join
E) Hatchedit

45. Rotate komutunun araç çubuğu simgesi aşağıdakilerden hangisidir?


- A)  B) 
C)  D) 
E) 

46. Offset komutunun araç çubuğu simgesi aşağıdakilerden hangisidir?

- A)  B) 
C)  D) 
E) 

47.  Modify menüsünde yer alan yan taraftaki simge hangi komutu çalıştırır?

- A) Break B) Scale
C) Explode D) Align
E) Boundary

48.  Modify araç çubuğunda yer alan yan taraftaki simge hangi komutu çalıştırır?


- A) Fillet B) Mirror
C) Chamfer D) Hatch
E) Break

49. Yatay ve dikey çizgi çizmek için hangi komut kullanılır?

- A) Ortho B) Grid
C) Snap D) Endpoint
E) Save

50. AutoCAD'de verilen çizgi kalınlıklarının görünüp veya gizlenmesini kontrol eden durum düğmesi aşağıdakilerden hangisidir?

- A) LWT B) SNAP
C) DYN D) GRID
E) DUCS

51.  Status Bar (Durum Çubuğu) üzerinde yer alan yan taraftaki simge aşağıdaki komutlardan hangisini çalıştırır?

- A) Polar Tracking B) Dynamic Input
C) Osnap D) Transparency
E) Object Snap Tracking

52. Aşağıdakilerden hangisi CAD (Computer Aided Design) kelimesinin karşılığıdır?

- A) Teknik resim
B) Metin düzenleme
C) Resim düzenleme
D) Bilgisayar destekli üretim
E) Bilgisayar destekli çizim ve tasarım

53. 150 mm uzunluğunda ve 15°'lik bir çizgi çizmek istediğimizde komut satırına aşağıdakilerden hangisini yazmamız gerekir?

- A) 150,15° B) @150<15°
C) 150<15° D) @150,15
E) @15°<150

54. Oluşturulan dosya şablonlarının isminden sonra gelen uzantısı hangisidir?

- A) xls B) dwg
C) doc D) dwt
E) dxf

55. Aşağıdakilerden hangisi geçerli anlamına gelir?

- A) Current B) Next
C) First D) Mode
E) Volume

56. Aşağıdaki komut – kısaltma birlikteliklerinden hangisi yanlış verilmiştir?

- A) Single Line Text – t B) Layer – la
C) Scale – sc D) Circle – c
E) Chamfer – cha

57. Aşağıdaki komut – kısaltma birlikteliklerinden hangisi yanlış verilmiştir?

- A) Zoom – z B) Stretch – s
C) Ray – r D) Scale – sc
E) Circle – c

58. Aşağıdaki komut – kısaltma birlikteliklerinden hangisi yanlış verilmiştir?

- A) Distance – di B) Extend – ext
C) View – v D) Break – br
E) Arc – a

59. Aşağıdaki komut – kısaltma birlikteliklerinden hangisi yanlış verilmiştir?

- A) Purge – p B) Measure – me
C) Align – al D) Copy – co
E) Region – reg

60. Aşağıdaki komut – kısaltma birlikteliklerinden hangisi yanlış verilmiştir?

- A) Regen – re B) Fillet – f
C) Revolve – rev D) Polygon – pol
E) Union – un

61. Aşağıdakilerden hangisinde verilen komutun işlevi yanlış yazılmıştır?

- A) Match Properties – Özellik eşleme
B) Properties – Özellik tanımlama
C) Linetype – Çizgi tipi
D) Scale – Sündürme
E) Trim – Budama

62. Aşağıda AutoCAD ile ilgili verilen birlikteliklerden hangisi doğru değildir?

- A) Application Menu – Uygulama menüsü
- B) Construction Line – Sonsuz çizgi çizer.
- C) Workspaces – Çekme menü
- D) Tool Palettes – Araç paletleri
- E) Line type scale – Çizgi tipi ölçeği

63. Aşağıda AutoCAD ile ilgili verilen birlikteliklerden hangisi doğru değildir?

- A) Import – Dosya alışı
- B) Export – Dosya verisi
- C) External References – Çizime dış referans ekleme
- D) Thickness – Kalınlaştırma
- E) OLE Object – Nesne yakalama

64. Aşağıdakilerden hangisi enter tuşunun işlevini görür?

- A) Fare sol tuş
- B) Space Bar
- C) Alt
- D) Ctrl
- E) Alt Gr

65. Araç çubuklarının diğer adı nedir?

- A) Standard menu
- B) Drawing
- C) Toolbars
- D) Export
- E) Express

66. Aşağıdakilerden hangisi yeni bir çizim dosyası açma komutudur?

- A) Open
- B) Undo
- C) Close
- D) New
- E) Save

67. AutoCAD’de bütün araç çubukları kapalıyken çalışma sayfasına herhangi bir araç çubuğu aşağıdakilerden hangisiyle eklenir?

- A) Edit menüsünden Find
- B) Modify menüsünden Properties
- C) Menü çubuğu üzerinde sağ tuş
- D) Programın herhangi bir yerinde fare ile sağ klik yaparak
- E) Tools menüsünden Toolbars altından AutoCAD

68. Aşağıdakilerden hangisiyle AutoCAD programına lisp eklenir?

- A) Edit menüsünden Autolisp
- B) Format menüsünden Autolisp
- C) Insert menüsünden Load Application
- D) Modify menüsünden Autolisp ve Load Application
- E) Tools menüsünden Autolisp ve Load Application

69. Çizim ekranında oluşturulan nesnelerin üst üste gelmesi durumunda hangi nesnenin önde ya da arkada kalacağını belirlememizi sağlayan komutların yer aldığı araç çubuğu aşağıdakilerden hangisidir?

- A) Draworder
- B) Modify
- C) Layers
- D) Modeling
- E) Properties

70. AutoCAD’de seçilmiş bir nesnenin çizim içerisindeki benzerlerini de seçime eklemek için aşağıdakilerden hangisi uygulanır?

- A) Edit menüsünden – Select all
- B) Fare sağ tuş – Select Similar
- C) Fare sağ tuş – Isolate
- D) Select – w
- E) Zoom – all

71. Aşağıdakilerden hangisi işlemi geri alma komutudur?

- A) Redo B) Table
C) Undo D) Clear
E) Hatch

72. AutoCAD'de koordinat sayacı aşağıdakilerden hangisinin üzerinde yer almaktadır?


- A) Menu Bar B) View toolbar
C) Navigation Bar D) Status Bar
E) Ribbon

73. Aşağıdaki klavye kısa yollarından hangisinin işlevi yanlış verilmiştir?

- A) Ctrl + X : İleri al
B) Ctrl + Z : Geri al
C) Ctrl + N : Yeni dosya aç.
D) Ctrl + P : Plot penceresini açar.
E) Ctrl + W : Selection Cycling On / Off

74. AutoCAD'de klavyeden hangi tuşa basıldığında en son kullandığımız komutu çalıştırmış oluruz?

- A) Tab B) Alt
C) Shift D) Enter
E) Ctrl

75. AutoCAD program penceresinin sol en üst köşesinde yer alan  simgesi tıklandığında açılan menü aşağıdakilerden hangisidir?

- A) Edit Menu B) File Menu
C) Application Menu D) View Menu
E) Express Menu

76. Kullanıcı Arayüzü kelimelerinin karşılığı aşağıdakilerden hangisidir?

- A) Crosshair B) User Interface
C) Command line D) Menu Bar
E) Application

77. Eklemeli (Relative) koordinatlarla çizim yaparken nokta koordinatlarının klavyeden yazılımı aşağıdakilerden hangisidir?

- A) X, Y B) @X, Y
C) @L <Açı D) L@X, Y
E) X@Y

78. Sayıların sonuna derece işareti konulmak istenildiğinde klavyeden giriş aşağıdakilerden hangisidir?

- A) %%D B) %%C
C) %%P D) %%uU
E) %%O

79. Çizimde var olan metinleri ve ölçü yazılarını düzenlemeye açarak yeni metinler yazmamıza olanak tanıyan komut aşağıdakilerden hangisidir?

- A) Edit B) Find
C) Ddedit D) Dimedit
E) Center Mark

80. Açık olan çizim dosyasından bir başka dosyaya herhangi bir nesneyi taşımak için hangi komut kullanılır?

- A) Pasteclick B) Move
C) Copy D) Cutclip
E) Copyclip

81. AutoCAD'in mimarlıkla ilgili blokları hangi dosyada toplanmıştır?

- A) Welding B) Kitchen
C) 30 House D) Mechanical
E) Architectural

82. İzometrik çizim yapılırken izometrik düzlemler arası geçişi hangi fonksiyon tuşuyla yaparız?

- A) F3 B) F5
C) F7 D) F8
E) F9

83. Çizim dosyası içinde bulunan bozuk öge ve nesneleri düzelten komut aşağıdakilerden hangisidir?

- A) Recover B) Audit
C) Purge D) Layers
E) Erase

84. Herhangi bir nedenden dolayı bozulan dosyaları düzelterek kurtaran komut aşağıdakilerden hangisidir?

- A) Purge B) Audit
C) Recover D) Layers
E) Erase

85. Plot penceresinde hazır kalem stillerinin seçildiği ve yeni kalem stili oluşturulabilen bölüm aşağıdakilerden hangisidir?

- A) Plot area B) Plot scale
C) Page setup D) Paper size
E) Plot style table

86. Ölçülendirme stilleri aşağıdakilerden hangisi ile düzenlenir ve yönetilir?

- A) Format > Text Style
B) Format > Point Style
C) Format > Table Style
D) Format > Multiline Style
E) Format > Dimension Style

87. Seçilmiş olan nesneyi bütün özelliğiyle aynı nitelikteki başka bir nesneye aktararak değiştiren komut hangisidir?

- A) Copy B) Region
C) Layers D) Match Properties
E) Measure

88. AutoCAD çizim programında çıktı almak için kullanılan komut hangisidir?

- A) Plot B) Publish
C) Print D) Pan
E) Polyline

89. Bir nesnenin bütün özelliklerini tanımlayan ve değiştirebilmek için ortam sağlayan komut aşağıdakilerden hangisidir?


- A) Match properties B) Dimension style
C) Properties D) View
E) Insert

90. Standard araç çubuğu üzerinde bulunan ve hesap makinesi görevini yapan komut aşağıdakilerden hangisidir?


- A) Properties B) Send
C) Design Center D) Publish
E) Quick Calc

91. Üzerinde çalıştığımız dosyayı kaydetmek için hangi komut kullanılır?


- A) Save as B) Save
C) Export D) Plot
E) Import

92.  Standard araç çubuğunda yer alan yan taraftaki simge hangi komutu çalıştırır?

- A) Zoom Realtime B) Zoom Dynamic
C) Kopyala D) Plot Preview
E) Hatch

93.  Standard araç çubuğunda yer alan yan taraftaki simge hangi komutu çalıştırır?

- A) Zoom Realtime B) Zoom Dynamic
C) Zoom Previous D) Zoom Scale
E) Zoom Extent

94.  Standard araç çubuğu üzerinde yer alan yan taraftaki simge hangi komutu çalıştırır?

- A) Delete B) Paste
C) Trim D) Cut
E) Save

95. Çizilen tüm nesneleri ekranda görmemizi sağlayan zoom komutu klavyeden nasıl kullanılır?

- A) Zoom – a B) Zoom – v
C) Zoom – e D) Zoom – p
E) Zoom – c

96. Açık olan AutoCAD çizim dosyasında tanımlanmış sınırlar ile birlikte çizilen tüm nesneleri görmemizi sağlayan zoom komutu klavyeden nasıl kullanılır?

- A) Zoom – a B) Zoom – v
C) Zoom – c D) Zoom – p
E) Zoom – s

97. Aşağıdaki zoom komutlarından hangisi eşzamanlı büyültme / küçültme yapar?

- A) Pan B) Realtime
C) Previous D) Window
E) Object

98. Pan komutu aşağıdakilerden hangisini yapar?

- A) Ekranı kaydırır.
B) Çizilmiş nesneleri hareket ettirir.
C) Görüntüyü yaklaştırır / uzaklaştırır.
D) Nesneleri ölçekli olarak büyütüp / küçültür.
E) Üç boyutlu olarak görüntünün çevresinde döner.

99. Ekranda farenin orta tekerleği çift tıklandığında hangi zoom komutu çalıştırılmış olur?

- A) Realtime B) Dynamic
C) Previous D) Extents
E) Scale

100. Çizimde tanımlanmış sınırlar ile birlikte tüm nesneleri ekrana sığdıran zoom komutu aşağıdakilerden hangisidir?

- A) Pan B) Window
C) Dynamic D) Scale
E) All

TEST BİTTİ.

CEVAPLARINIZI KONTROL EDİNİZ.

SINAV SÜRESİNCE UYULACAK KURALLAR

1. Adaylar, sınav kurallarına ve salon görevlilerinin tüm uyarılarına uymak zorundadırlar. Kurallara ve uyarılara uymayan adayların sınavları geçersiz sayılacaktır.
2. Sınav başladıktan sonra adayların salon görevlileri ve birbirleri ile konuşmaları, kalem, silgi vb. şeyleri istemeleri yasaktır.
3. Adaylar sınav süresince, sınav giriş belgesi ile birlikte kimlik belgelerinden birini (nüfus cüzdanı, pasaport veya sürücü belgesini) masalarının üzerinde bulundurmamak zorundadırlar.
4. Sınav evraklarını teslim etmeyen, soru kitapçıklarının sayfalarından bir kısmını eksik teslim edenlerin sınavları geçersiz sayılacaktır.

SALON GÖREVLİLERİNCE SINAV BAŞLAMADAN ÖNCE ADAYLARA YAPILACAK SON UYARI

- Soracağınız bir şey var mı? Varsa, şimdi sorunuz.
- Sınav başladıktan sonra sorularınıza cevap verilmeyecektir.
- Başlama zilini bekleyiniz.
- Hepinize başarılar dileriz.

(Salon başkanı başlama ve bitiş saatini tahtaya yazacaktır.)

Bu kitapçığın her hakkı saklıdır. Hangi amaçla olursa olsun, kitapçığın tamamının veya bir kısmının Millî Eğitim Bakanlığı Yenilik ve Eğitim Teknolojileri Genel Müdürlüğünün yazılı izni olmadan kopya edilmesi, fotoğraflarının çekilmesi, bilgisayar ortamına alınması, herhangi bir yolla çoğaltılması, yayımlanması veya başka bir amaçla kullanılması yasaktır. Bu yasağa uymayanlar, doğabilecek cezai sorumluluğu ve kitapçığın hazırlanmasındaki mali külfeti peşinen kabullenmiş sayılır.

24 AĞUSTOS 2013 TARİHİNDE YAPILAN
ELGİNKAN VAKFI
BİLGİSAYAR DESTEKLİ TASARIM (Auto CAD) KURS SINAVI
B SORU KİTAPÇIĞI CEVAP ANAHTARI

1. A
2. B
3. C
4. A
5. C
6. E
7. E
8. C
9. A
10. B
11. D
12. E
13. B
14. A
15. C
16. E
17. D
18. B
19. A
20. D
21. C
22. B
23. E
24. A
25. D

26. D
27. B
28. C
29. D
30. E
31. A
32. B
33. C
34. E
35. D
36. E
37. B
38. D
39. A
40. C
41. D
42. B
43. E
44. A
45. B
46. C
47. D
48. C
49. A
50. A

51. E
52. E
53. B
54. D
55. A
56. A
57. C
58. B
59. A
60. E
61. D
62. C
63. E
64. B
65. C
66. D
67. E
68. E
69. A
70. B
71. C
72. D
73. A
74. D
75. C

76. B
77. B
78. A
79. C
80. D
81. E
82. A
83. B
84. C
85. E
86. E
87. D
88. A
89. C
90. E
91. B
92. D
93. C
94. D
95. C
96. A
97. B
98. A
99. D
100. E